

Nội dung bài viết

1. [Hướng dẫn giải bài tập trang 103, 104 SGK Toán 1: Mười ba, mười bốn, mười lăm](#)

Hướng dẫn giải bài tập trang 103, 104 SGK Toán 1: Mười ba, mười bốn, mười lăm

**Bài 1: (Hướng dẫn giải bài tập số 1 SGK)**

a) Mười, mười một, mười hai, mười ba, mười bốn, mười lăm.

.....




**Hướng dẫn giải:**

- a) 10, 11, 12, 13, 14, 15.  
 b) Hình a. Viết lần lượt các số 11, 12, 13, 14.  
 Hình b. Viết lần lượt các số 14, 13, 12, 11.

**Bài 2: (Hướng dẫn giải bài tập số 2 SGK)**

Điền số thích hợp vào ô trống:

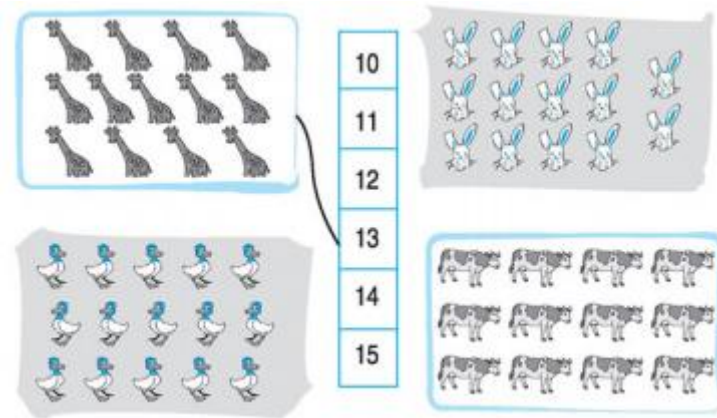


**Hướng dẫn giải:**

- Hình 1: Viết số 13 vào ô trống.  
 Hình 2: Viết số 14 vào ô trống.  
 Hình 3: Viết số 15 vào ô trống.

**Bài 3: (Hướng dẫn giải bài tập số 3 SGK)**

Nói mỗi tranh với một số thích hợp (theo mẫu):



**Hướng dẫn giải:**

Hình 1 nối với số 13.


Hình 2 nối với số 14.

Hình 3 nối với số 15.

Hình 4 nối với số 12.

**Bài 4: (Hướng dẫn giải bài tập số 4 SGK)**

Điền số vào dưới mỗi vạch của tia số:



Điền lần lượt các số sau: 0, 1, 2, 3, 4, 5, 6, 7, 8, 9, 10, 11, 12, 13, 14, 15