

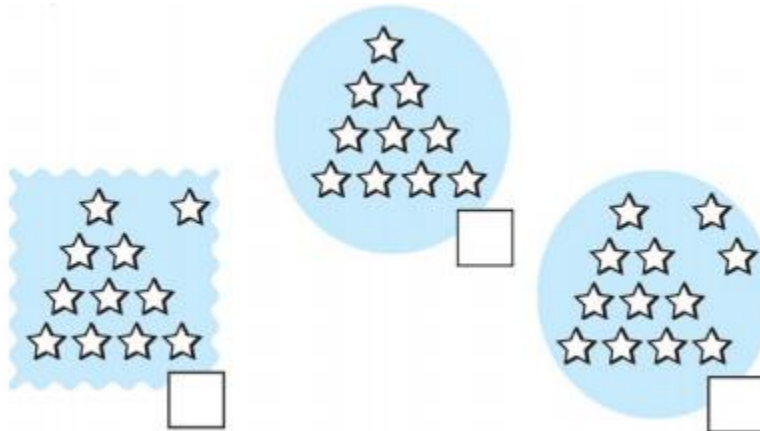
Nội dung bài viết

1. [Hướng dẫn giải bài tập trang 101, 102 SGK Toán 1: Mười một, mười hai](#)

Hướng dẫn giải bài tập trang 101, 102 SGK Toán 1: Mười một, mười hai

Bài 1: (Hướng dẫn giải bài tập số 1 SGK)

Điền số thích hợp vào ô trống:



Hướng dẫn giải:

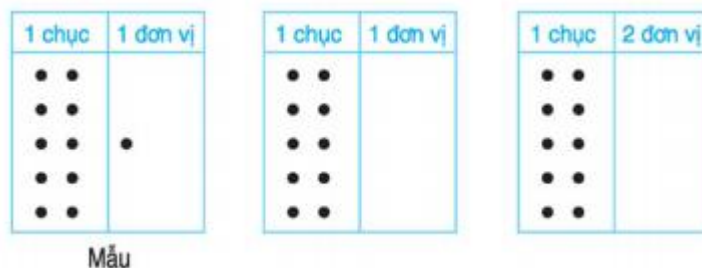
Hình 1: Điền số 11 vào ô trống.

Hình 2: Điền số 10 vào ô trống.

Hình 3: Điền số 12 vào ô trống.

Bài 2: (Hướng dẫn giải bài tập số 2 SGK)

Vẽ thêm chấm tròn (theo mẫu):




Hướng dẫn giải:

Hình 1: Vẽ thêm 1 chấm tròn.

Hình 2: Vẽ thêm 2 chấm tròn.

Bài 3: (Hướng dẫn giải bài tập số 3 SGK)

Tô màu 11 hình tam giác và 12 hình vuông

**Hướng dẫn giải:**

Học sinh tự Tô màu 11 hình tam giác và 12 hình vuông

Bài 4: (Hướng dẫn giải bài tập số 4 SGK)

Điền số thích hợp vào mỗi vạch của tia số

**Hướng dẫn giải:**

Điền lần lượt dưới mỗi vạch của tia số: 0, 1, 2, 3, 4, 5, 6, 7, 8, 9, 10, 11, 12