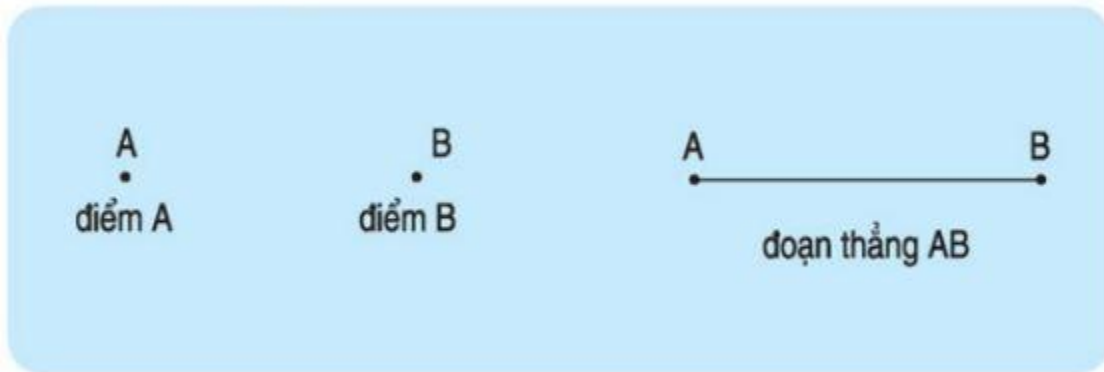


Nội dung bài viết

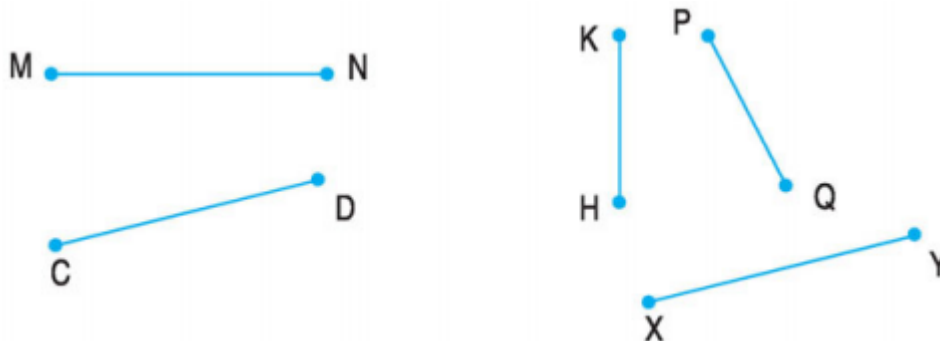
1. [Hướng dẫn giải bài tập trang 94, 95 SGK Toán 1: Điểm, đoạn thẳng](#)

Hướng dẫn giải bài tập trang 94, 95 SGK Toán 1: Điểm, đoạn thẳng



Bài 1: (Hướng dẫn giải bài tập số 1 SGK)

Đọc tên các điểm và các đoạn thẳng:



Phương pháp giải:

- Mỗi một chấm xanh đậm, được kí hiệu bằng một chữ cái in hoa là một điểm.
- Dùng thước thẳng nối hai điểm thì tạo thành một đoạn thẳng, tên gọi của đoạn thẳng là hai điểm đầu mút viết liền.


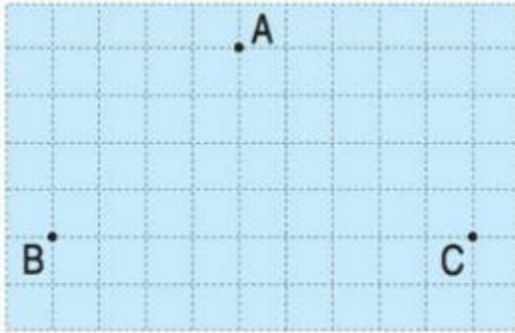
Hướng dẫn giải:

- Các điểm đã cho trong hình là : M; N; C; D; K; H; P; Q; X; Y.
- Các đoạn thẳng là: MN, CD, KH, PQ, XY.


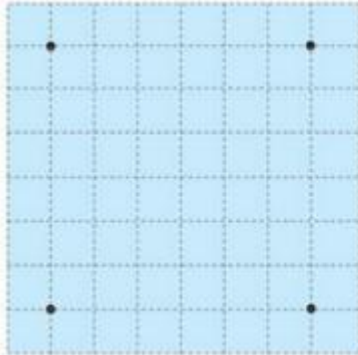
Bài 2: (Hướng dẫn giải bài tập số 2 SGK)

Dùng thước thẳng và bút để nối các điểm

a. 3 đoạn thẳng b. 4 đoạn thẳng



c. 5 đoạn thẳng d. 6 đoạn thẳng



Phương pháp giải:

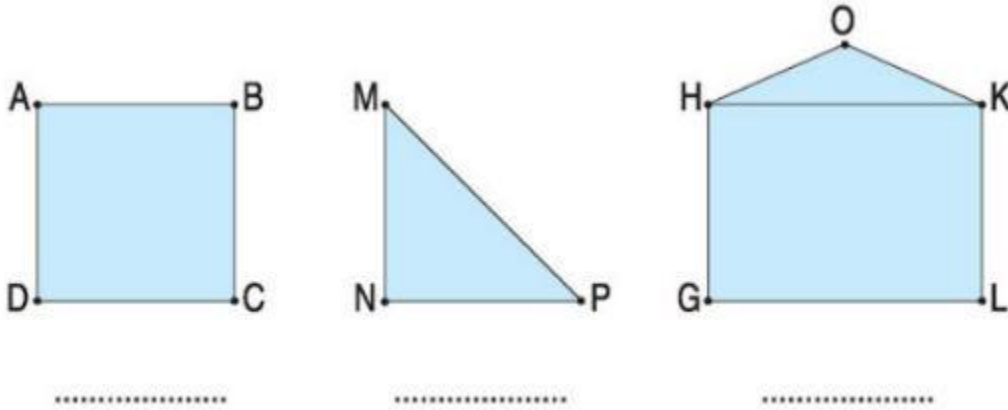
- Dùng thước thẳng nối hai điểm để tạo thành một đoạn thẳng.
- Kể số lượng đoạn thẳng bằng với yêu cầu của đề bài.

Hướng dẫn giải:

Học sinh tự dùng thước thẳng và bút để nối các điểm.

Bài 3: (Hướng dẫn giải bài tập số 3 SGK)

Mỗi hình vẽ dưới đây có bao nhiêu đoạn thẳng?

**Phương pháp giải:**

Đếm số đoạn thẳng có trong mỗi hình rồi điền số thích hợp vào chỗ chấm.

Hướng dẫn giải:

Gọi các hình lần lượt là Hình 1; hình 2; hình 3

- **Hình 1:** Có 4 đoạn thẳng.
- **Hình 2:** Có 3 đoạn thẳng.
- **Hình 3:** Có 6 đoạn thẳng.