

Nội dung bài viết

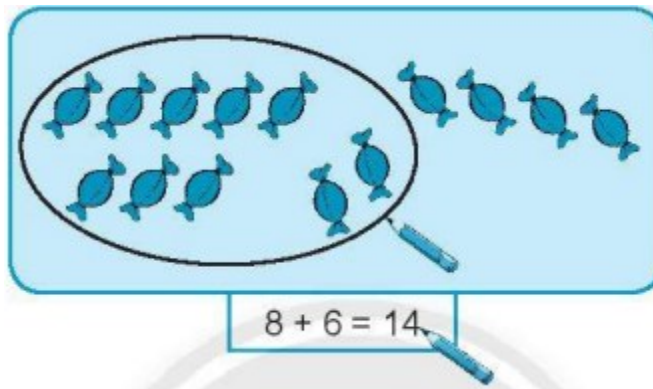
1. [Giải bài: Bảng cộng Vở bài tập Toán 2 Tập 1 - Chân trời sáng tạo](#)
 1. [Giải bài 1 trang 49 VBT Toán 2](#)
 2. [Giải bài 2 trang 49 VBT Toán 2](#)
 3. [Giải bài 3 trang 49 VBT Toán 2](#)
 4. [Giải bài 4 trang 49 VBT Toán 2](#)
 5. [Giải bài 5 trang 49 VBT Toán 2](#)
 6. [Giải bài 6 trang 49 VBT Toán 2](#)
 7. [Giải bài 7 trang 49 VBT Toán 2](#)
 8. [Giải bài 8 trang 49 VBT Toán 2](#)
 9. [Giải bài 9 trang 49 VBT Toán 2](#)
 10. [Giải bài 10 trang 49 VBT Toán 2](#)

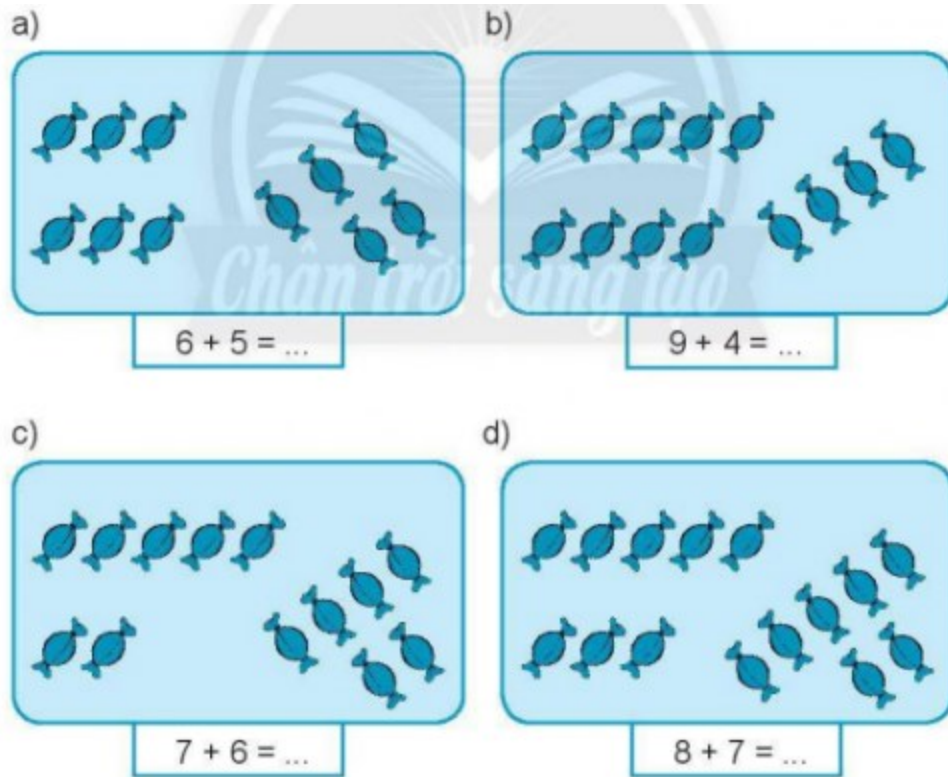
Giải bài: Bảng cộng Vở bài tập Toán 2 Tập 1 - Chân trời sáng tạo

Giải bài 1 trang 49 VBT Toán 2

Khoanh đủ chục rồi viết kết quả (theo mẫu)

Mẫu:





Lời giải:

$$6 + 5 = 11$$

$$9 + 4 = 13$$

$$7 + 6 = 13$$

$$8 + 7 = 15$$

Học sinh khoanh theo mẫu

Giải bài 2 trang 49 VBT Toán 2

Viết số vào chỗ chấm

$$a) 7 + 5 = 7 + \dots + 2$$

$$b) 8 + \dots = 8 + 2 + 5$$

$$6 + 6 = 6 + \dots + 2$$

$$7 + \dots = 7 + 3 + 4$$

$$9 + 7 = 9 + \dots + 6$$

$$9 + \dots = 9 + 1 + 8$$

$$8 + 6 = 8 + \dots + 4$$

$$6 + \dots = 6 + 4 + 3$$

Lời giải

a) $7 + 5 = 7 + 3 + 2$ b) $8 + 7 = 8 + 2 + 5$
 $6 + 6 = 6 + 4 + 2$ $7 + 7 = 7 + 3 + 4$
 $9 + 7 = 9 + 1 + 6$ $9 + 9 = 9 + 1 + 8$
 $8 + 6 = 8 + 2 + 4$ $6 + 7 = 6 + 4 + 3$

Giải bài 3 trang 49 VBT Toán 2

Viết số và các phép cộng còn thiếu để hoàn chỉnh bảng cộng

9+2=11								
9+3=12	8+3=11							
9+4=...	8+4=...	...						
9+5=...	...	7+5=...	...					
...	8+6=...	...	6+6=...	5+6=...				
...	...	7+7=...			
...	8+8=...	5+8=...	...	3+8=...		
9+9=...	...	7+9=...	6+9=...	...	4+9=...	...	2+9=...	

Lời giải:

Ta hoàn thành bảng cộng:

9+2=11								
9+3=12	8+3=11							
9+4=13	8+4=12	7+4=11						
9+5=14	8+5=13	7+5=12	6+5=11					
9+6=15	8+6=14	7+6=13	6+6=12	5+6=11				
9+7=16	8+7=15	7+7=14	6+7=13	5+7=12	4+7=11			
9+8=17	8+8=16	7+8=15	6+8=14	5+8=13	4+8=12	3+8=11		
9+9=18	8+9=17	7+9=16	6+9=15	5+9=14	4+9=13	3+9=12	2+9=11	

Giải bài 4 trang 49 VBT Toán 2

Viết các phép tính ở bảng cộng có tổng là số trong hình tròn

Lời giải:

Giải bài 5 trang 49 VBT Toán 2

Điền dấu $>$, $<$, $=$

$7 + 9 \dots 9 + 7$ $8 + 5 \dots 8 + 6$

$3 + 8 \dots 8 + 3$ $6 + 6 \dots 6 + 5$

Lời giải:

$7 + 9 = 9 + 7$ $8 + 5 < 8 + 6$

$3 + 8 = 8 + 3$ $6 + 6 > 6 + 5$

Giải bài 6 trang 49 VBT Toán 2

Tính nhẩm

$7 + 4 = \dots$ $6 + 8 = \dots$ $5 + 9 = \dots$

$8 + 8 = \dots$ $5 + 7 = \dots$ $9 + 9 = \dots$

Lời giải:

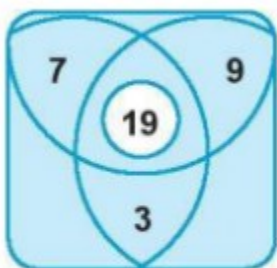
$7 + 4 = 11$ $6 + 8 = 14$ $5 + 9 = 14$

$8 + 8 = 16$ $5 + 7 = 12$ $9 + 9 = 18$

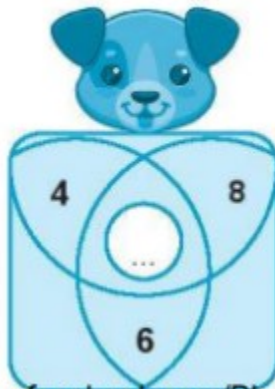
Giải bài 7 trang 49 VBT Toán 2

Viết số vào chỗ chấm (theo mẫu)

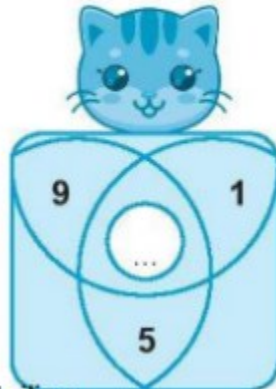
Mẫu:



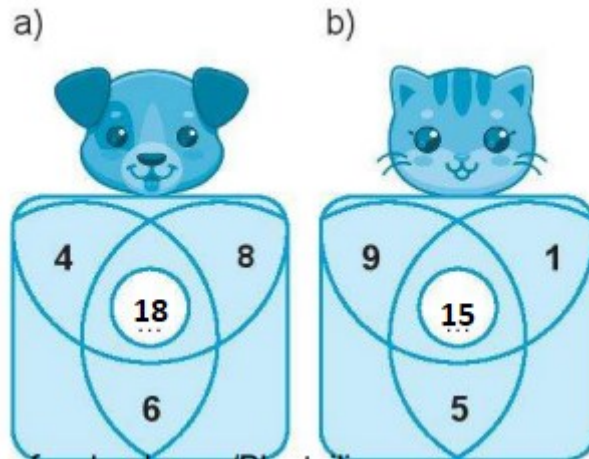
a)



b)

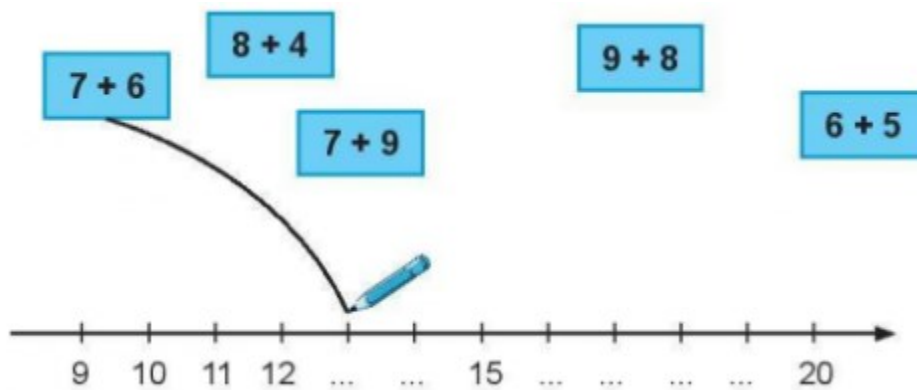


Lời giải:

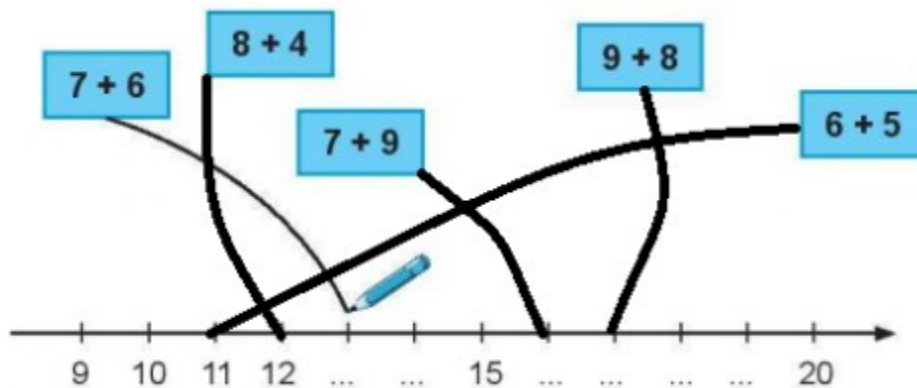


Giải bài 8 trang 49 VBT Toán 2

Nối (theo mẫu)

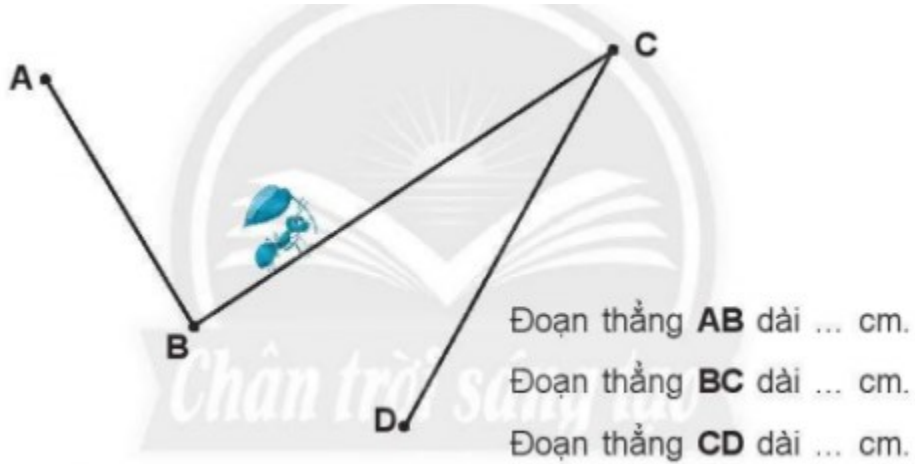


Lời giải:



Giải bài 9 trang 49 VBT Toán 2

Đo rồi viết số vào chỗ chấm



Lời giải:

Các em học sinh đo và ghi kết quả vào chỗ chấm

Giải bài 10 trang 49 VBT Toán 2

Trên sân có 7 con chim sẻ, thêm 6 con nữa bay đến. Hỏi trên sân có tất cả bao nhiêu con chim sẻ?



Trả lời: Có tất cả con chim sẻ

Lời giải:

7	+	6	=	13
---	---	---	---	----

Trả lời: Có tất cả 13 con chim sẻ