

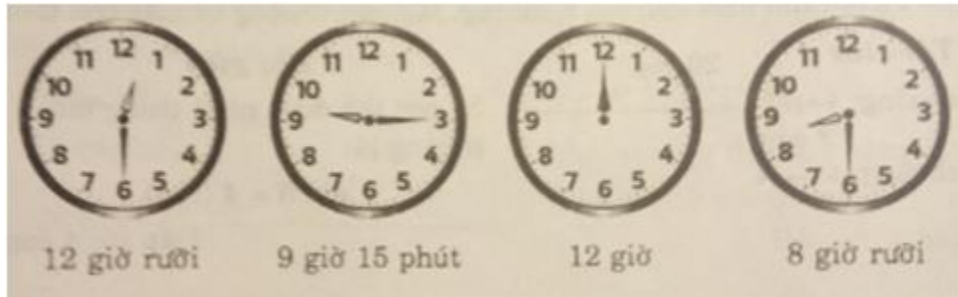
Bài 121 : THỰC HÀNH XEM ĐỒNG HỒ

Giải Bài 121 trang 40 VBT Toán lớp 2 Tập 2

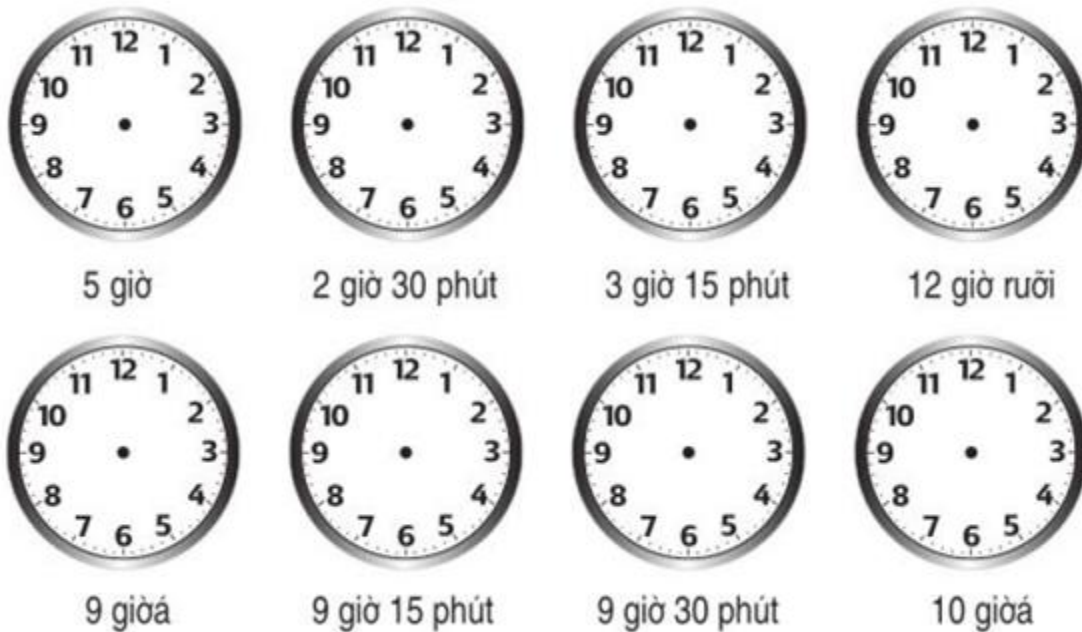
Giải câu 1. Viết giờ thích hợp vào chỗ chấm :




Lời giải:



Giải câu 2. Vẽ thêm kim phút để đồng hồ chỉ thời gian tương ứng (theo mẫu) :



Lời giải:



Giải câu 3. Khoanh vào chữ đặt trước câu trả lời đúng :

Chuông đồng hồ reo vào lúc :

- A. 5 giờ
- B. 6 giờ rưỡi
- C. 5 giờ 30 phút
- D. 7 giờ rưỡi



Lời giải:

Chuông đồng hồ reo vào lúc :

Chọn đáp án B. 6 giờ rưỡi