

Nội dung bài viết

1. [Giải bài: Bài 7 cộng với một số, 6 cộng với một số Vở bài tập Toán 2 Tập 1 - Chân trời sáng tạo](#)
 1. [Giải bài 1 trang 47 VBT Toán 2](#)
 2. [Giải bài 2 trang 47 VBT Toán 2](#)
 3. [Giải bài 3 trang 47 VBT Toán 2](#)
 4. [Giải bài 4 trang 47 VBT Toán 2](#)
 5. [Giải bài 5 trang 47 VBT Toán 2](#)
 6. [Giải bài 6 trang 47 VBT Toán 2](#)

Giải bài: Bài 7 cộng với một số, 6 cộng với một số Vở bài tập Toán 2 Tập 1 - Chân trời sáng tạo

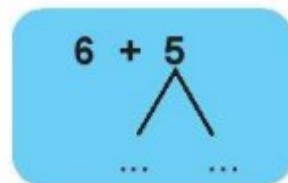
Giải bài 1 trang 47 VBT Toán 2

Viết vào chỗ chấm

Gộp cho đủ rồi cộng với số còn lại



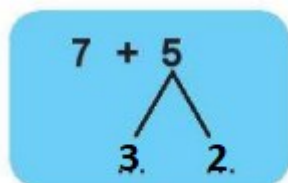
Tách ... ở số sau.



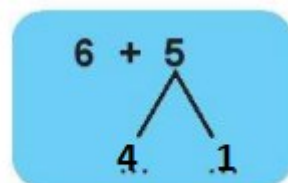
Tách ... ở số sau.

Lời giải:

Gộp cho đủ **10** rồi **cộng** với số còn lại.



Tách **3** ở số sau.



Tách **4** ở số sau.

Giải bài 2 trang 47 VBT Toán 2

Tính nhẩm

$7 + 6 = \dots\dots\dots$

$6 + 6 = \dots\dots\dots$

$7 + 8 = \dots\dots\dots$

$7 + 4 = \dots\dots\dots$

$6 + 5 = \dots\dots\dots$

$6 + 9 = \dots\dots\dots$

Lời giải:

$7 + 6 = 13$

$6 + 6 = 12$

$7 + 8 = 15$

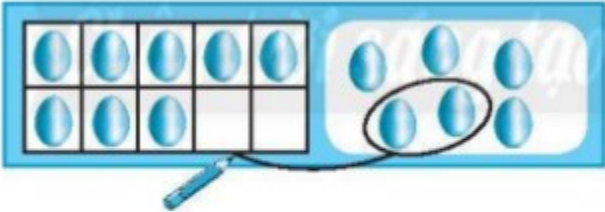
$7 + 4 = 11$


$6 + 5 = 11$


$6 + 9 = 15$

Giải bài 3 trang 47 VBT Toán 2

Làm theo mẫu

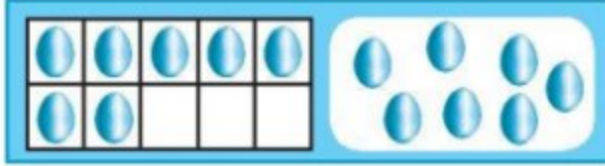
Mẫu:  $8 + 6 = 14$


a) 

b) 

Lời giải:

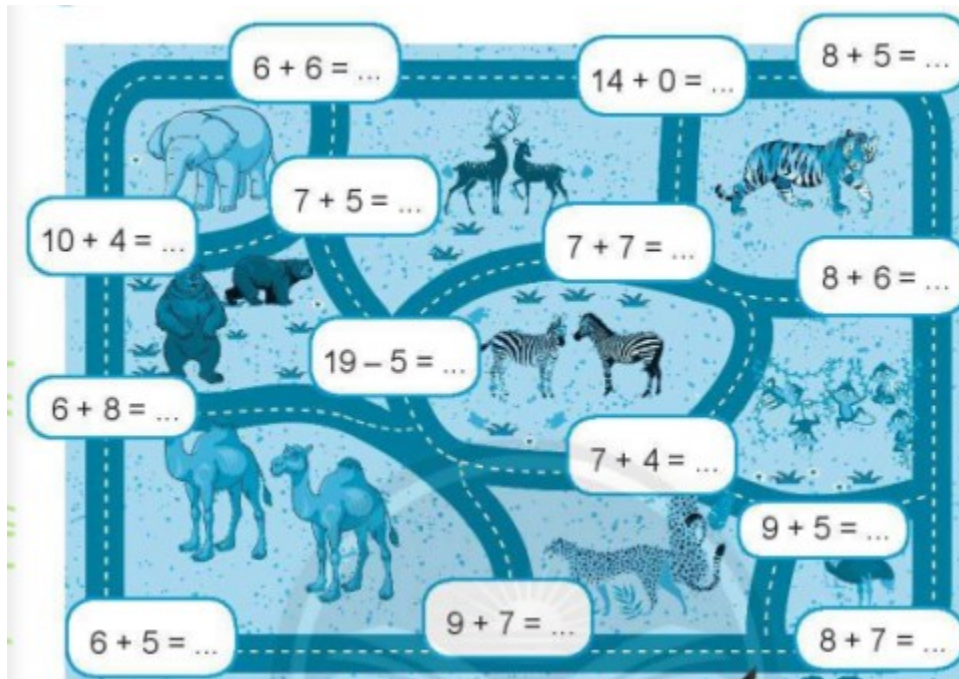
Ta làm như sau:

a)  $7 + 7 = 14$

b)  $9 + 6 = 15$

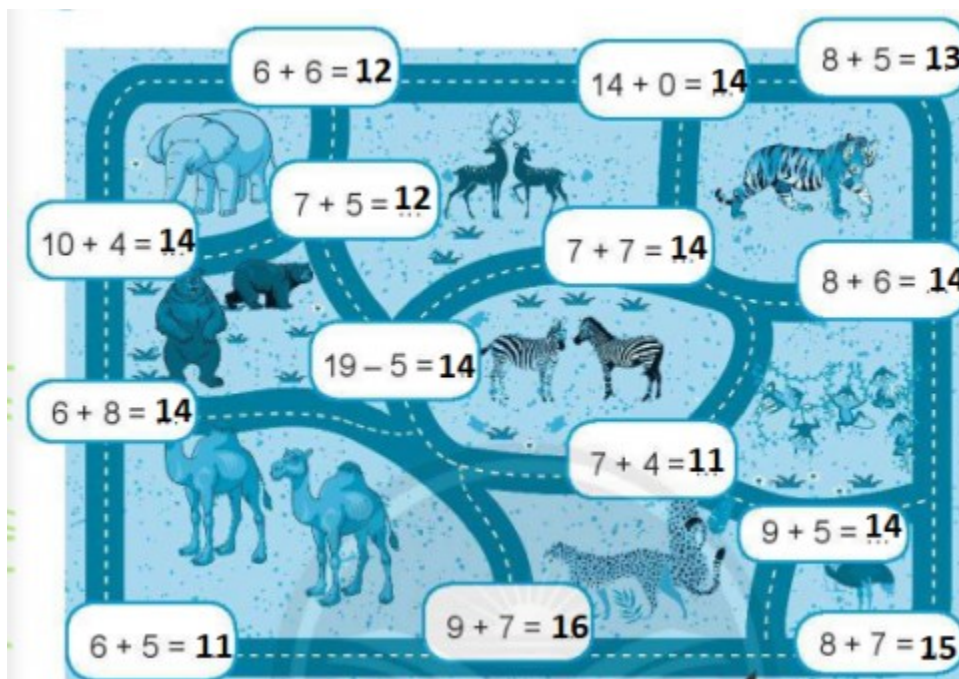
Giải bài 4 trang 47 VBT Toán 2

Tính rồi đi theo các kết quả 14 để đến chuồng voi



Lời giải:

Ta được các kết quả:



Giải bài 5 trang 47 VBT Toán 2

Viết số thích hợp vào chỗ chấm

$8 + \dots = 15 \quad \dots + 4 = 13 \quad 14 = 9 + \dots$

$7 + \dots = 12 \quad \dots + 8 = 16 \quad 11 = 6 + \dots$

Lời giải

$8 + 7 = 15 \quad 9 + 4 = 13 \quad 14 = 9 + 5$

$7 + 5 = 12 \quad 8 + 8 = 16 \quad 11 = 6 + 5$

Giải bài 6 trang 47 VBT Toán 2

Vẽ thêm để mỗi chú bọ rùa có 15 chấm tròn



Lời giải:

Ta tính toán và thêm vào các chấm tròn:

