

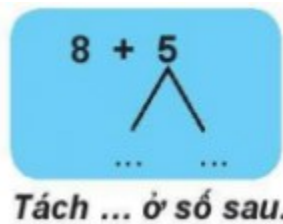
Nội dung bài viết

1. [Giải bài: Bài 8 cộng với một số Vở bài tập Toán 2 Tập 1 - Chân trời sáng tạo](#)
  1. [Giải bài 1 trang 46 VBT Toán 2](#)
  2. [Giải bài 2 trang 46 VBT Toán 2](#)
  3. [Giải bài 3 trang 46 VBT Toán 2](#)
  4. [Giải bài 4 trang 46 VBT Toán 2](#)

*Giải bài: Bài 8 cộng với một số Vở bài tập Toán 2 Tập 1 - Chân trời sáng tạo*

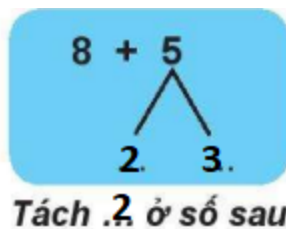
Giải bài 1 trang 46 VBT Toán 2

Viết vào chỗ chấm



*Gộp cho đủ ..... rồi ..... với số còn lại.*

**Lời giải:**



Giải bài 2 trang 46 VBT Toán 2

Tính nhẩm

$8 + 7 = \dots\dots\dots$

$8 + 3 = \dots\dots\dots$

$8 + 5 = \dots\dots\dots$

$8 + 6 = \dots\dots\dots$

$8 + 8 = \dots\dots\dots$

$8 + 9 = \dots\dots\dots$

**Lời giải:**

$8 + 7 = 15$

$8 + 3 = 11$

$8 + 5 = 13$

$8 + 6 = 14$

$8 + 8 = 16$

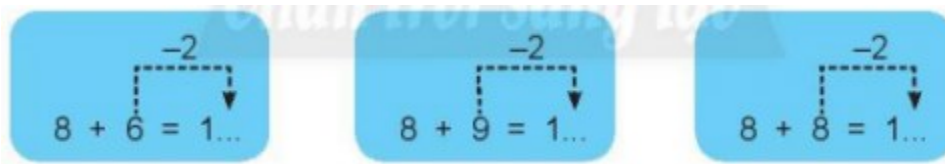
$8 + 9 = 17$

Giải bài 3 trang 46 VBT Toán 2

Quan sát các phép tính sau:

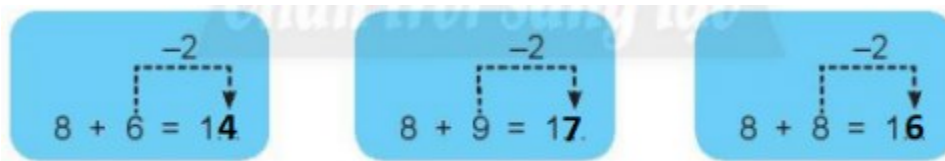


Viết số vào chỗ chấm



Lời giải:

Ta viết các số vào chỗ chấm như sau:



Giải bài 4 trang 46 VBT Toán 2

Nói mỗi bảng với con vật các bạn nuôi



Lời giải:

Ta nối như sau:

