

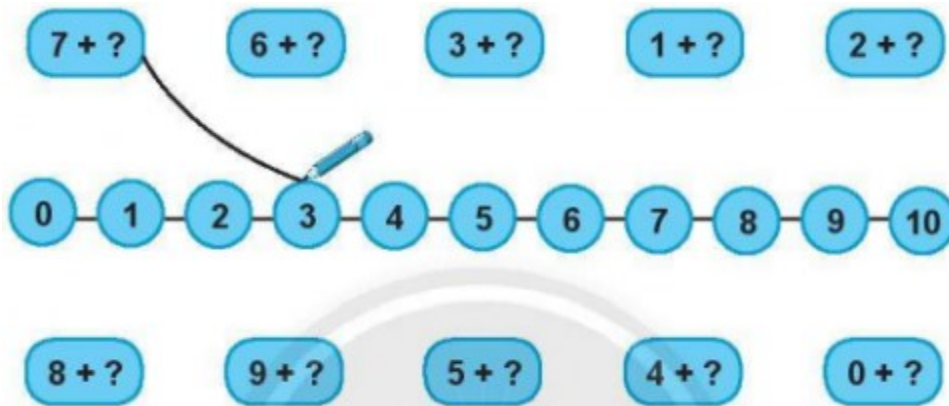
Nội dung bài viết

1. [Giải bài: Phép cộng có tổng bằng 10 Vở bài tập Toán 2 Tập 1 - Chân trời sáng tạo](#)
  1. [Giải bài 1 trang 43 VBT Toán 2](#)
  2. [Giải bài 2 trang 43 VBT Toán 2](#)
  3. [Giải bài 3 trang 43 VBT Toán 2](#)

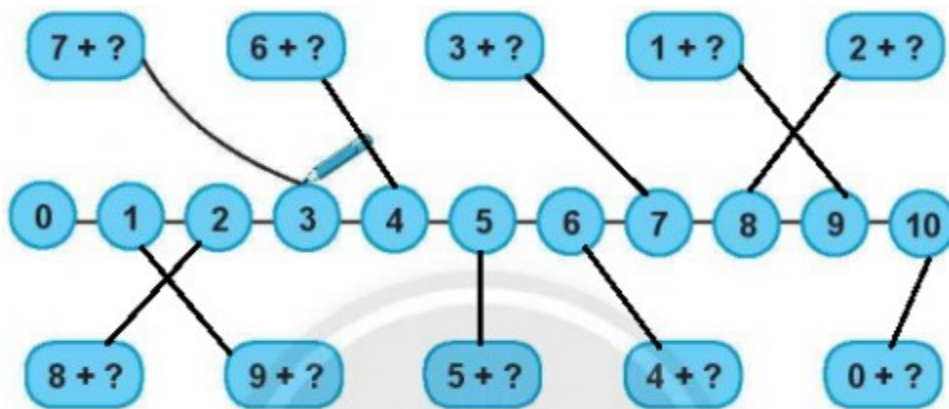
*Giải bài: Phép cộng có tổng bằng 10 Vở bài tập Toán 2 Tập 1 - Chân trời sáng tạo*

Giải bài 1 trang 43 VBT Toán 2

Nói (theo mẫu) để mỗi tổng đều bằng 10



Lời giải:



Giải bài 2 trang 43 VBT Toán 2

Tính:

a)  $4 + 6 + 5 = \dots\dots\dots$

b)  $3 + 7 + 6 = \dots\dots\dots$

c)  $1 + 9 + 8 = \dots\dots\dots$

d)  $8 + 2 + 3 = \dots\dots\dots$

**Lời giải:**

a)  $4 + 6 + 5 = 10 + 5 = 15$

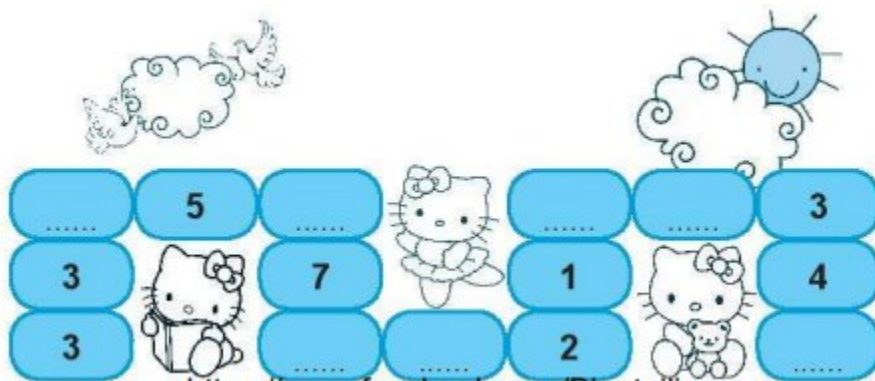
b)  $3 + 7 + 6 = 10 + 6 = 16$

c)  $1 + 9 + 8 = 10 + 8 = 18$

d)  $8 + 2 + 3 = 10 + 3 = 13$

**Giải bài 3 trang 43 VBT Toán 2**

Tìm số, biết ba số theo hàng ngang hay cột dọc đều có tổng là 10.



**Lời giải:**

Ta điền các số như sau:

