

Nội dung bài viết

1. [Giải bài: Em làm được những gì? Vở bài tập Toán 2 Tập 1 - Chân trời sáng tạo](#)
 1. [Giải bài 1 trang 37 VBT Toán 2](#)
 2. [Giải bài 2 trang 37 VBT Toán 2](#)
 3. [Giải bài 3 trang 37 VBT Toán 2](#)
 4. [Giải bài 4 trang 37 VBT Toán 2](#)
 5. [Giải bài 5 trang 37 VBT Toán 2](#)
 6. [Giải bài 6 trang 37 VBT Toán 2](#)
 7. [Giải bài 7 trang 37 VBT Toán 2](#)
 8. [Giải bài 8 trang 37 VBT Toán 2](#)
 9. [Giải bài 9 trang 37 VBT Toán 2](#)

Giải bài: Em làm được những gì? Vở bài tập Toán 2 Tập 1 - Chân trời sáng tạo

Giải bài 1 trang 37 VBT Toán 2

Viết vào chỗ chấm (theo mẫu)

Viết số	Đọc số	Viết số	Đọc số
70	bảy mươi	32	ba mươi hai
61	mười một
45	tám mươi mốt

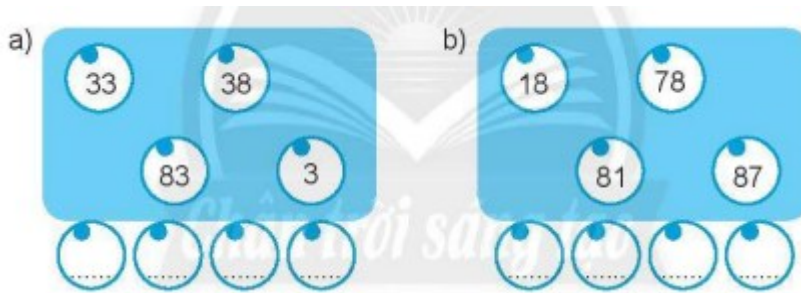
Lời giải:

Ta viết:

Viết số	Đọc số	Viết số	Đọc số
70	bảy mươi	32	ba mươi hai
61	sáu mươi một	11	mười một
45	bốn mươi năm	81	tám mươi mốt

Giải bài 2 trang 37 VBT Toán 2

Tô màu hồng vào ô số lớn nhất, màu xanh vào ô số bé nhất rồi viết các số theo thứ tự từ bé đến lớn vào các ô bên dưới.



Lời giải:

a) Số lớn nhất là 83

Viết theo thứ tự: 3; 33; 38; 83

b) Số lớn nhất là 87

Viết theo thứ tự: 18; 78; 81; 87

Giải bài 3 trang 37 VBT Toán 2

Đặt tính rồi tính

$$48 + 21$$

$$72 + 6$$

$$97 - 45$$

$$38 - 7$$

Lời giải:

Học sinh tự đặt tính

$$48 + 21 = 69$$







$$72 + 6 = 78$$

$$97 - 45 = 52$$

$$38 - 7 = 31$$

Giải bài 4 trang 37 VBT Toán 2

Vẽ kim giờ còn thiếu và viết số thích hợp vào chỗ chấm (theo mẫu)

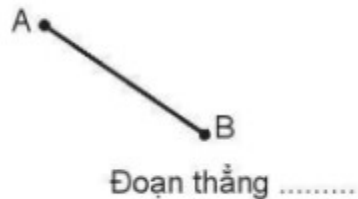
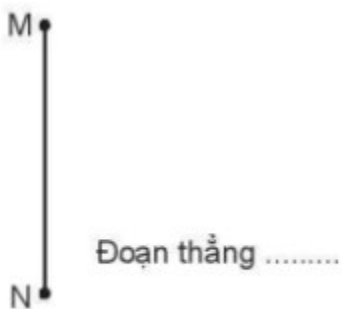
1 giờ trước	Hiện tại
 <p data-bbox="537 510 613 548">8 giờ</p>	 <p data-bbox="992 510 1068 548">9 giờ</p>
 <p data-bbox="492 814 662 850">..... giờ</p>	 <p data-bbox="946 814 1117 850">..... giờ</p>
 <p data-bbox="492 1102 662 1138">..... giờ</p>	 <p data-bbox="946 1102 1117 1138">..... giờ</p>

Lời giải:

1 giờ trước	Hiện tại
 <p>8 giờ</p>	 <p>9 giờ</p>
 <p>..... giờ</p>	 <p>.....3... giờ</p>
 <p>..... giờ</p>	 <p>.....10... giờ</p>

Giải bài 5 trang 37 VBT Toán 2

Viết tên đoạn thẳng vào chỗ chấm



Lời giải:

Hình 1: Đoạn thẳng MN

Hình 2: Đoạn thẳng AB

Giải bài 6 trang 37 VBT Toán 2

Tính rồi sắp xếp các kết quả theo thứ tự từ lớn đến bé

$$7 \text{ dm} + 0 \text{ dm} = \dots\dots\dots$$

$$8 \text{ dm} - 2 \text{ dm} = \dots\dots\dots$$

$$70 \text{ dm} - 30 \text{ dm} = \dots\dots\dots$$

$$90 \text{ dm} - 40 \text{ dm} = \dots\dots\dots$$

..... dm; dm; dm; dm

Lời giải:

$$7 \text{ dm} + 0 \text{ dm} = 7 \text{ dm}$$

$$8 \text{ dm} - 2 \text{ dm} = 6 \text{ dm}$$

$$70 \text{ dm} - 30 \text{ dm} = 40 \text{ dm}$$

$$90 \text{ dm} - 40 \text{ dm} = 50 \text{ dm}$$


Ta sắp xếp:

6 dm; 7 dm; 40 dm; 50 dm

Giải bài 7 trang 37 VBT Toán 2

Tô màu

Tô hình tròn màu đỏ, hình tam giác màu vàng (có thể tô thêm màu và trang trí thành bức tranh)



Lời giải:

Học sinh tự tô màu

Giải bài 8 trang 37 VBT Toán 2

Có 23 con bộ rùa đang đậu trên những bông hoa, thêm 15 con bay đến. Hỏi có tất cả bao nhiêu con bộ rùa?



Trả lời: Có tất cả con bộ rùa

Lời giải:

Ta có:


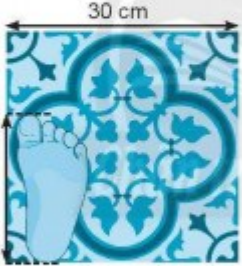

23	+	15	=	38
----	---	----	---	----

Trả lời: Có tất cả 38 con bộ rùa

Giải bài 9 trang 37 VBT Toán 2

Vui học

Đúng ghi đ, sai ghi s

Vật cần đo	Ước lượng	Đo
	khoảng 3 dm <input type="checkbox"/>	45 cm <input type="checkbox"/>
	khoảng 2 dm <input type="checkbox"/>	18 cm <input type="checkbox"/>
	khoảng 3 gang tay <input type="checkbox"/>	5 dm <input type="checkbox"/>

Lời giải:

Các em ghi như hình vẽ