

**Bài 118: LUYỆN TẬP***Giải Bài 118 trang 36 VBT Toán lớp 2 Tập 2***Giải câu 1. Tính nhẩm :**

$5 : 5 = \dots\dots$        $20 : 5 = \dots\dots$        $40 : 5 = \dots\dots$

$45 : 5 = \dots\dots$        $10 : 5 = \dots\dots$        $25 : 5 = \dots\dots$

$50 : 5 = \dots\dots$        $30 : 5 = \dots\dots$        $15 : 5 = \dots\dots$

**Lời giải:**

$5 : 5 = 1$        $20 : 5 = 4$        $40 : 5 = 8$

$45 : 5 = 9$        $10 : 5 = 2$        $25 : 5 = 5$

$50 : 5 = 10$        $30 : 5 = 6$        $15 : 5 = 3$

**Giải câu 2. Số ?**

$3 \times 2 =$

$6 : 3 =$

$6 : 2 =$

$5 \times 3 =$

$15 : 5 =$

$15 : 3 =$

$5 \times 2 =$

$10 : 5 =$

$10 : 2 =$

**Lời giải:**

$$3 \times 2 = 6$$

$$6 : 3 = 2$$

$$6 : 2 = 3$$

$$5 \times 3 = 15$$

$$15 : 5 = 3$$

$$15 : 3 = 5$$

$$5 \times 2 = 10$$

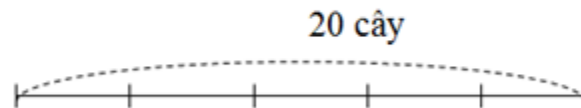
$$10 : 5 = 2$$

$$10 : 2 = 5$$

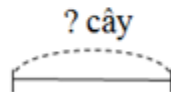
**Giải câu 3. Trồng 20 cây chuối thành 5 hàng đều nhau. Hỏi mỗi hàng có mấy cây chuối ?**

**Tóm tắt**

5 hàng :



1 hàng :



**Lời giải:**

Số cây trong một hàng là :

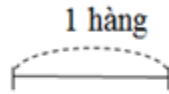
$$20 : 5 = 4 \text{ (cây)}$$

Đáp số : 4 cây

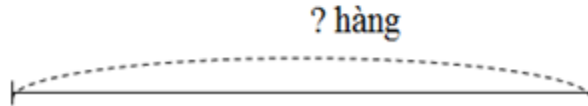
**Giải câu 4. Trồng 20 cây dừa thành các hàng, mỗi hàng có 5 cây dừa. Hỏi có mấy hàng cây dừa được trồng ?**

**Tóm tắt**

5 cây :



20 cây :

**Lời giải:**

20 cây trồng được số hàng là :

$$20 : 5 = 4 \text{ (hàng)}$$

Đáp số : 4 hàng.

**Giải câu 5. Tính nhẩm :**

Chia	Trừ
$25 : 5 = \dots$	$25 - 5 = \dots$
$5 : 5 = \dots$	$5 - 5 = \dots$
$30 : 5 = \dots$	$30 - 5 = \dots$

**Lời giải:**

Chia	Trừ
$25 : 5 = 5$	$25 - 5 = 20$
$5 : 5 = 1$	$5 - 5 = 0$
$30 : 5 = 6$	$30 - 5 = 25$