

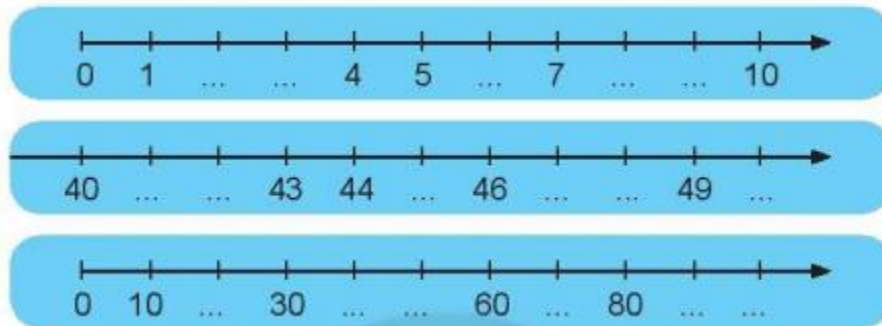
Nội dung bài viết

1. [Giải bài: Tia số - Số liền trước, số liền sau Vở bài tập Toán 2 Tập 1 - Chân trời sáng tạo](#)
 - 1.1. [Giải bài 1 trang 29 VBT Toán 2](#)
 - 1.2. [Giải bài 2 trang 29 VBT Toán 2](#)
 - 1.3. [Giải bài 3 trang 29 VBT Toán 2](#)
 - 1.4. [Giải bài 4 trang 29 VBT Toán 2](#)
 - 1.5. [Giải bài 5 trang 29 VBT Toán 2](#)
 - 1.6. [Giải bài 6 trang 29 VBT Toán 2](#)
 - 1.7. [Giải bài 7 trang 29 VBT Toán 2](#)
 - 1.8. [Giải bài 8 trang 29 VBT Toán 2](#)
 - 1.9. [Giải bài 9 trang 29 VBT Toán 2](#)

Giải bài: Tia số - Số liền trước, số liền sau Vở bài tập Toán 2 Tập 1 - Chân trời sáng tạo

Giải bài 1 trang 29 VBT Toán 2

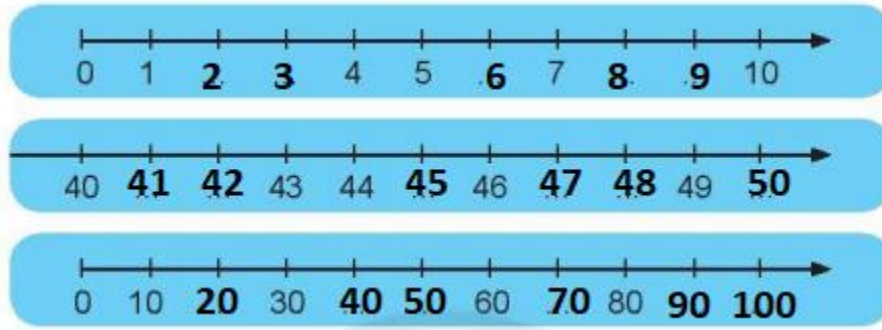
Quan sát các tia số sau



- a) Khoanh số thích hợp vào chỗ chấm ở các tia số trên
- b) Khoanh vào số liền trước của các số: 3; 5; 8
- c) Khoanh vào số liền sau của các số: 49; 43; 40

Lời giải

- a) Ta viết các số còn thiếu như sau:



b) Số 2 liền trước số 3

Số 4 liền trước số 5

Số 7 liền trước số 8

c) Số 50 liền sau số 49

Số 44 liền sau số 43

Số 41 liền sau số 40

Giải bài 2 trang 29 VBT Toán 2

Quan sát ba tia số ở bài 1

a) Bé hơn hay lớn hơn

Trên các tia số này, số bên phải số bên trái.

b) Dựa vào tia số để so sánh các số

1 9

20 100

47 42

7 6

30 30

46 48

Lời giải

a)

Trên các tia số này, số bên phải **lớn hơn** số bên trái.

b) Dựa vào tia số để so sánh các số

$$1 < 9$$

$$20 < 100$$

$$47 > 42$$

$$7 > 6$$

$$30 = 30$$


$$46 < 48$$

Giải bài 3 trang 29 VBT Toán 2

a) Viết số liền sau.




b) Viết số liền trước

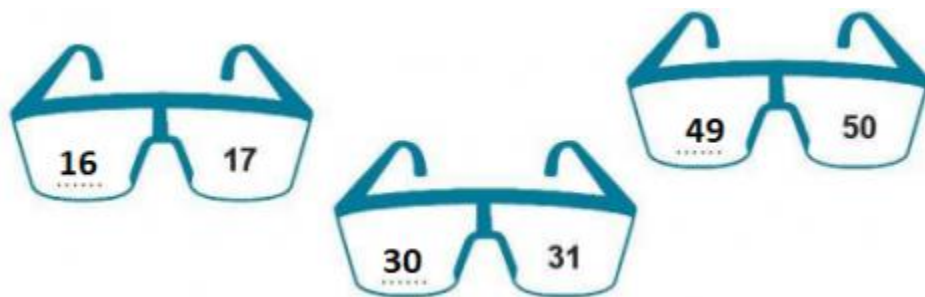


Lời giải

a)



b)



Giải bài 4 trang 29 VBT Toán 2

Viết số vào chỗ chấm để có ba số liên tiếp



Lời giải



Giải bài 5 trang 29 VBT Toán 2

Viết số thích hợp vào chỗ chấm



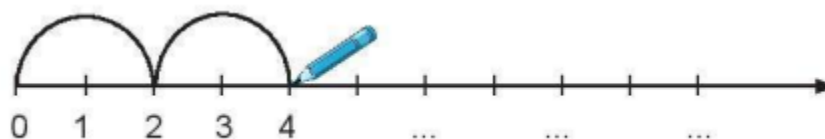
Lời giải



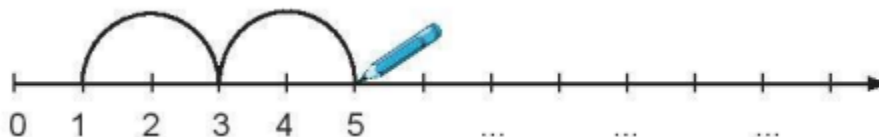
Giải bài 6 trang 29 VBT Toán 2

Đếm thêm 2 (vẽ theo mẫu, viết số vào chỗ chấm)

a)

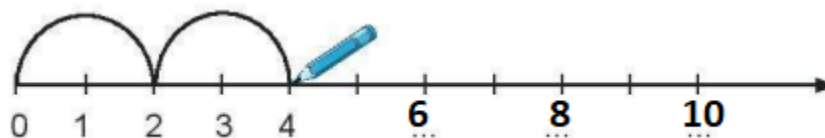


b)

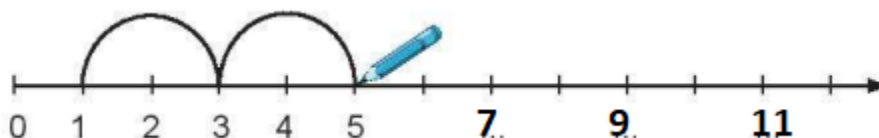


Lời giải

a)



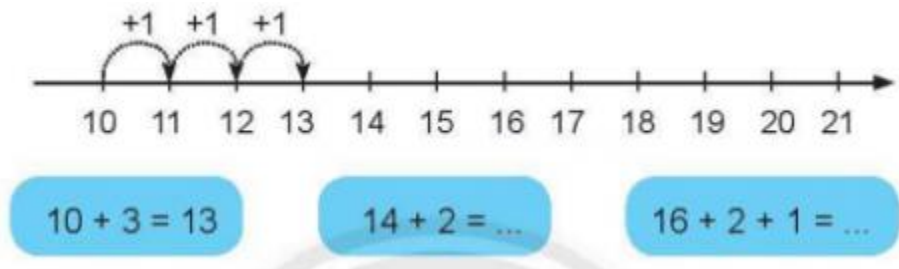
b)



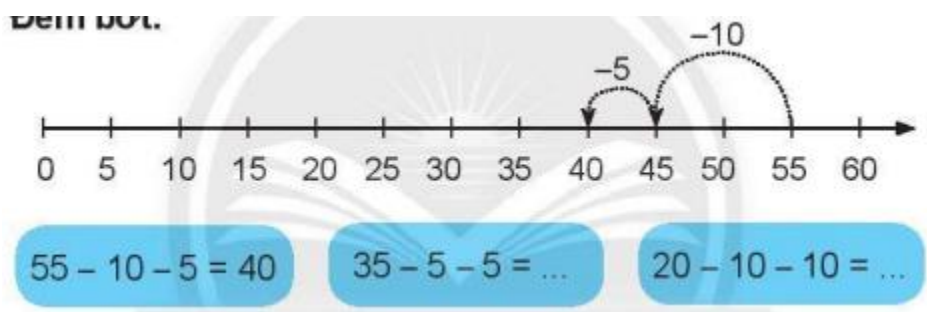
Giải bài 7 trang 29 VBT Toán 2

Dựa vào tia số, tìm kết quả của phép tính.

a) Đếm thêm

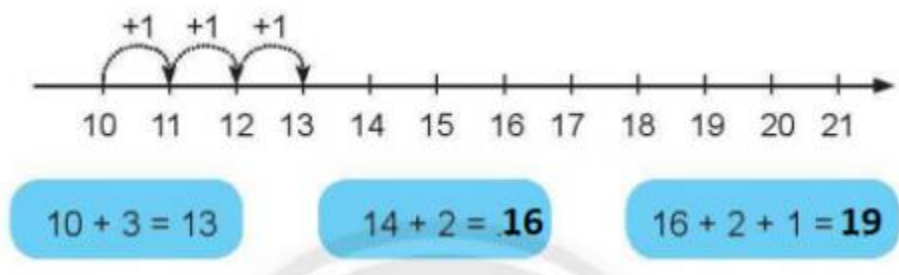


b) Đếm bớt

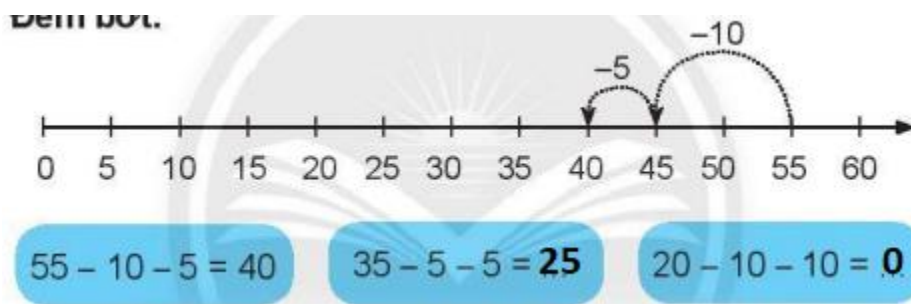


Lời giải

a)

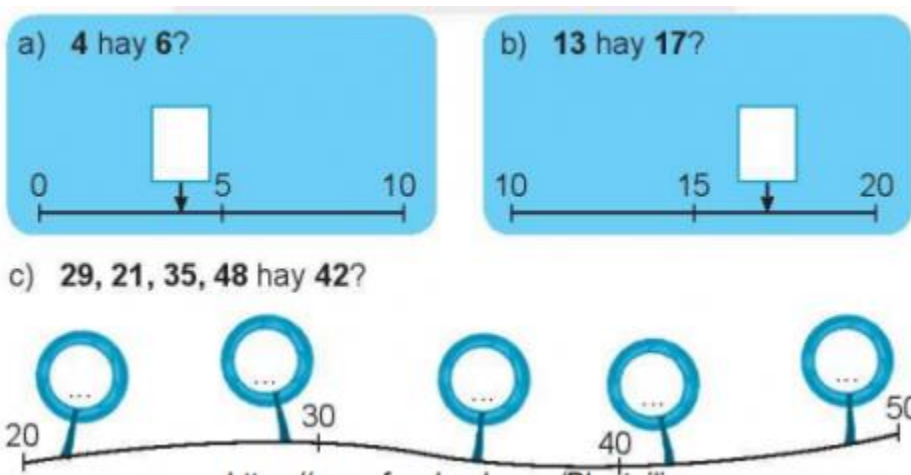


b)

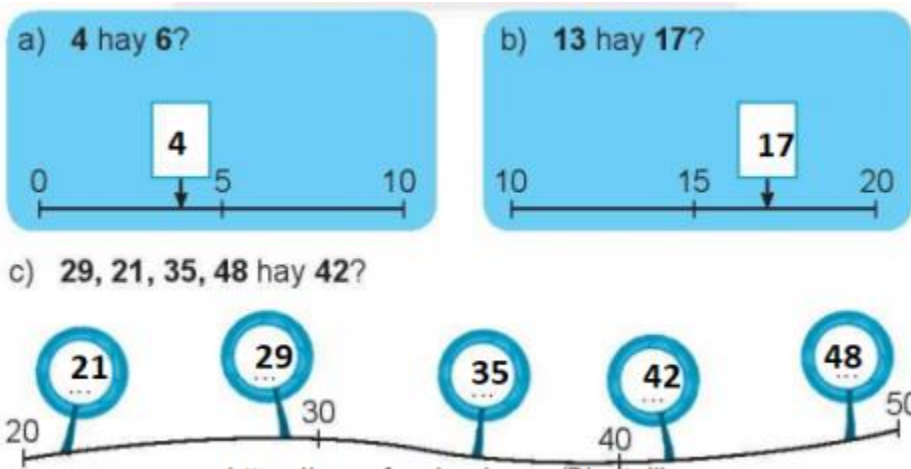


Giải bài 8 trang 29 VBT Toán 2

Viết số thích hợp vào ô trống



Lời giải



Giải bài 9 trang 29 VBT Toán 2

Vui học

Số nhà của tớ là số lớn nhất có hai chữ số.



Số nhà của tớ là số bé nhất có hai chữ số.



Số nhà của tớ là số liền sau của 99.



Chân trời sáng sủa

Số nhà của tớ là số gồm hai chữ số 4 và 7, số này lớn hơn 70.



Số nhà của Hươu Cao Cổ là

Số nhà của Khi là

Số nhà của Đà Điểu là

Số nhà của Voi là

Lời giải

Số nhà của Hươu Cao Cổ là 99

Số nhà của Khi là 10

Số nhà của Đà Điểu là 100

Số nhà của Voi là 74