

Giải bài tập Toán lớp 2: Em làm được những gì trang - Chân trời sáng tạo

Luyện tập

**Bài 1 (trang 55 SGK Toán 2 Tập 2)**

a) Tình hình ảnh phù hợp với số.



b) Sắp xếp các số 530, 300, 350, 305 theo thứ tự từ bé đến lớn.

**Trả lời:**

a) Quan sát tranh, em thấy:

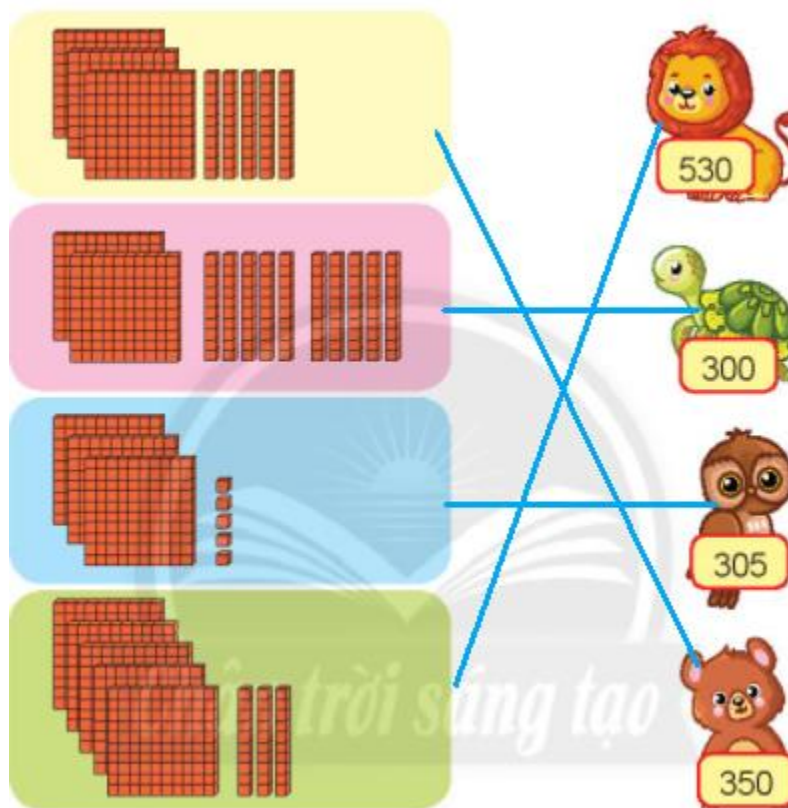
Số thứ nhất gồm 3 thẻ trăm, 5 thẻ chục. Viết là 350. Em nối số thứ nhất với bạn Gấu nâu.

Số thứ hai gồm 2 thẻ trăm, 10 thẻ chục, 10 thẻ chục bằng 1 thẻ trăm nên em có số thẻ trăm là 3. Viết số là 300. Em nối số thứ hai với bạn Rùa.

Số thứ ba gồm 3 thẻ trăm, 5 thẻ đơn vị. Viết là 305. Em nối số thứ 3 với bạn Cú mèo.

Số thứ tư gồm 5 thẻ trăm, 3 thẻ chục. Viết là 530. Em nối số thứ 4 với bạn Sư tử.

Em nối kết quả như sau:

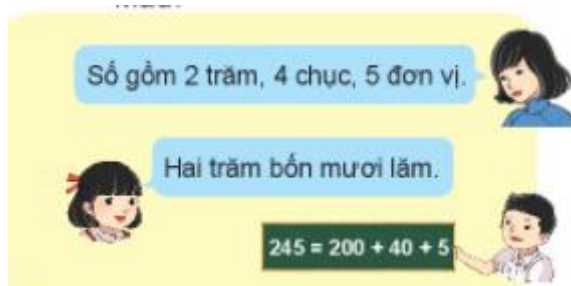


b) 300, 305, 350, 530

**Bài 2 (trang 55 SGK Toán 2 Tập 2)**

Làm theo mẫu.

Mẫu:



Số gồm:

a) 5 trăm, 7 chục, 6 đơn vị.

b) 8 trăm, 3 đơn vị.

c) 9 trăm, 2 chục.

**Trả lời:**

a)  $576 = 500 + 70 + 6$ ; năm trăm bảy mươi sáu

b)  $803 = 800 + 3$ ; tám trăm linh ba

c)  $920 = 900 + 20$ ; chín trăm hai mươi

**Bài 3 (trang 56 SGK Toán 2 Tập 2)**

Viết số, đọc số.

801	802	803		?	806	807	808	?	?
tám	tám	tám			tám	tám	tám		
trăm	trăm	trăm	?		trăm	trăm	trăm		
linh	linh	linh			linh	linh	linh		
một	hai	ba			sáu	bảy	tám		
	812	813	814	815	?	?	?	819	820
	tám	tám	tám	tám				tám	tám
?	trăm	trăm	trăm	trăm				trăm	trăm
	mười	mười	mười	mười				mười	hai
	hai	ba	bốn	lăm				chín	mười

**Trả lời:**

801	802	803	804	805	806	807	808	809	810
tám	tám	tám	Tám	tám	tám	tám	tám	tám	tám
trăm	trăm	trăm	trăm	trăm	trăm	trăm	trăm	trăm	trăm
linh	linh	linh	linh	linh	linh	linh	linh	linh	mười
một	hai	ba	tư	năm	sáu	bảy	tám	chín	
811	812	813	814	815	816	817	818	819	820
tám	tám	tám	tám	tám	tám	tám	tám	tám	tám
trăm	trăm	trăm	trăm	trăm	trăm	trăm	trăm	trăm	trăm
mười	mười	mười	mười	mười	mười	mười	mười	mười	hai
một	hai	ba	bốn	lăm	sáu	bảy	tám	chín	mười

**Bài 4 (trang 56 SGK Toán 2 Tập 2)**

Số?



**Trả lời:**

Ở hàng ngang màu vàng, các số cách nhau 2 đơn vị. Để tìm số đứng sau, em thêm số đứng trước với 2 đơn vị. Các số cần điền vào chỗ trống từ trái sang phải lần lượt là: 908, 910, 914, 920


Ở hàng ngang màu xanh da trời, các số cách nhau 5 đơn vị. Để tìm số đứng sau, em thêm số đứng trước với 5 đơn vị. Các số cần điền vào chỗ trống từ trái sang phải lần lượt là: 420, 435, 440, 450.

Em điền kết quả như sau:



**Bài 5 (trang 56 SGK Toán 2 Tập 2)**

Chọn thẻ số thích hợp cho mỗi cây.



**Trả lời:**

Quan sát hình em thấy:

- Trên tia số:

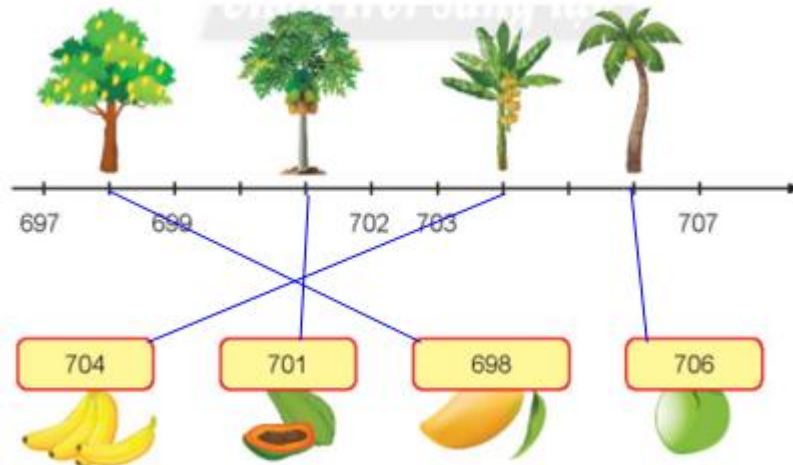
Vị trí của cây xoài là số 698.

Vị trí của cây đu đủ là số 701.

Vị trí của cây chuối là 704.

Vị trí của cây dừa là 706.

Trên mỗi loại quả có một thẻ số, em nối các thẻ số đó với số tương ứng trên tia số, được kết quả như sau:



**Bài 6 (trang 57 SGK Toán 2 Tập 2)**

( $>$ ,  $=$ ,  $<$ )?

$597 \dots\dots 603$

$450 \dots\dots 400 + 50$

$826 \dots\dots 818$

$405 \dots\dots 400 + 5$

$654 \dots\dots 659$

$400 + 50 \dots\dots 400 + 5$

**Trả lời:**

Em thực hiện so sánh tương tự cách so sánh các số có 3 chữ số, kết quả như sau:

$597 < 603$

$450 = 400 + 50$

$826 > 818$

$405 = 400 + 5$

$654 < 659$

$400 + 50 > 400 + 5$


**Bài 7 (trang 57 SGK Toán 2 Tập 2)**

Sắp xếp các túi kẹo từ ít tới nhiều.



**Trả lời:**

Thực hiện phép so sánh các số có ba chữ số, em được kết quả như sau:



**Bài 8 (trang 57 SGK Toán 2 Tập 2)****Trả lời:**

Tổ 1 được thưởng 68 bông hoa, tổ 2 được thưởng 93 bông hoa. Tính số bông hoa tổ 2 được thưởng nhiều hơn tổ 1, em thực hiện phép trừ:  $93 - 68 = 25$  (bông hoa)

Em trình bày như sau:

Bài giải

Tổ hai được thưởng nhiều hơn tổ một số bông hoa là:

$$93 - 68 = 25 \text{ (bông hoa)}$$

Đáp số: 25 bông hoa.

**Bài 9 (trang 58 SGK Toán 2 Tập 2)**

Quan sát bức tranh.



- a) Con đường từ nhà bạn Sên đến nhà bà ngoại của Sên dài bao nhiêu đề-xi-mét?  
 b) Bạn Sên xuất phát từ nhà lúc 7 giờ sáng thứ Bảy, ngày 19 tháng 2 để đến nhà bà ngoại.



Đúng (Đ) hay sai (S)?

Sên đến nhà bà ngoại lúc:

- 7 giờ sáng thứ Bảy, ngày 19 tháng 2.
- 7 giờ tối thứ Bảy, ngày 19 tháng 2.
- 7 giờ sáng Chủ nhật, ngày 20 tháng 2.

**Trả lời:**

a) Để tính chiều dài con đường từ nhà bạn Sên đến nhà bà ngoại của Sên, em thực hiện phép tính cộng:  $16 \text{ dm} + 22 \text{ dm} + 42 \text{ dm} = 80 \text{ dm}$ .



b) 24 giờ = 1 ngày, nên Sên đã bò trong 24 giờ nghĩa là Sên đã bò hết 1 ngày. Vì thế đáp án đúng là: Sên đến nhà bà ngoại lúc 7 giờ sáng Chủ nhật ngày 20 tháng 2.

Em trình bày kết quả như sau:

a) Con đường từ nhà bạn Sên đến nhà bà ngoại của Sên dài:  $16 \text{ dm} + 22 \text{ dm} + 42 \text{ dm} = 80 \text{ dm}$

b)

7 giờ sáng thứ Bảy, ngày 19 tháng 2.

S

7 giờ tối thứ Bảy, ngày 19 tháng 2.

S

7 giờ sáng Chủ nhật, ngày 20 tháng 2.

Đ