

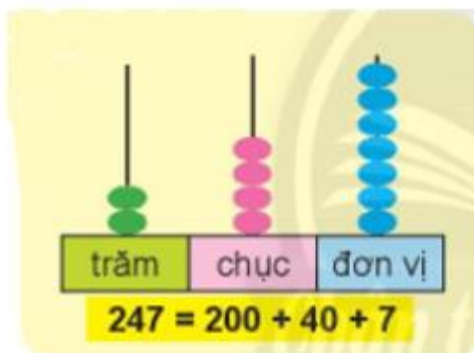
Giải bài tập Toán lớp 2: Viết các số thành tổng các trăm, chục, đơn vị - Chân trời sáng tạo

Thực hành

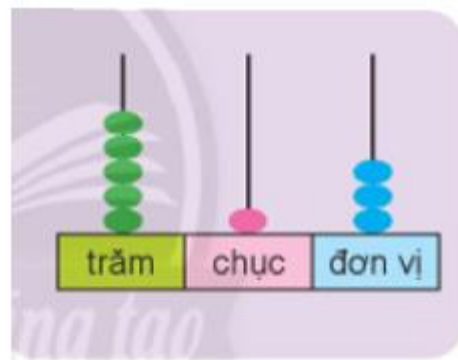
Bài 1 (trang 51 SGK Toán 2 Tập 2)

Viết theo mẫu.

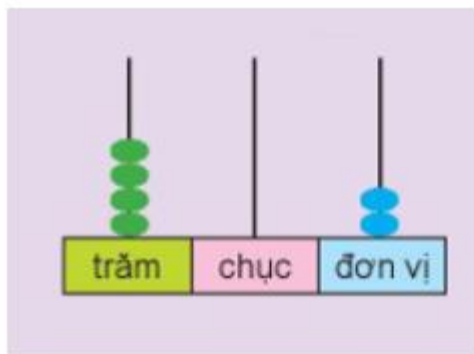
Mẫu:



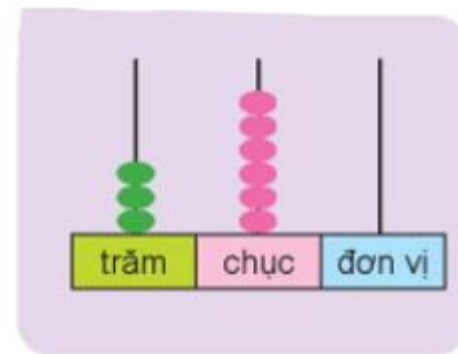
a)



b)



c)



Trả lời:

Quan sát hình mẫu, em thấy;

Giá trị mỗi hạt tính theo màu: xanh lá: 1 trăm, hồng: 1 chục, xanh dương: 1 đơn vị

Các hạt tính trong từng cột: 2 trăm, 4 chục, 7 đơn vị, em có số 247.

a) Các hạt tính trong từng cột: 5 trăm, 1 chục, 3 đơn vị, em có số $513 = 500 + 10 + 3$

b) Các hạt tính trong từng cột: 4 trăm, 0 chục, 2 đơn vị, em có số: $402 = 400 + 2$

c) Các hạt tính trong từng cột 3 trăm, 6 chục, 0 đơn vị, em có số: $360 = 300 + 60$

Em được kết quả như sau:

a) $513 = 500 + 10 + 3$

b) $402 = 400 + 2$

c) $360 = 300 + 60$

Bài 2 (trang 51 SGK Toán 2 Tập 2)

Viết số thành tổng các trăm, chục, đơn vị.

Mẫu: $861 = 800 + 60 + 1$

a) 792

b) 435

c) 108

d) 96

Trả lời:

a) $792 = 700 + 90 + 2$

b) $435 = 400 + 30 + 5$

c) $108 = 100 + 8$

d) $96 = 90 + 6$

Bài 3 (trang 52 SGK Toán 2 Tập 2)

Tính để tìm cá cho mỗi chú mèo.



Trả lời:

Em thực hiện từng phép tính trên mỗi chú mèo, kết quả như sau:

$$200 + 70 + 1 = 271$$

$$700 + 10 + 2 = 712$$

$$700 + 20 + 1 = 721$$

$$200 + 10 + 7 = 217$$

$$100 + 20 + 7 = 127$$

$$100 + 70 + 2 = 172$$

Em nói như sau:

