

Nội dung bài viết

1. [Giải bài: Điểm - Đoạn Thẳng Vở bài tập Toán 2 Tập 1 - Chân trời sáng tạo](#)
 - 1.1. [Giải bài 1 trang 26 VBT Toán 2](#)
 - 1.2. [Giải bài 2 trang 26 VBT Toán 2](#)
 - 1.3. [Giải bài 3 trang 26 VBT Toán 2](#)
 - 1.4. [Giải bài 4 trang 26 VBT Toán 2](#)
 - 1.5. [Giải bài 5 trang 26 VBT Toán 2](#)

Giải bài: Điểm - Đoạn Thẳng Vở bài tập Toán 2 Tập 1 - Chân trời sáng tạo

Giải bài 1 trang 26 VBT Toán 2

a) Dùng thước thẳng nối các điểm để có:

Các đoạn thẳng AB, BC, CD, DA

Các đoạn thẳng AE, EB


Các đoạn thẳng IK, KL, LM

b) Em tô màu chuồng chim

Hình vuông: màu vàng

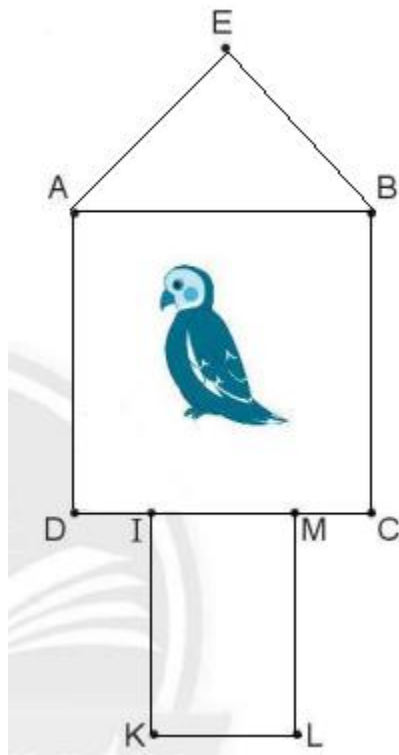
Hình tam giác: màu đỏ

Hình chữ nhật: màu xanh dương

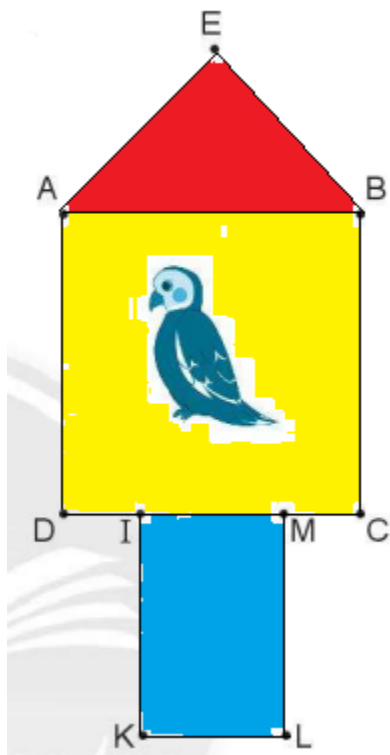


Lời giải

a)



b)



Giải bài 2 trang 26 VBT Toán 2

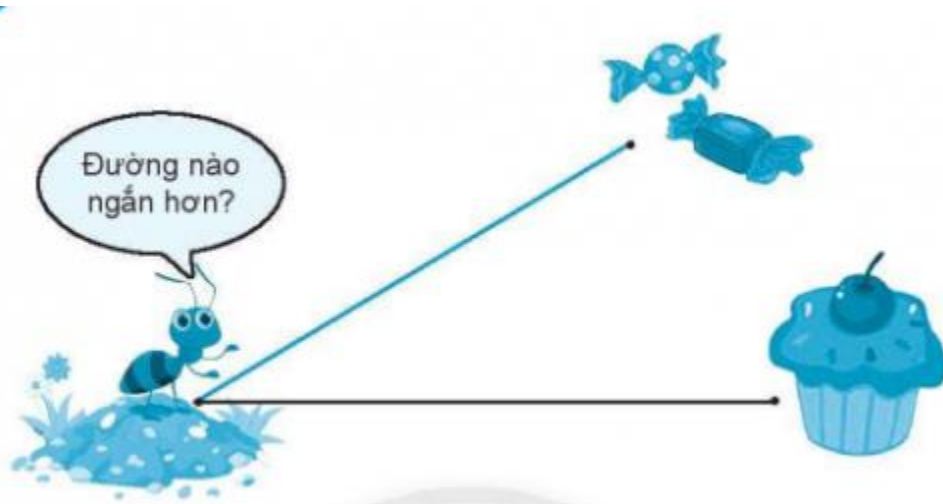
Dùng thước thẳng vẽ đoạn thẳng MN dài 6 cm.

Lời giải

M **6 cm** **N**

Giải bài 3 trang 26 VBT Toán 2

Ước lượng rồi đo



a) Ước lượng (đánh dấu X vào ý kiến đúng)

Đường đi màu đen ngắn hơn

Đường đi màu đen và màu xanh bằng nhau

Đường đi màu xanh ngắn hơn

b) Đo rồi viết số vào chỗ chấm

- Đường màu xanh dài cm

- Đường màu đen dài cm

Lời giải

a)

Đường đi màu đen ngắn hơn

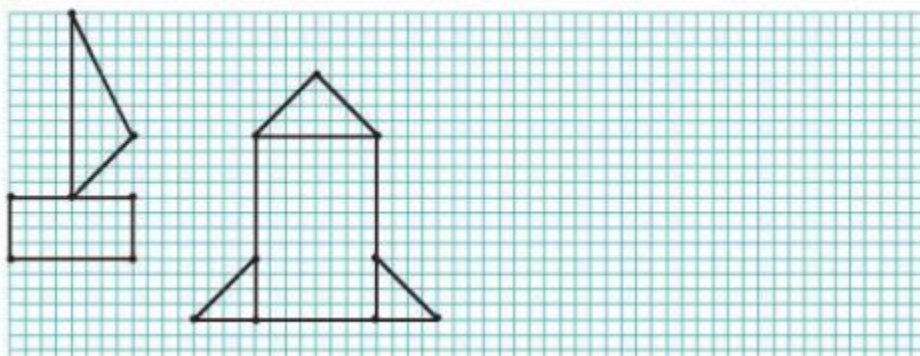
Đường đi màu đen và màu xanh bằng nhau

Đường đi màu xanh ngắn hơn X

b) Học sinh tự đo và ghi kết quả vào chỗ trống

Giải bài 4 trang 26 VBT Toán 2

Vẽ (theo mẫu)



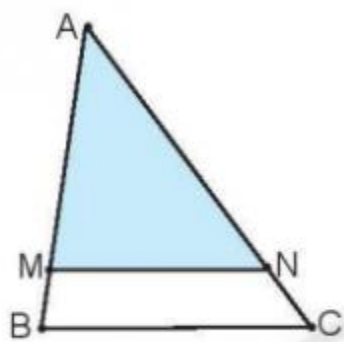
Lời giải

Học sinh tự vẽ

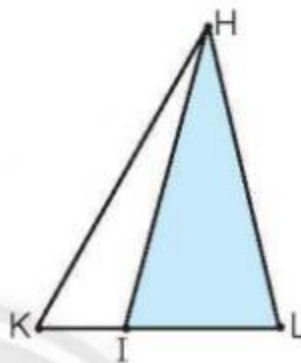
Giải bài 5 trang 26 VBT Toán 2

a) Số?

Mỗi hình sau có bao nhiêu hình tam giác?

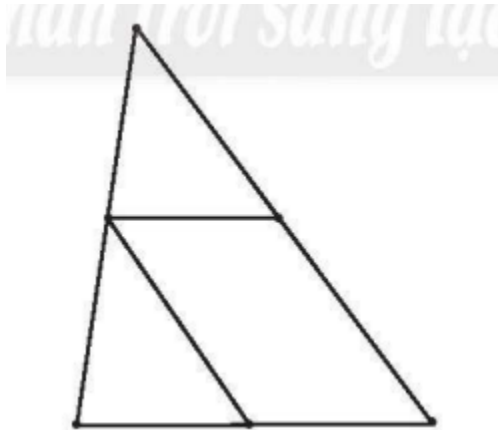


Có hình tam giác.



Có hình tam giác.

b) Vẽ thêm 1 đoạn thẳng để có 5 hình tam giác.

**Lời giải**

a) Hình thứ nhất có 2 hình tam giác

Hình thứ hai có 3 hình tam giác

b) Ta vẽ như sau:

