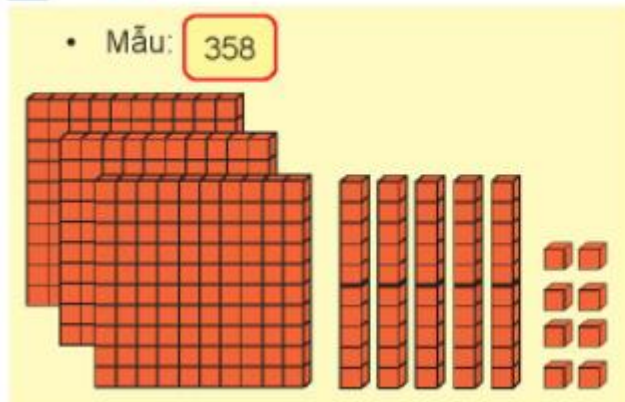


Giải bài tập Toán lớp 2: Các số có ba chữ số - Chân trời sáng tạo**Thực hành****Bài 1 (trang 47 SGK Toán 2 Tập 2)**

Dùng  thể hiện số.



Thực hành với số 275, 330, 404.

Trả lời:

- Số 275 gồm 2 trăm, 7 chục và 5 đơn vị.

Em lấy 2 thẻ trăm, 7 thẻ chục và 5 khối lập phương.

- Số 330 gồm 3 trăm, 3 chục và 0 đơn vị.

Em lấy 3 thẻ trăm, 3 thẻ chục.

- Số 404 gồm 4 trăm, 0 chục và 4 đơn vị.

Em lấy 4 thẻ trăm, 4 khối lập phương.

Luyện tập**Bài 1 (trang 48 SGK Toán 2 Tập 2)**

Số?

591	592	593	?	?	596	597	?	599	?
?	602	?	604	605	?	?	608	?	610
611	?	613	?	615	?	617	?	619	?
?	622	?	624	?	626	?	628	?	630
631	?	?	?	635	?	?	?	639	?

Trả lời:

Trong một hàng, từ trên xuống dưới, các số được sắp xếp theo thứ tự từ bé đến lớn.

Kết quả được điền vào bảng như sau:

591	592	593	594	585	596	597	598	599	600
601	602	603	604	605	606	607	608	609	610
611	612	613	614	615	616	617	618	619	620
621	622	623	624	625	626	627	628	629	630
631	632	633	634	635	636	637	638	639	640


Bài 2 (trang 48,49 SGK Toán 2 Tập 2)

Số?


a)



b)



c)



Trả lời:

Quan sát bức tranh, em thấy:


- a) Các số tròn trăm, đếm thêm trăm (từ 100 đến 1000).
- b) Các số tròn chục, đếm thêm chục (từ 410 đến 500).
- c) Các số liên tiếp, đếm thêm 1 (từ 781 đến 785; từ 396 đến 400, từ 801 đến 805).

Em điền như sau:

a)



b)



c)

**Bài 3 (trang 49 SGK Toán 2 Tập 2)**

Viết số.

Tám trăm mười một

Sáu trăm hai mươi mốt

Chín trăm linh năm

Năm trăm ba mươi lăm

Bảy trăm mười bốn

Trả lời:

Tám trăm mười một: 811

Sáu trăm hai mươi mốt: 621

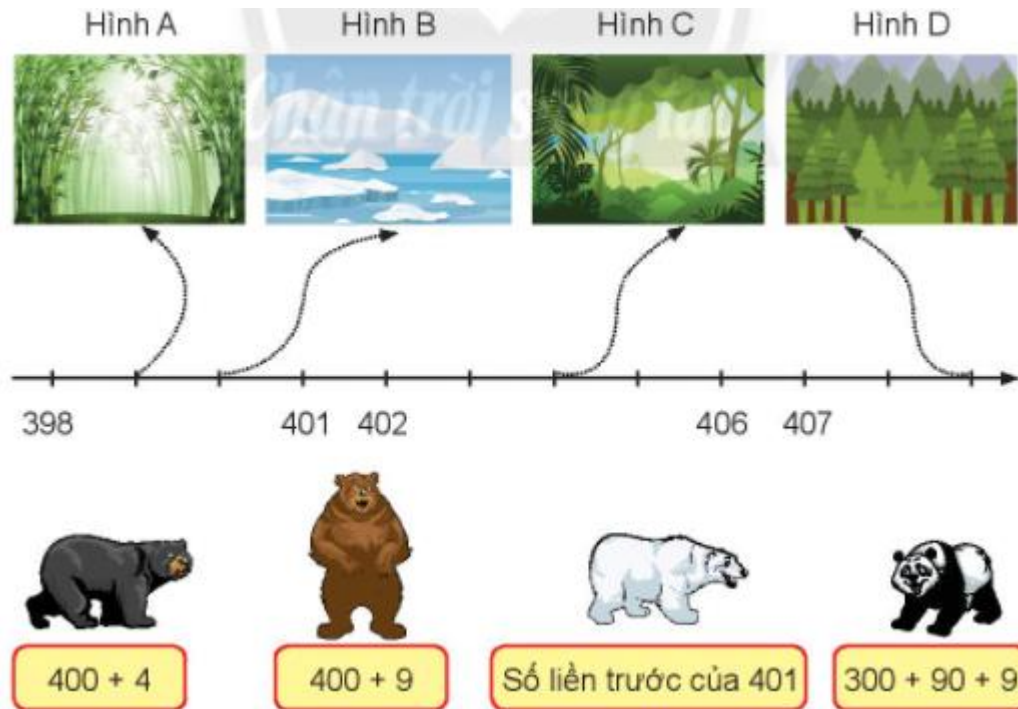
Chín trăm linh năm. 905

Năm trăm ba mươi lăm. 535

Bảy trăm mười bốn: 714

Bài 4 (trang 49 SGK Toán 2 Tập 2)

Mỗi con vật sống ở đâu?



Trả lời:

Hoàn thiện tia số, em có các số sau:

398; 399; 400; 401; 402; 403; 404; 405; 406; 407; 408; 409.

Em thực hiện phép tính phía dưới từng con gấu.

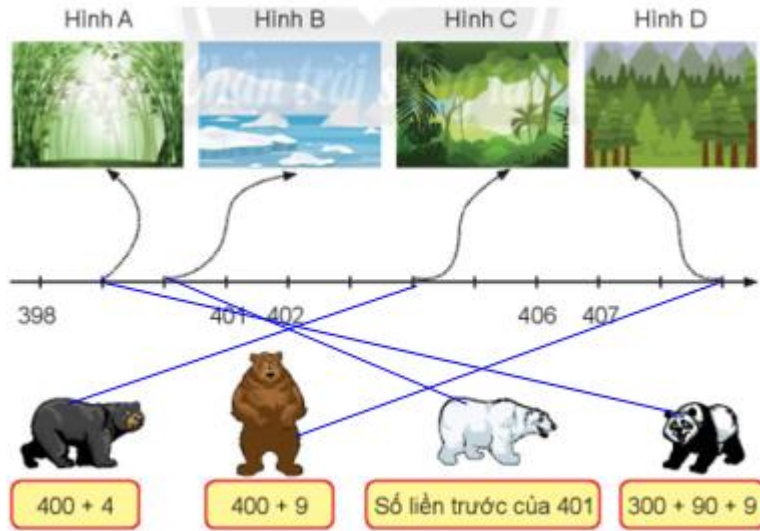
Con gấu xám: $400 + 4 = 404$, em nối với hình C.

Con gấu nâu: $400 + 9 = 409$, em nối với hình D.

Con gấu trắng: 401, em nối với hình B.


Con gấu trúc: $300 + 90 + 9 = 399$, em nối với hình A.

Em nối như sau:



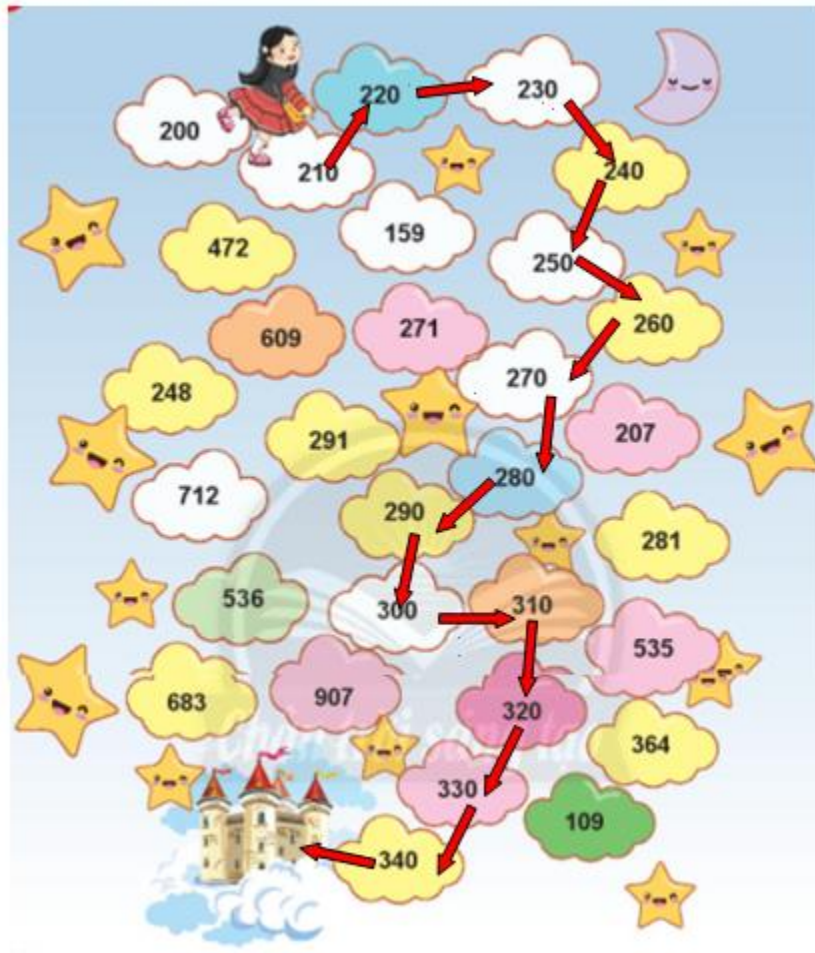
Bài 5 (trang 50 SGK Toán 2 Tập 2)

Đi theo thứ tự các số tròn chục để đến vương quốc Truyện Cổ Tích.



Trả lời:

Các số chục theo thứ tự gồm có: 200; 210; 220; 230; 240; 250; 260; 270; 280; 290; 300; 310; 320; 330; 340



Bài 6 (trang 50 SGK Toán 2 Tập 2)

Xếp hình.

