

Nội dung bài viết

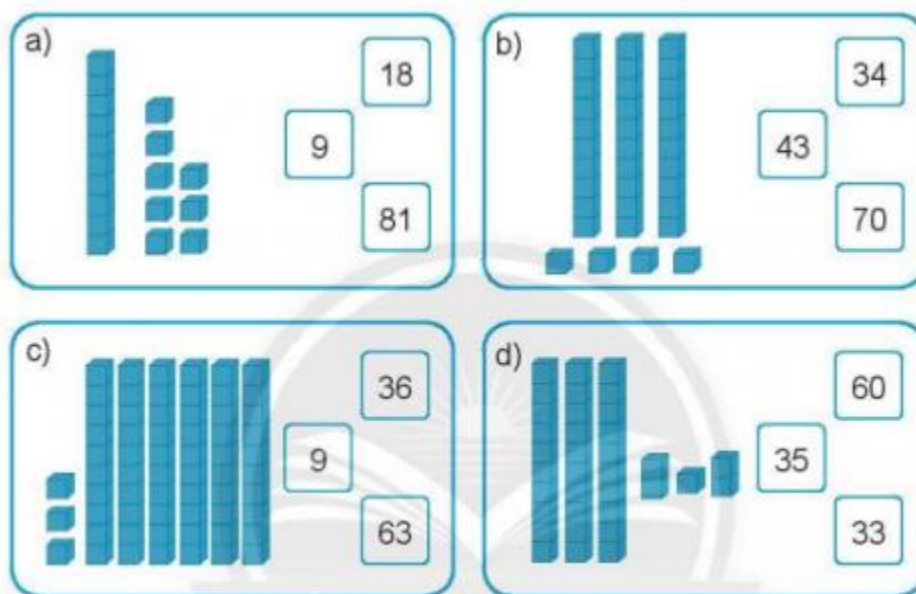
1. [Giải bài: Em làm được những gì? Vở bài tập Toán 2 Tập 1 - Chân trời sáng tạo](#)

Giải bài: Em làm được những gì? Vở bài tập Toán 2 Tập 1 - Chân trời sáng tạo

Giải bài 1 trang 22 VBT Toán 2

Đánh dấu (X) vào số phù hợp với hình.

Có bao nhiêu khối lập phương?

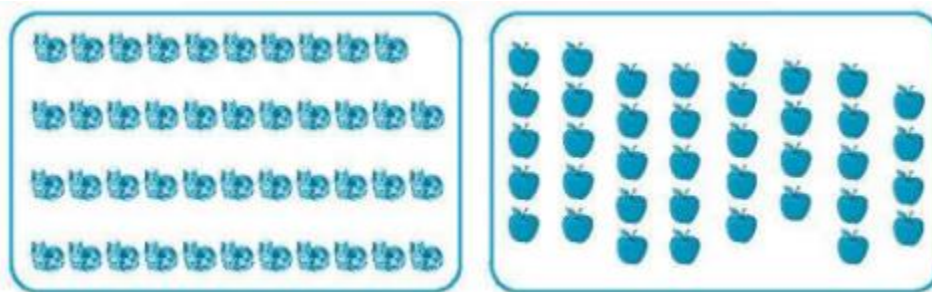


Lời giải

- a) có 18 khối
- b) có 34 khối
- c) có 63 khối
- d) có 35 khối

Giải bài 2 trang 22 VBT Toán 2

Số?



Ước lượng: Có khoảng con mèo

Đếm: Có con mèo

Ước lượng: Có khoảng quả táo

Đếm: Có quả táo

Lời giải

Ước lượng: Có khoảng 40 con mèo

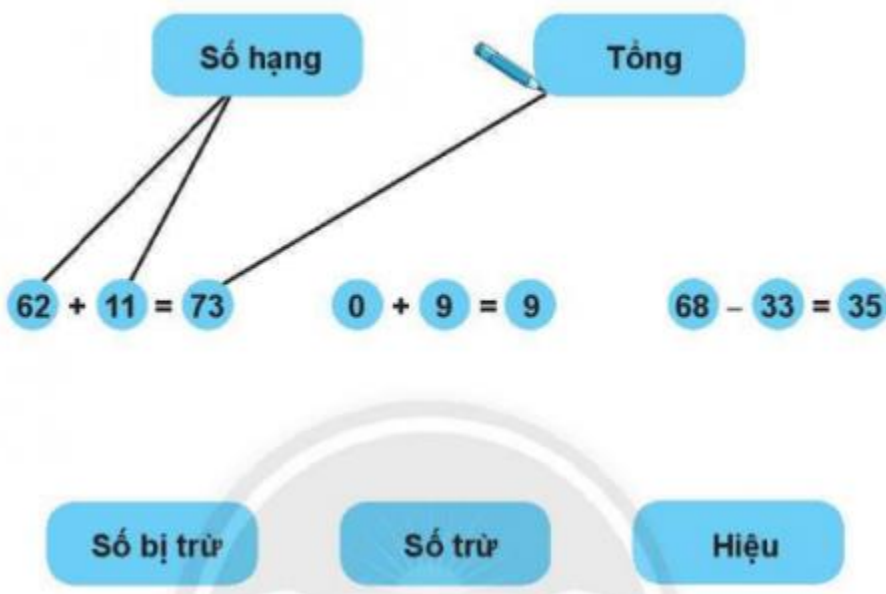
Đếm: Có 43 con mèo

Ước lượng: Có khoảng 40 quả táo

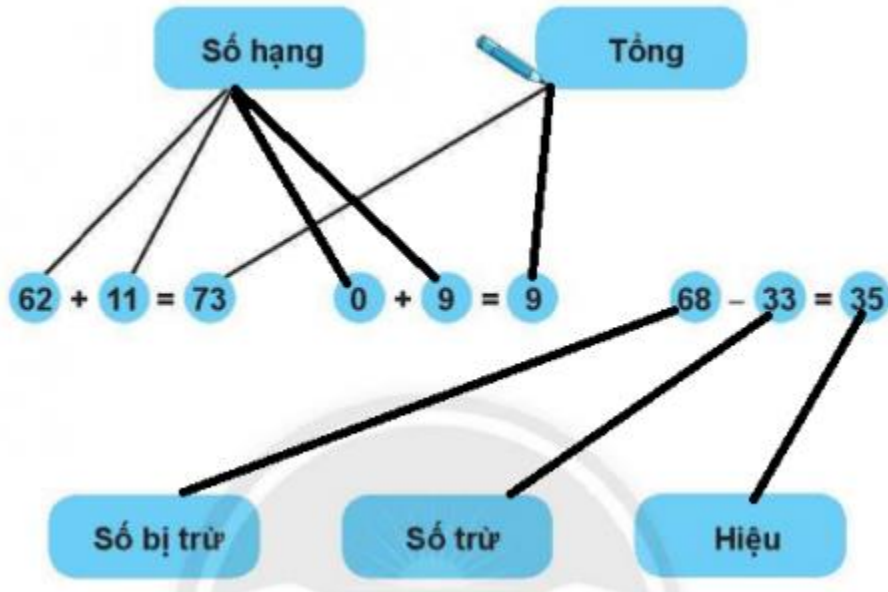
Đếm: Có 38 quả táo

Giải bài 3 trang 22 VBT Toán 2

Nối mỗi số với tên gọi các thành phần của phép tính (theo mẫu):



Lời giải



Giải bài 4 trang 22 VBT Toán 2

Đúng ghi đ, sai ghi s. Làm lại các phép tính sai.

$$\begin{array}{r} 85 \\ + 12 \\ \hline 97 \end{array} \quad \begin{array}{r} 7 \\ + 20 \\ \hline 90 \end{array} \quad \begin{array}{r} 69 \\ - 27 \\ \hline 49 \end{array} \quad \begin{array}{r} 48 \\ - 30 \\ \hline 78 \end{array}$$

Lời giải

$$\begin{array}{r} 85 \\ + 12 \\ \hline 97 \end{array} \quad \begin{array}{r} 7 \\ + 20 \\ \hline 90 \end{array} \quad \begin{array}{r} 69 \\ - 27 \\ \hline 49 \end{array} \quad \begin{array}{r} 48 \\ - 30 \\ \hline 78 \end{array}$$

Làm lại phép tính sai:

$$\begin{array}{r} 7 \\ + 20 \\ \hline 27 \end{array} \quad \begin{array}{r} 69 \\ - 27 \\ \hline 42 \end{array} \quad \begin{array}{r} 48 \\ - 30 \\ \hline 18 \end{array}$$

Giải bài 5 trang 22 VBT Toán 2

Điền >, < hoặc =

$9 \dots\dots\dots 29$

$60 + 8 \dots\dots\dots 8 + 60$

$74 - 24 \dots\dots\dots 74 + 24$

Lời giải

$9 < 29$


$60 + 8 = 8 + 60$

$74 - 24 < 74 + 24$

Giải bài 6 trang 22 VBT Toán 2

Nối hai số có tổng bằng 80 để giúp chim mẹ tìm chim con.

**Lời giải**

**Giải bài 7 trang 22 VBT Toán 2**

Mai sưu tầm được 45 con tem, Lê sưu tầm được 15 con tem. Hỏi Mai sưu tầm được nhiều hơn Lê bao nhiêu con tem?

Trả lời: Mai sưu tầm được nhiều hơn Lê con tem.

Lời giải

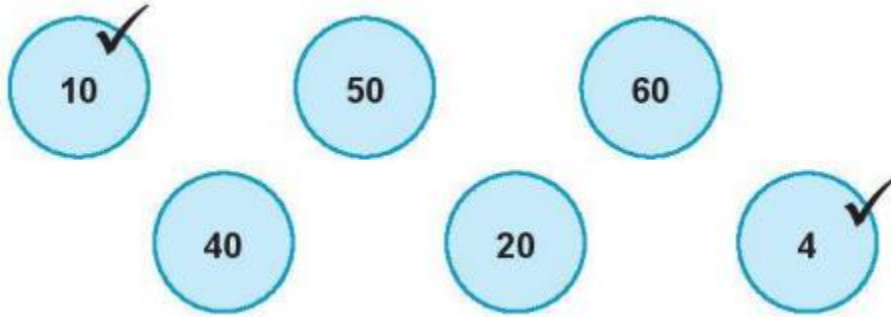
$$45 - 15 = 30$$

Trả lời: Mai sưu tầm được nhiều hơn Lê 30 con tem.

Giải bài 8 trang 22 VBT Toán 2

Vui học

Quan sát các số sau.



Chọn hai số thích hợp viết vào nhị hoa rồi viết 4 phép tính theo mẫu.

Mẫu:

10 + 4 = 14
 4 + 10 = 14
 14 - 4 = 10
 14 - 10 = 4

.....

.....

Lời giải

Mẫu:

$10 + 4 = 14$ $4 + 10 = 14$ $14 - 4 = 10$ $14 - 10 = 4$	$40 + 60 = 100$ $60 + 40 = 100$ $100 - 60 = 40$ $100 - 40 = 60$	$20 + 50 = 70$ $50 + 20 = 70$ $70 - 50 = 20$ $70 - 20 = 50$
--	--	--

<https://www.facebook.com/KhoDeThiTaiLieuCom>