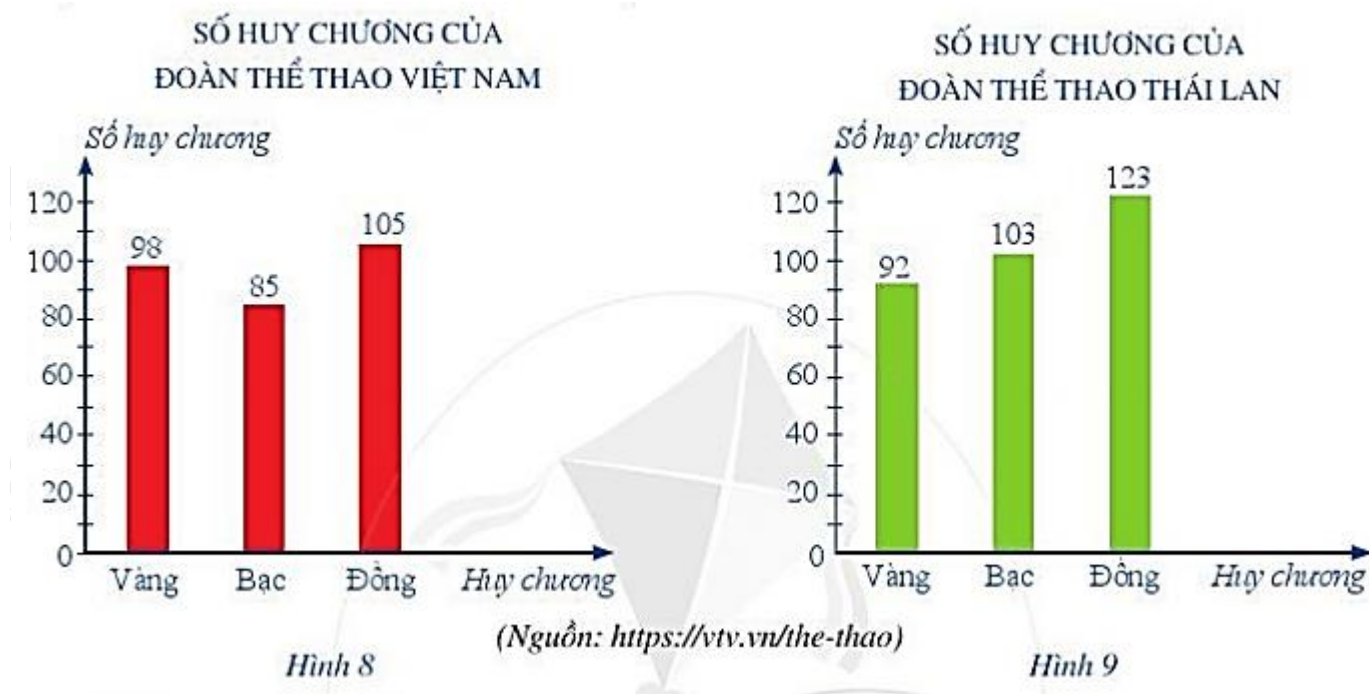


Mời các bạn cùng tham khảo hướng dẫn giải bài tập Toán lớp 6 **Bài 2: Biểu đồ cột kép** Cánh Diều hay, ngắn gọn được chúng tôi chọn lọc và giới thiệu ngay dưới đây nhằm giúp các em học sinh tiếp thu kiến thức và củng cố bài học của mình trong quá trình học tập môn Toán.

Trả lời câu hỏi SGK Bài 2 Toán lớp 6 Cánh Diều

Câu hỏi khởi động trang 10 Toán lớp 6 Tập 2: Biểu đồ cột ở Hình 8 và Hình 9 lần lượt biểu diễn số huy chương của Đoàn Thể thao Việt Nam và Đoàn Thể thao Thái Lan tại SEA Games 30.



Làm thế nào để biểu diễn được đồng thời từng loại huy chương của cả hai đoàn Việt Nam và Thái Lan trên cùng một biểu đồ cột?

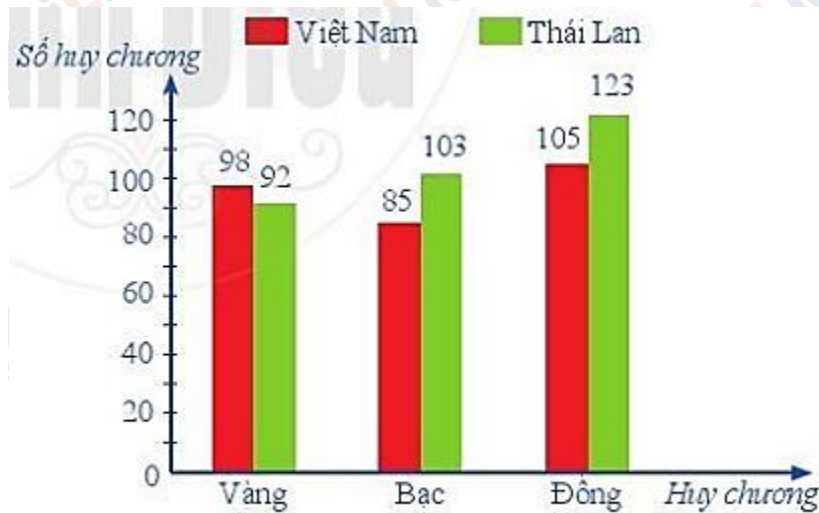
Lời giải:

Để biểu diễn được đồng thời từng loại huy chương của cả hai đoàn Việt Nam và Thái Lan trên cùng một biểu đồ cột ta sẽ sử dụng biểu đồ cột kép – sẽ được giới thiệu trong bài học này.

Quan sát Biểu đồ cột kép ở Hình 10 ta thấy:

- Đối tượng thống kê là các loại huy chương: Vàng, Bạc, Đồng. Các đối tượng này lần lượt được biểu diễn ở trục nằm ngang.

- Tiêu chí thống kê là số huy chương mỗi loại của mỗi nước.
- Ứng với mỗi đối tượng thống kê có một số liệu thống kê theo tiêu chí, lần lượt được biểu diễn ở trục thẳng đứng.
- Trong biểu diễn thống kê của Đoàn Thể thao Việt Nam, các cột đều được tô màu đỏ và được quy định bằng hình chữ nhật màu đỏ ở phía trên của biểu đồ.



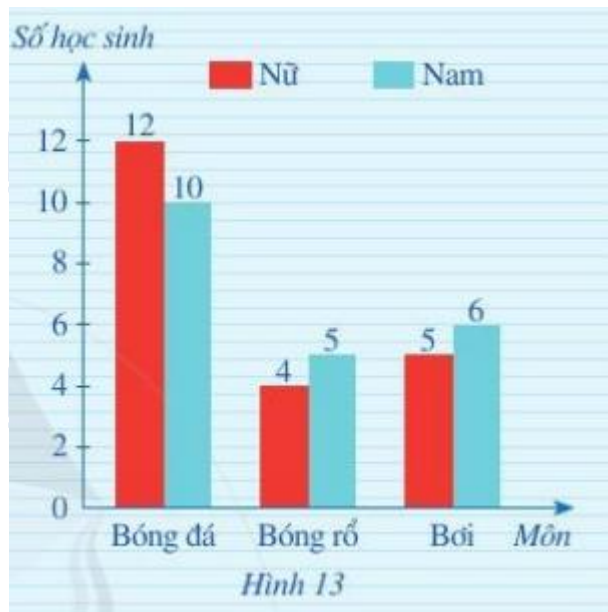
Hình 10

Trong biểu diễn thống kê của Đoàn Thể thao Thái Lan, các cột đều được tô màu xanh và được quy định bằng hình chữ nhật màu xanh ở phía trên của biểu đồ.

Luyện tập trang 12 Toán lớp 6 Tập 2: Biểu đồ cột kép ở Hình 13 biểu diễn số học sinh nam và số học sinh nữ của lớp 6C có sở thích chơi một số môn thể thao: bóng đá, bóng rổ, bơi.

Biết rằng mỗi học sinh chỉ nêu một môn thể thao yêu thích nhất.

- Môn thể thao nào có nhiều học sinh thích chơi nhất?
- Tính tổng số học sinh của lớp 6C.



Lời giải:

a) Quan sát biểu đồ, ta thấy cột bóng đá màu đỏ và cột bóng đá màu xanh là cột cao nhất tương ứng với 12 học sinh nữ và 10 học sinh nam yêu thích. Do đó môn thể thao có nhiều học sinh thích chơi nhất là bóng đá.

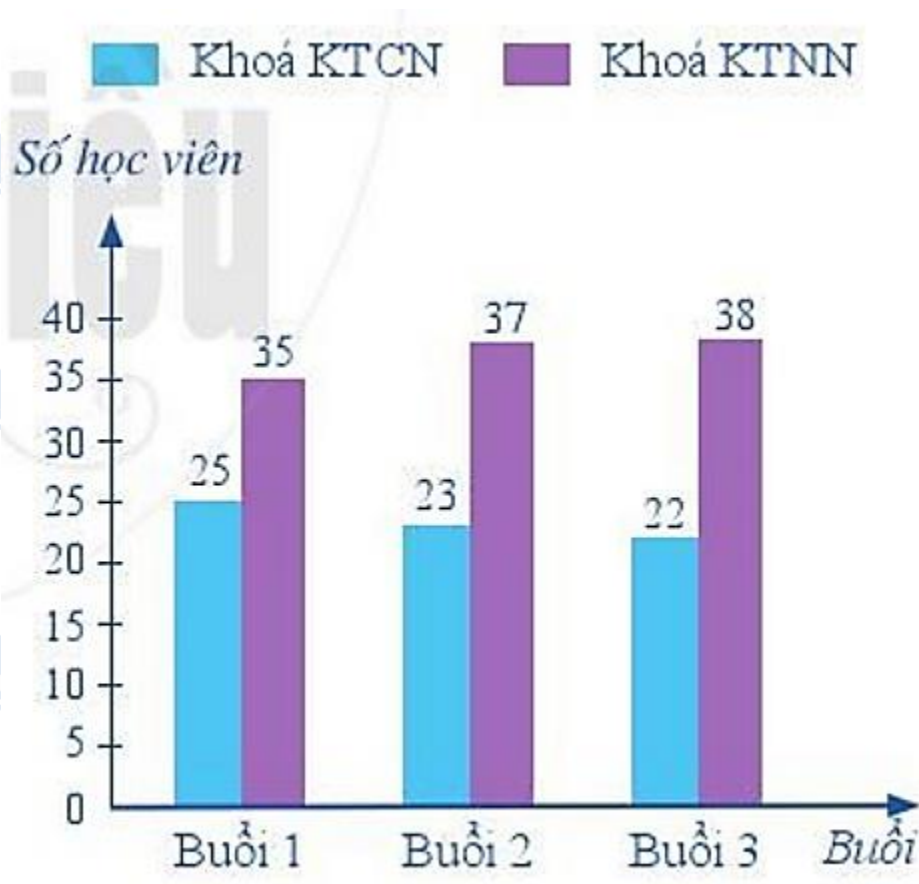
b) Vì mỗi học sinh chỉ yêu thích một môn thể thao nên số học sinh của lớp 6C chính là tổng số học sinh nam và nữ yêu thích các môn thể thao và bằng:

$$12 + 10 + 4 + 5 + 5 + 6 = 42 \text{ (học sinh)}$$

Vậy lớp 6C có 42 học sinh.

Giải bài tập SGK Toán 6 Cánh Diều Bài 2

Bài 1 trang 12 Toán lớp 6 Tập 2: Khoá bồi dưỡng về Kỹ thuật công nghiệp Khoa (KTCN) và khoá bồi dưỡng về Kỹ thuật nông nghiệp (KTNN) được tổ chức trong 10 buổi liên tiếp (cùng thời gian và địa điểm). Biểu đồ cột kép ở Hình 14 thống kê số lượt học viên dùng nước giải khát trong ba buổi đầu tiên của mỗi khoá bồi dưỡng.



Hình 14

- a) Trong ba buổi đầu tiên, số học viên dùng nước giải khát ở mỗi buổi là bao nhiêu?
- b) Dựa vào biểu đồ ở Hình 14, so sánh số lượt học viên dùng nước giải khát của khóa bồi dưỡng về KTCN với khóa bồi dưỡng về KTNN trong mỗi buổi.
- c) Để tránh lãng phí trong những buổi học tiếp theo, em hãy chọn phương án phù hợp nhất đối với việc chuẩn bị nước giải khát cho học viên của cả hai khóa bồi dưỡng (biết mỗi lượt học viên dùng 1 cốc nước giải khát):

1. 40 cốc nước giải khát;
2. 45 cốc nước giải khát;
3. 60 cốc nước giải khát;
4. 80 cốc nước giải khát.

Lời giải:

- a) Số lượt học viên dùng nước ở buổi 1 là: $25 + 35 = 60$ (lượt học viên).

Số lượt học viên dùng nước ở buổi 2 là: $23 + 37 = 60$ (lượt học viên).

Số lượt học viên dùng nước ở buổi 3 là: $22 + 38 = 60$ (lượt học viên).

Vậy tổng số lượt học viên dùng nước ở mỗi buổi là 60 lượt học viên.

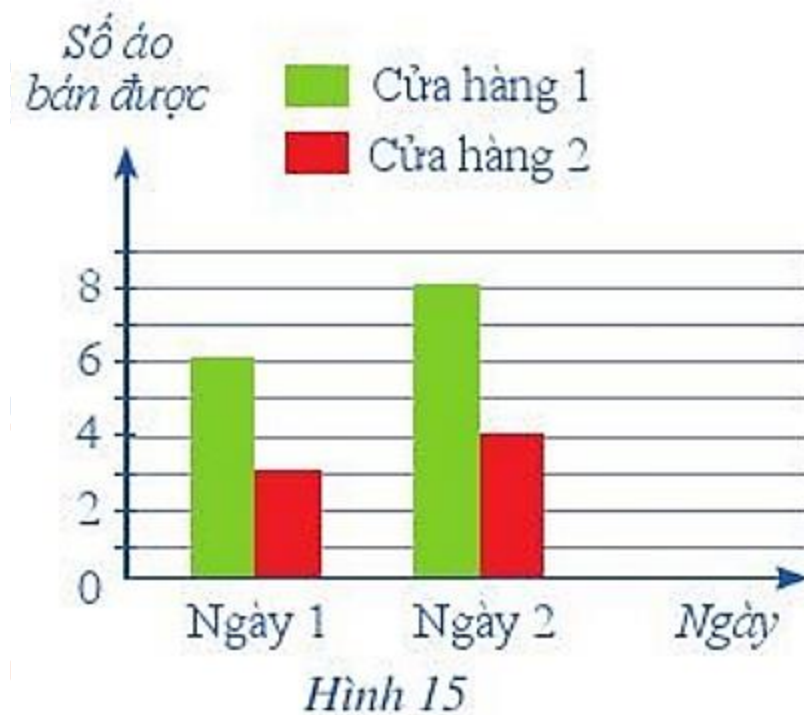
b) Dựa vào biểu đồ Hình 14, ta thấy số lượt học viên dùng nước giải khát của khoa KTNN nhiều hơn so với số lượt học viên dùng nước giải khát của khoa KTCN.

c) Vì tổng số lượt học viên dùng nước ở mỗi buổi là 60 lượt học viên nên để tránh lãng phí trong những buổi học tiếp theo ta nên chọn phương án 3.

Bài 2 trang 13 Toán lớp 6 Tập 2:

a) Biểu đồ ở Hình 15 thống kê số áo được bán ra trong hai ngày của hai cửa hàng kinh doanh. Mỗi cửa hàng đó đã bán được bao nhiêu chiếc áo trong hai ngày?

b) Biết rằng sau hai ngày nói trên, cửa hàng lãi được 700 000 đồng và cửa hàng 2 đã lãi được 400 000 đồng. Nhận định “Bán được càng nhiều áo thì càng lãi nhiều” có hợp lí không?



Lời giải:

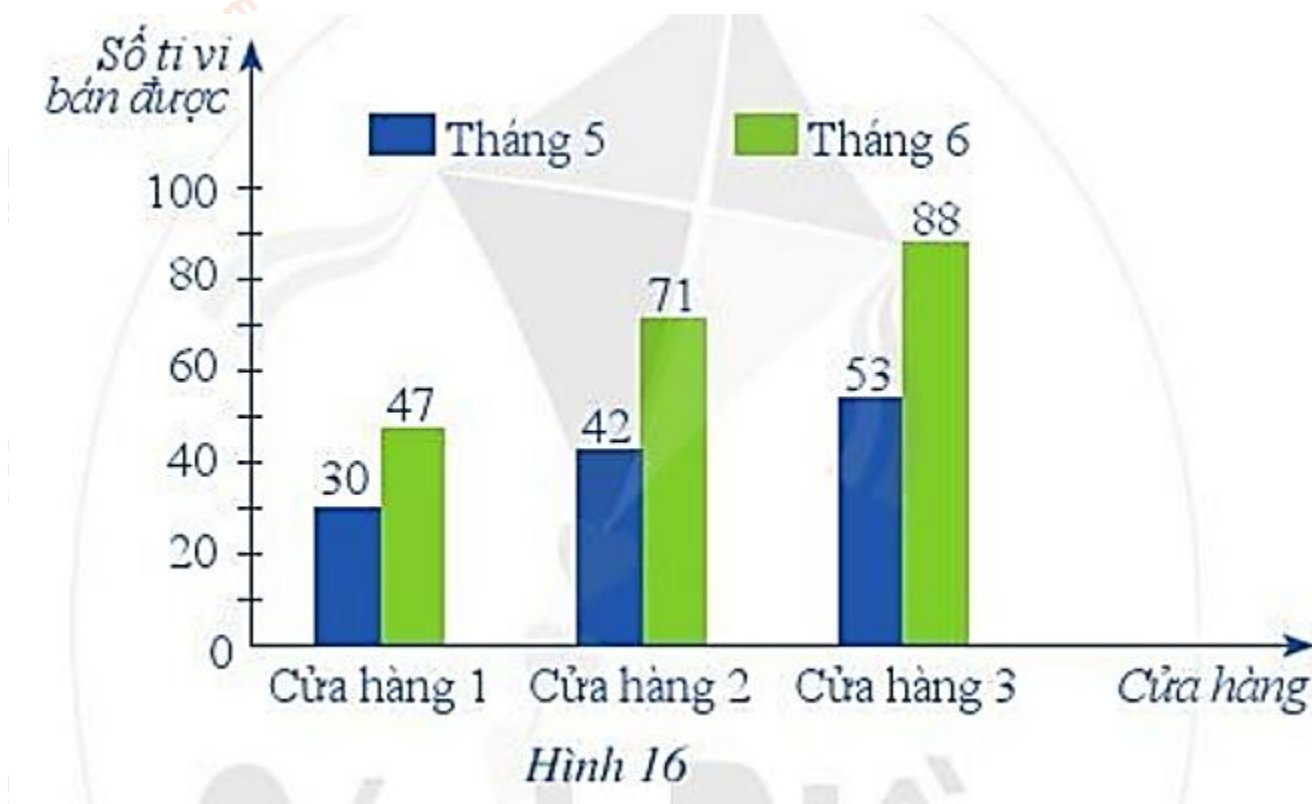
a) Trong hai ngày cửa hàng 1 đã bán được: $6 + 8 = 14$ (cái áo).

Trong hai ngày cửa hàng 2 đã bán được: $3 + 4 = 7$ (cái áo).

Vậy trong hai ngày cửa hàng 1 đã bán được 14 cái áo, cửa hàng 2 bán được 7 cái áo.

b) Nhận định “Bán được càng nhiều áo thì càng lãi nhiều” là hợp lí vì cửa hàng 1 bán được 14 cái áo lãi 700 000, còn cửa hàng 2 bán được 7 cái áo lãi 400 000 ($700\ 000 > 400\ 000$).

Bài 3 trang 13 Toán lớp 6 Tập 2: Biểu đồ ở Hình 16 thống kê số lượng tivi bán được của ba cửa hàng trong tháng 5 và tháng 6 của năm 2018.



a) So sánh số lượng tivi bán được của mỗi cửa hàng trong tháng 5 và trong tháng 6.

b) Cửa hàng 3 bán được nhiều tivi nhất trong cả tháng 5 và tháng 6. Em có thể đưa ra một lí do phù hợp nhất để giải thích cho kết quả này được không? Em đồng ý với những nhận xét nào sau đây:

1. Cửa hàng 3 bán tivi với giá rẻ nhất;
2. Cửa hàng 3 chăm sóc khách hàng tốt nhất;

3. Cửa hàng 3 có nhiều loại ti vi cho người mua hàng lựa chọn;
 4. Cửa hàng 3 ở vị trí thuận lợi cho việc đi lại mua bán của người mua hàng?
- c) Số lượng ti vi mà cả ba cửa hàng bán được trong tháng 6 nhiều hơn số lượng ti vi mà cả ba cửa hàng bán được trong tháng 5 là bao nhiêu chiếc? Em có biết giải bóng đá World Cup 2018 diễn ra vào tháng nào không? Sự kiện đó có liên quan đến việc mua bán ti vi trong tháng 6 hay không?
- d) Nếu 20 năm sau (tính từ năm 2018) em có một cửa hàng bán ti vi thì em chọn thời gian nào để có thể bán được nhiều ti vi nhất trong năm?

Lời giải:

a) So sánh số lượng ti vi bán được trong tháng 5 và tháng 6 ở mỗi cửa hàng:

Ở cả 3 cửa hàng, số ti vi bán được của tháng 6 luôn nhiều hơn tháng 5. Cụ thể:

Cửa hàng 1: Số ti vi bán được ở tháng 6 nhiều hơn tháng 5 là: $47 - 30 = 17$ (ti vi)

Cửa hàng 2: Số ti vi bán được ở tháng 6 nhiều hơn tháng 5 là: $71 - 42 = 29$ (ti vi)

Cửa hàng 3: Số ti vi bán được ở tháng 6 nhiều hơn tháng 5 là: $88 - 53 = 35$ (ti vi)

b) Mỗi học sinh sẽ có những lựa chọn khác nhau (vì lý do nào cũng hợp lý).

Ý kiến cá nhân của em là đồng ý với nhận xét: (2), (4)

c) Số lượng ti vi mà cả ba cửa hàng bán được trong tháng 6 nhiều hơn số lượng ti vi mà cả ba cửa hàng bán được trong tháng 5 là: $(47 + 71 + 88) - (30 + 42 + 53) = 81$ (ti vi)

Giải bóng đá World Cup 2018 diễn ra vào tháng 6, tháng 7 hàng năm. Sự kiện đó có liên quan đến việc mua bán ti vi vì vào thời điểm đó, nhu cầu xem cao, sức mua tăng, vì thế lượng ti vi bán được nhiều.

d) Nếu 20 năm sau (tính từ năm 2018) em có một cửa hàng bán ti vi thì em chọn tháng 6 để có thể bán được nhiều ti vi nhất trong năm.

►► **CLICK NGAY** vào **TẢI VỀ** dưới đây để download giải Giải bài tập Toán 6 **Bài 2: Biểu đồ cột kép** Cảnh Điều ngắn gọn, hay nhất file pdf hoàn toàn miễn phí.

