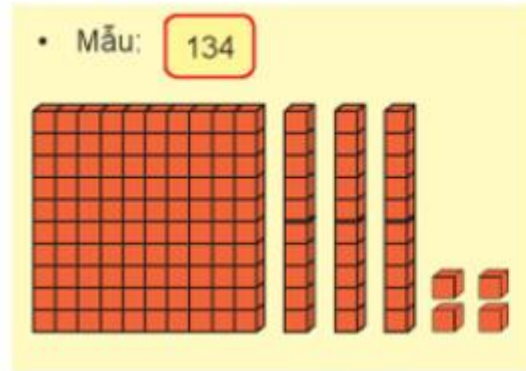


Giải bài tập Toán lớp 2: Các số từ 111 đến 200 - Chân trời sáng tạo

Thực hành

**Bài 1 (trang 45 SGK Toán 2 Tập 2)**

Dùng  thể hiện số.

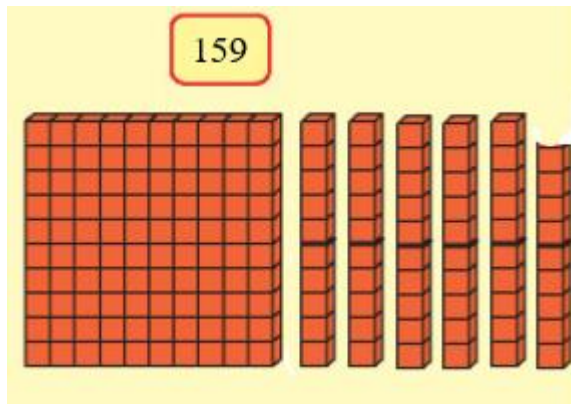


Thực hành với số 159

**Trả lời:**

Quan sát hình em thấy: Có 1 thẻ 1 trăm, 5 thẻ chục và 9 khối lập phương.

Số đó là 159, đọc là 1 trăm 5 chục 9 đơn vị.



Luyện tập

**Bài 1 (trang 46 SGK Toán 2 Tập 2)**

Làm theo mẫu.

	Trăm	Chục	Đơn vị	Viết số	Đọc số
	1	1	1	111	một trăm mười <b>một</b>
	1	2	1	121	một trăm hai mươi <b>mốt</b>
	1	3	4	134	một trăm ba mươi <b>tư</b> (một trăm ba mươi bốn)
	?	?	?	?	?
	?	?	?	?	?
	?	?	?	?	?
	?	?	?	?	một trăm bảy mươi <b>lăm</b>
	?	?	?	197	?

**Trả lời:**

Quan sát hình, em thấy:

Hàng thứ 4: có 1 thẻ trăm, 4 thẻ chục, 8 khối lập phương. Số đó gồm 1 trăm, 4 chục, 8 đơn vị. Viết là 148. Đọc là: một trăm bốn mươi tám.

Hàng thứ 5: có 1 thẻ trăm, 5 thẻ chục, 7 khối lập phương. Số đó gồm 1 trăm, 5 chục, 7 đơn vị. Viết là 157. Đọc là: một trăm năm mươi bảy.

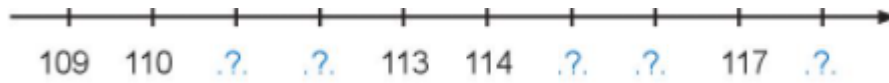
Hàng thứ 6: có 1 thẻ trăm, 6 thẻ chục, 2 khối lập phương. Số đó gồm 1 trăm, 6 chục, 2 đơn vị. Viết là 162. Đọc là: một trăm sáu mươi hai.

Hàng thứ 7: có 1 thẻ trăm, 7 thẻ chục, 5 khối lập phương. Số đó gồm 1 trăm, 7 chục, 5 đơn vị. Viết là 175. Đọc là: một trăm bảy mươi lăm.

**Bài 2 (trang 46 SGK Toán 2 Tập 2)**

Số?

a)

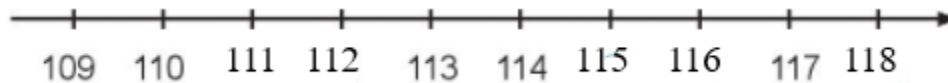


b)

**Trả lời:**

Em điền những số còn thiếu hoàn thiện tia số như sau:

a)



b)

