

**Bài 101: Luyện tập chung**

*Giải Bài 101 trang 16 VBT Toán lớp 2 Tập 2*

**Giải câu 1.**

Tính nhẩm:

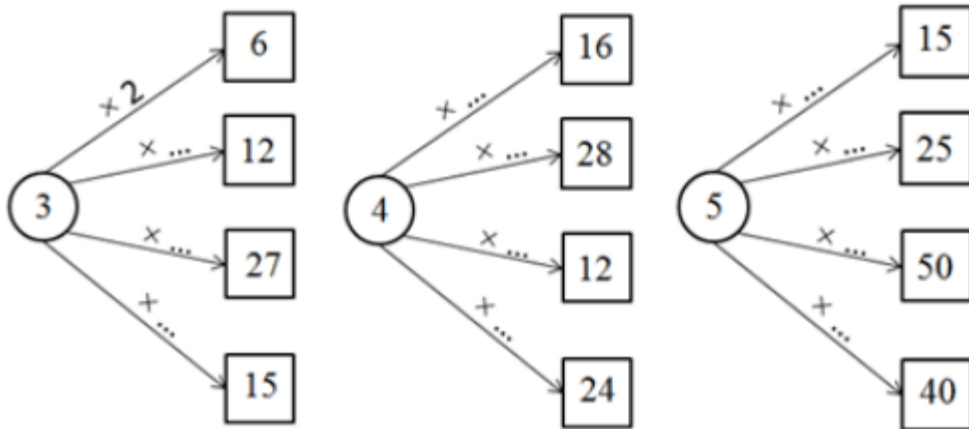
$2 \times 5 = \dots$	$5 \times 4 = \dots$	$5 \times 8 = \dots$	$2 \times 9 = \dots$
$3 \times 5 = \dots$	$4 \times 5 = \dots$	$4 \times 8 = \dots$	$3 \times 9 = \dots$
$4 \times 5 = \dots$	$3 \times 6 = \dots$	$3 \times 8 = \dots$	$4 \times 9 = \dots$
$5 \times 5 = \dots$	$2 \times 7 = \dots$	$2 \times 8 = \dots$	$5 \times 9 = \dots$

**Lời giải:**

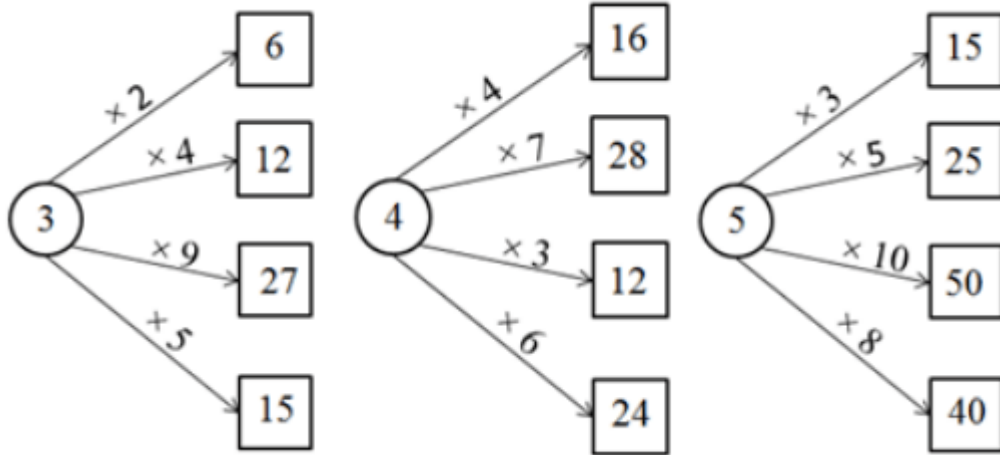
$2 \times 5 = 10$	$5 \times 4 = 20$	$5 \times 8 = 40$	$2 \times 9 = 18$
$3 \times 5 = 15$	$4 \times 5 = 20$	$4 \times 8 = 32$	$3 \times 9 = 27$
$4 \times 5 = 20$	$3 \times 6 = 18$	$3 \times 8 = 24$	$4 \times 9 = 36$
$5 \times 5 = 25$	$2 \times 7 = 14$	$2 \times 8 = 16$	$5 \times 9 = 45$

**Giải câu 2.**

Viết số thích hợp vào chỗ chấm (theo mẫu):



**Lời giải:**



**Giải câu 3.**

Tính:

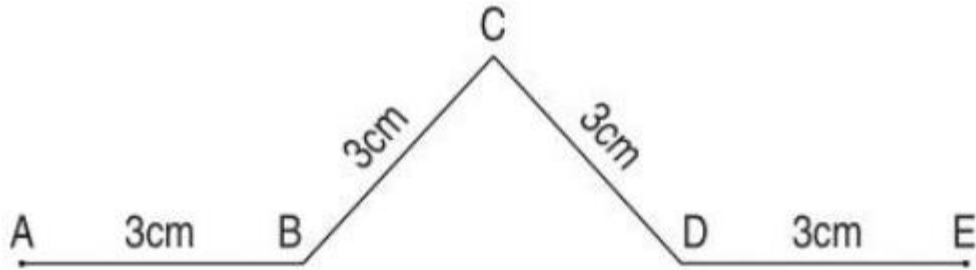
- a)  $3 \times 9 + 18 = \dots$
- b)  $5 \times 9 + 27 = \dots$
- c)  $5 \times 6 - 6 = \dots$
- d)  $4 \times 8 - 19 = \dots$

**Lời giải:**

- a)  $3 \times 9 + 18 = 27 + 18 = 45$
- b)  $5 \times 9 + 27 = 45 + 27 = 72$
- c)  $5 \times 6 - 6 = 30 - 6 = 24$
- d)  $4 \times 8 - 19 = 32 - 19 = 13$

**Giải câu 4.**

Tính độ dài đường gấp khúc sau:



**Lời giải:**

*Cách 1:*

Độ dài đường gấp khúc ABCDE:

$$3 + 3 + 3 + 3 = 12 \text{ (cm)}$$

Đáp số: 12cm.

*Cách 2:*

Độ dài đường gấp khúc ABCDE:

$$3 \times 4 = 12 \text{ (cm)}$$

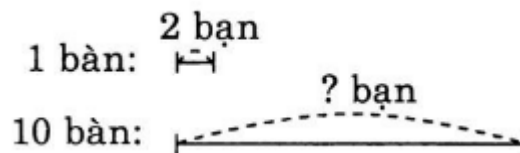
Đáp số: 12cm.

**Giải câu 5.**

Mỗi bàn có 2 bạn ngồi học. Hỏi 10 bàn như thế có bao nhiêu bạn ngồi học ?

**Lời giải:**

Ta có sơ đồ sau:



Số bạn ngồi ở 10 bàn là:

$$2 \times 10 = 20 \text{ (bạn)}$$

Đáp số: 20 bạn.