

**Bài 104 : Bảng chia 2***Giải Bài 104 trang 21 VBT Toán lớp 2 Tập 2***Giải bài 1.**

Tính nhẩm:

$8 : 2 = \dots$

$6 : 2 = \dots$

$14 : 2 = \dots$

$4 : 2 = \dots$

$2 : 2 = \dots$

$16 : 2 = \dots$

$12 : 2 = \dots$

$10 : 2 = \dots$

$18 : 2 = \dots$

$20 : 2 = \dots$

***Bài giải***

$8 : 2 = 4$

$6 : 2 = 3$

$14 : 2 = 7$

$4 : 2 = 2$

$2 : 2 = 1$

$16 : 2 = 8$

$12 : 2 = 6$

$10 : 2 = 5$

$18 : 2 = 9$

$20 : 2 = 10$

**Giải bài 2.**

Có 10 quả cam xếp đều vào 2 đĩa. Hỏi mỗi đĩa có mấy quả cam ?

***Bài giải***

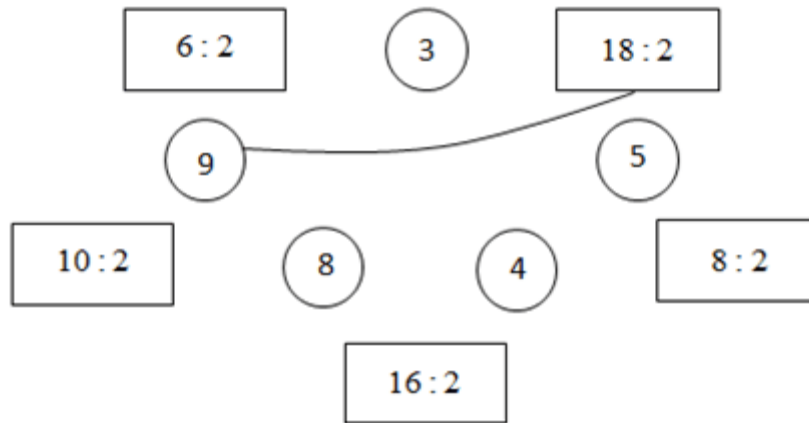
Mỗi đĩa có số quả cam là:

$10 : 2 = 5 \text{ (quả)}$

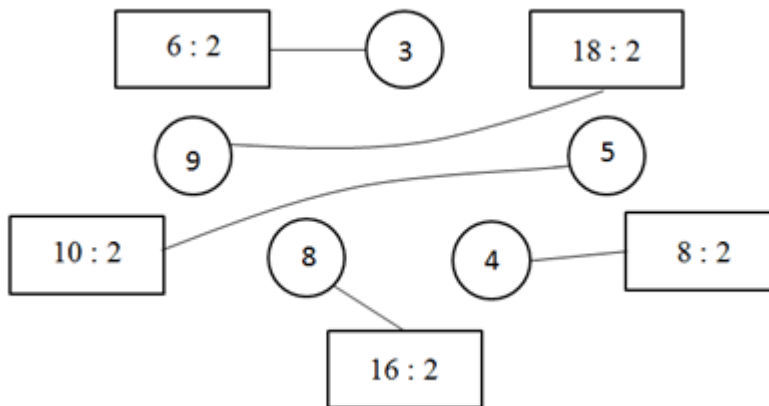
Đáp số: 5 quả.

**Giải bài 3.**

Nói phép tính với kết quả đúng (theo mẫu):

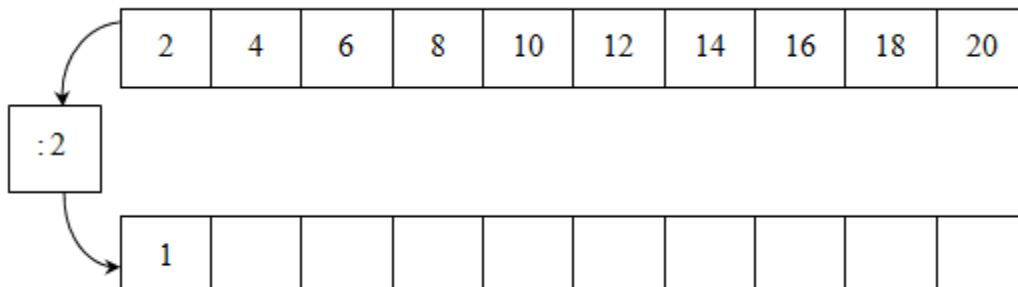


**Bài giải**



**Giải bài 4.**

Số ?



**Bài giải**

