

Nội dung bài viết

1. [Giải bài tập Toán 2 bài: Ôn tập về số và các phép tính trong phạm vi 1000 - Cánh diều.](#)

Giải bài tập Toán 2 bài: Ôn tập về số và các phép tính trong phạm vi 1000 - Cánh diều.

Bài 1 (trang 88 SGK Toán 2 Tập 2):

Ghép các thẻ thích hợp:

Một trăm năm mươi ba

1 trăm 5 chục 3 đơn vị

1 trăm 3 chục 5 đơn vị

153

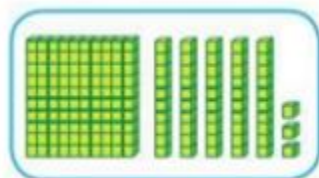
$100 + 30 + 5$

135

$100 + 50 + 3$

Một trăm ba mươi lăm

Lời giải



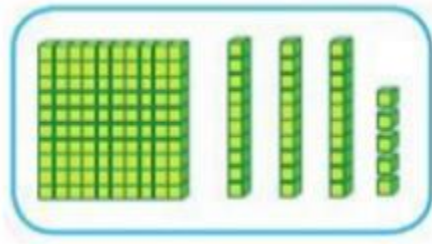
Có 153 khối lập phương

Đọc là: một trăm năm mươi ba

Viết là: 153

153 gồm 1 trăm, 5 chục và 3 đơn vị

Ta có: $153 = 100 + 50 + 3$



Có 135 khối lập phương

Đọc là: Một trăm ba mươi lăm

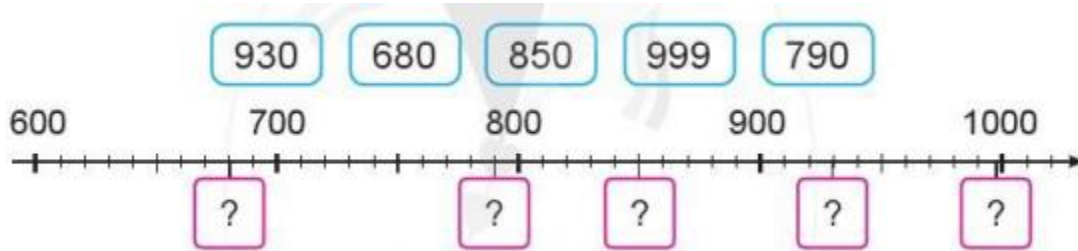
Viết là: 135

135 gồm 1 trăm, 3 chục và 5 đơn vị

Ta có: $135 = 100 + 30 + 5$

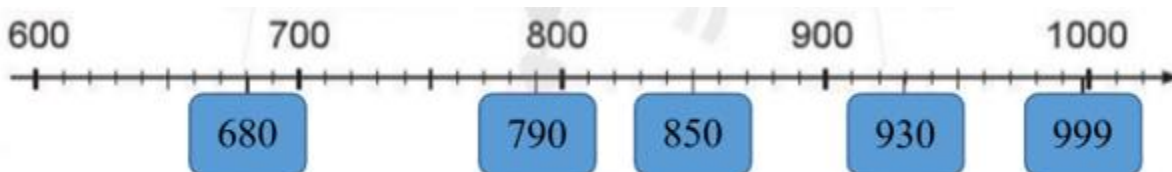
Bài 2 (trang 88 SGK Toán 2 Tập 2):

Số?



Lời giải

Em quan sát các số trên tia số và thấy mỗi số trên tia số hơn kém nhau 10 đơn vị. Em dễ dàng điền được các số như sau:



Bài 3 (trang 88 SGK Toán 2 Tập 2):

Xem tranh rồi trả lời các câu hỏi:



- a) Con vật nào nặng nhất?
 b) Cá sấu nặng hơn ngựa vằn bao nhiêu ki-lô-gam?

Lời giải

- a) Cá sấu nặng: 492 kg
 Hươu cao cổ nặng: 565 kg
 Ngựa vằn nặng: 253 kg
 Vì $253 \text{ kg} < 492 \text{ kg} < 565 \text{ kg}$ nên hươu cao cổ nặng nhất.
 b) Cá sấu nặng hơn ngựa vằn số ki-lô-gam là:

$$565 - 492 = 73 \text{ (kg)}$$

Đáp số: 73 kg

Bài 4 (trang 89 SGK Toán 2 Tập 2):

| | | | | | | |
|-------------|--|------------|--|-------------|--|------------|
| Đặt | | tính | | trừ | | tính: |
| $278 + 441$ | | $69 + 108$ | | $374 - 182$ | | $645 - 73$ |

Lời giải

| | | | |
|-------------|------------|-------------|------------|
| $278 + 441$ | $69 + 108$ | $374 - 182$ | $645 - 73$ |
|-------------|------------|-------------|------------|

$$\begin{array}{r} 278 \\ + 441 \\ \hline 719 \end{array}$$

$$\begin{array}{r} 69 \\ + 108 \\ \hline 177 \end{array}$$

$$\begin{array}{r} 374 \\ - 182 \\ \hline 192 \end{array}$$

$$\begin{array}{r} 645 \\ - 73 \\ \hline 572 \end{array}$$

Bài 5 (trang 89 SGK Toán 2 Tập 2):

Trên một chuyến tàu Bắc – Nam có 576 hành khách mua vé ngồi và 152 hành khách mua vé giường nằm. Hỏi chuyến tàu đó có tất cả bao nhiêu hành khách?

**Lời giải:**

Chuyến tàu đó có tất cả số hành khách là:

$$576 + 152 = 728 \text{ (hành khách)}$$

Đáp số: 728 hành khách

Bài 6 (trang 89 SGK Toán 2 Tập 2):

Trò chơi “Em số bí ẩn”

- Mỗi bạn viết một em số rồi gợi ý cho bạn khác đoán đúng số mình viết.
- Sau ba lượt chơi bạn nào đoán đúng được nhiều nhất sẽ thắng cuộc.

**Lời giải:**

Em có thể đưa ra các gợi ý như sau:

Số gồm: 5 trăm, 6 chục và 7 đơn vị: 567

Số liền trước của số 304 là: 303

Số liền sau của số 999 là: 1000