



Nội dung bài viết

1. [Giải bài tập Toán 2 bài: Em ôn lại những gì đã học - Cánh diều.](#)

Giải bài tập Toán 2 bài: Em ôn lại những gì đã học - Cánh diều.

Bài 1 (trang 84 SGK Toán 2 Tập 2):

Số?

	Trăm	Chục	Đơn vị	Viết số
	?	?	?	?
	?	?	?	?

b) Số?



391 gồm trăm chục đơn vị, ta viết $391 = \text{?} + \text{?} + \text{?}$

928 gồm trăm chục đơn vị, ta viết $928 = \text{?} + \text{?} + \text{?}$

770 gồm trăm chục đơn vị, ta viết $770 = \text{?} + \text{?} + \text{?}$

Lời giải

a)

	Trăm	Chục	Đơn vị	Viết số
	1	0	6	106
	3	4	4	344

b) Em phân tích các số thành tổng các trăm, chục và đơn vị

391 gồm	3	trăm	9	chục	1	đơn vị, ta viết 391 =	$300 + 90 + 1$
928 gồm	9	trăm	2	chục	8	đơn vị, ta viết 928 =	$900 + 20 + 8$
770 gồm	7	trăm	7	chục	0	đơn vị, ta viết 770 =	$700 + 70 + 0$

Bài 2 (trang 84 SGK Toán 2 Tập 2):

(> ; < ; =)?

298 ... 503

189 ... 189

972 ... 890

403 ... 430

Lời giải

298 < 503

189 = 189

972 > 890

403 < 430

Bài 3 (trang 83 SGK Toán 2 Tập 2):

a) Đặt tính rồi tính:

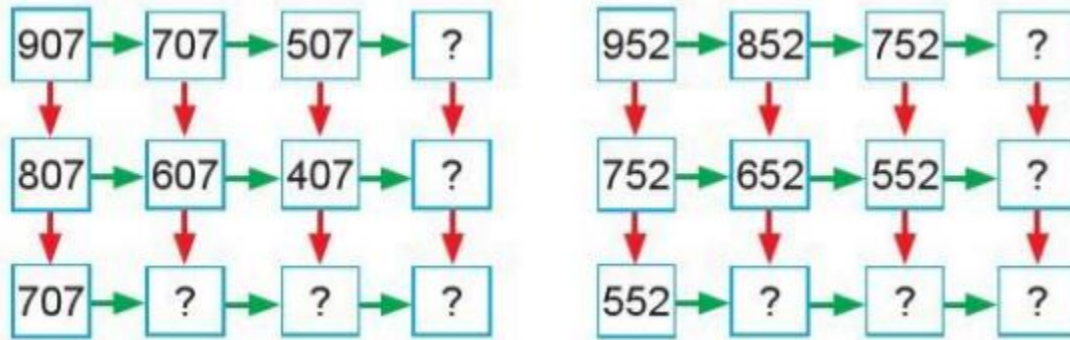
239 + 415

782 + 56

484 - 247

622 - 71

b) Số?



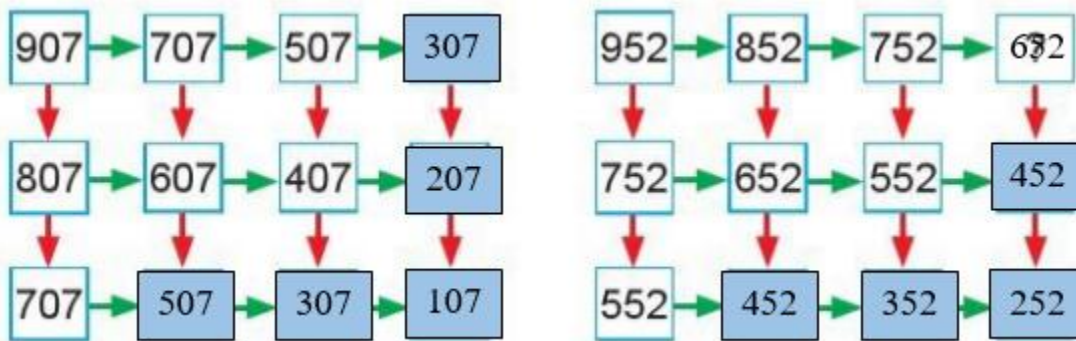
Lời giải

a)

Em điền kết quả như sau:

$\begin{array}{r} 239 \\ + 415 \\ \hline 654 \end{array}$	$\begin{array}{r} 782 \\ + 56 \\ \hline 838 \end{array}$	$\begin{array}{r} 484 \\ - 247 \\ \hline 237 \end{array}$	$\begin{array}{r} 622 \\ - 71 \\ \hline 551 \end{array}$
---	--	---	--





b)



Bài 4 (trang 85 SGK Toán 2 Tập 2):

Quan sát biểu đồ tranh rồi trả lời các câu hỏi:

Số học sinh tham gia câu lạc bộ Mĩ thuật

Lớp 2A	
Lớp 2B	
Lớp 2C	
Lớp 2D	

- a) Lớp 2B có bao nhiêu học sinh tham gia câu lạc bộ Mĩ thuật?
 b) Lớp nào có nhiều học sinh tham gia câu lạc bộ Mĩ thuật nhất?

Lời giải

- a) Lớp 2B có 3 học sinh tham gia câu lạc bộ Mĩ thuật.
 b) Lớp 2A có 5 học sinh tham gia câu lạc bộ Mĩ thuật.

Lớp 2B có 3 học sinh tham gia câu lạc bộ Mĩ thuật.

Lớp 2C có 8 học sinh tham gia câu lạc bộ Mĩ thuật.

Lớp 2D có 3 học sinh tham gia câu lạc bộ Mĩ thuật.

Vậy: Lớp 2C có nhiều học sinh tham gia câu lạc bộ Mĩ thuật nhất.

Bài 5 (trang 85 SGK Toán 2 Tập 2):

Một người đi 18 km để đến thị trấn, sau đó lại đi tiếp 12 km để đến thành phố. Hỏi người đó đã đi được tất cả bao nhiêu ki-lô-mét?

Lời giải

Người đó đã được số ki-lô-mét là:

$$18 + 12 = 30 \text{ (km)}$$

Đáp số: 30 km

Bài 6 (trang 86 SGK Toán 2 Tập 2):

Tìm quãng đường ngắn nhất từ phòng học STEM tới nhà đa năng:



Lời giải

Tính các quãng đường có thể đi từ Phòng học STEM đến Nhà đa năng:

+) $250\text{m} + 300\text{m} + 450\text{m} = 1000\text{m}$

+) $300\text{m} + 250\text{m} + 450\text{m} = 1000\text{m}$

+) $300\text{m} + 470\text{m} + 150\text{m} = 920\text{m}$

Vì $920\text{m} < 1000\text{m}$ nên ta chọn được quãng đường ngắn nhất là:

Phòng học STEM \Rightarrow Bể bơi \Rightarrow Vườn trường \Rightarrow Nhà đa năng