

Nội dung bài viết

1. [Giải bài: Số bị trừ - Số trừ - Hiệu Vở bài tập Toán 2 Tập 1 - Chân trời sáng tạo](#)
  1. [Giải bài 1 trang 16 VBT Toán 2](#)
  2. [Giải bài 2 trang 16 VBT Toán 2](#)
  3. [Giải bài 3 trang 16 VBT Toán 2](#)
  4. [Giải bài 4 trang 16 VBT Toán 2](#)
  5. [Giải bài 5 trang 16 VBT Toán 2](#)
  6. [Giải bài 6 trang 16 VBT Toán 2](#)
  7. [Giải bài 7 trang 16 VBT Toán 2](#)

*Giải bài: Số bị trừ - Số trừ - Hiệu Vở bài tập Toán 2 Tập 1 - Chân trời sáng tạo*

Giải bài 1 trang 16 VBT Toán 2

Làm theo mẫu

Tính	Các thành phần của phép tính		
	Số bị trừ	Số trừ	Hiệu
$14 - 4 = 10$	14	4	10
$63 - 41 = \dots$	...	...	...
$28 - 17 = \dots$	...	...	...
$35 - 30 = \dots$	...	...	...

**Lời giải:**

Ta điền như sau:

Tính	Các thành phần của phép tính		
	Số bị trừ	Số trừ	Hiệu
$14 - 4 = 10$	14	4	10
$63 - 41 = 22$	63	41	22
$28 - 17 = 11$	28	17	11
$35 - 30 = 5$	35	30	5

Giải bài 2 trang 16 VBT Toán 2

Đặt tính rồi tính hiệu

$56 - 14$

$79 - 42$

$88 - 7$

**Lời giải**

Học sinh tự đặt tính

$56 - 14 = 42$

$79 - 42 = 37$

$88 - 7 = 81$

Giải bài 3 trang 16 VBT Toán 2

Nối (theo mẫu)

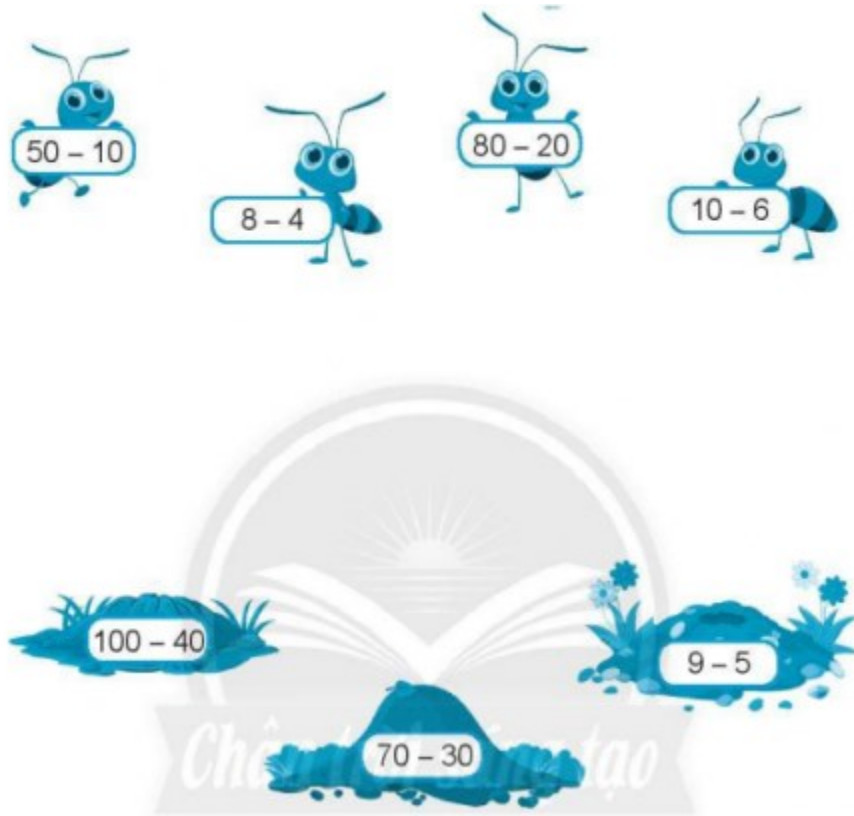
$95 - 53 = \square$                        $58 - 26 = \square$   
 22                      32                      42                      52  
 $43 - 21 = \square$                        $92 - 40 = \square$

**Lời giải**

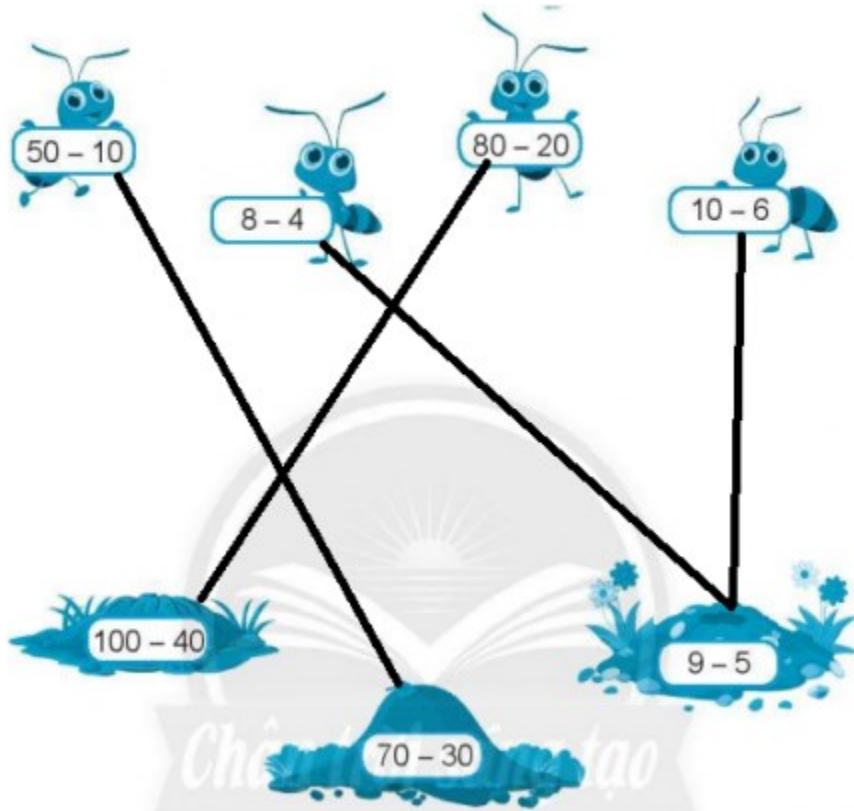
$95 - 53 = \square$                        $58 - 26 = \square$   
 22                      32                      42                      52  
 $43 - 21 = \square$                        $92 - 40 = \square$

Giải bài 4 trang 16 VBT Toán 2

Nói các phép tính có kết quả bằng nhau để tìm tổ cho các bạn kiến



Lời giải:



Giải bài 5 trang 16 VBT Toán 2

Số?

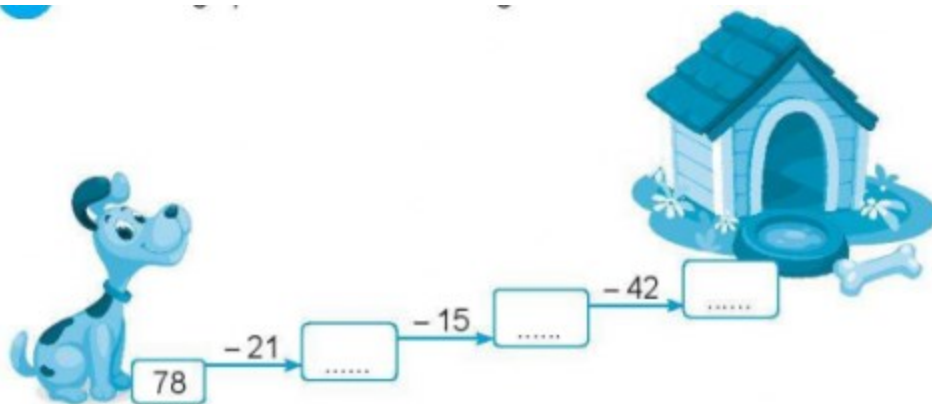
Số bị trừ	68	54	27	93	76
Số trừ	30	21	12	50	15
Hiệu	38	...	...	...	...

Lời giải:

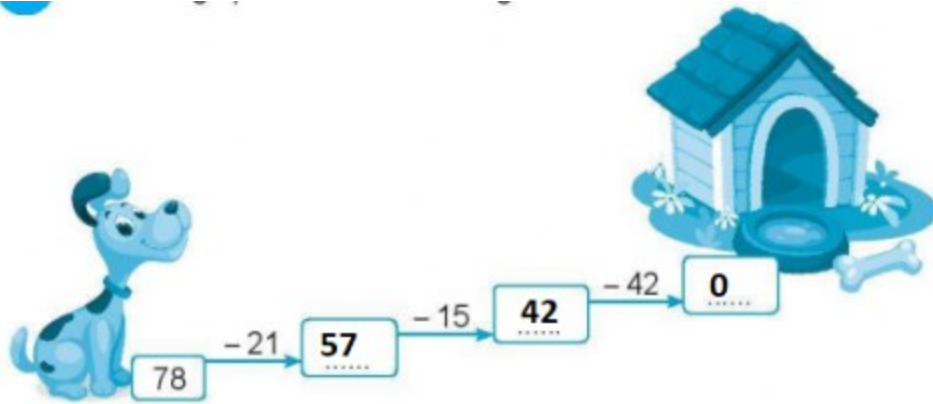
Số bị trừ	68	54	27	93	76
Số trừ	30	21	12	50	15
Hiệu	38	33	15	43	61

Giải bài 6 trang 16 VBT Toán 2

Tính để giúp cún con tìm đường về nhà.




Lời giải:



Giải bài 7 trang 16 VBT Toán 2

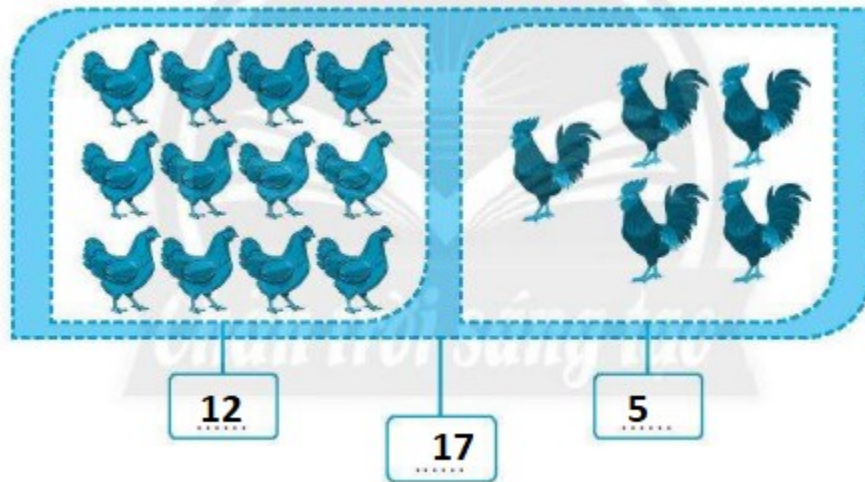
a) Số?



b) Viết bốn phép tính theo tranh ở câu a

**Lời giải:**

a)



b) Học sinh tự viết phép tính