

Nội dung bài viết

1. [Giải bài: Ước lượng Vở bài tập Toán 2 Tập 1 - Chân trời sáng tạo](#)

1.1. [Giải bài 1 trang 11 VBT Toán 2](#)

1.2. [Giải bài 2 trang 11 VBT Toán 2](#)


1.3. [Giải bài 3 trang 11 VBT Toán 2](#)

1.4. [Giải bài 4 trang 11 VBT Toán 2](#)

*Giải bài: Ước lượng Vở bài tập Toán 2 Tập 1 - Chân trời sáng tạo*

Giải bài 1 trang 11 VBT Toán 2

Viết số vào chỗ chấm



a) Ước lượng

- Các con chim xếp thành ..... hàng ngang
- Số con chim ở các hàng gần bằng nhau
- Hàng đầu có ..... con chim
- Đếm số con chim theo các hàng (đếm thêm 10):

10, 20, ..., ...

b) Đếm (đếm từng con chim)

Có tất cả ..... con chim

**Lời giải:**

a) Ước lượng

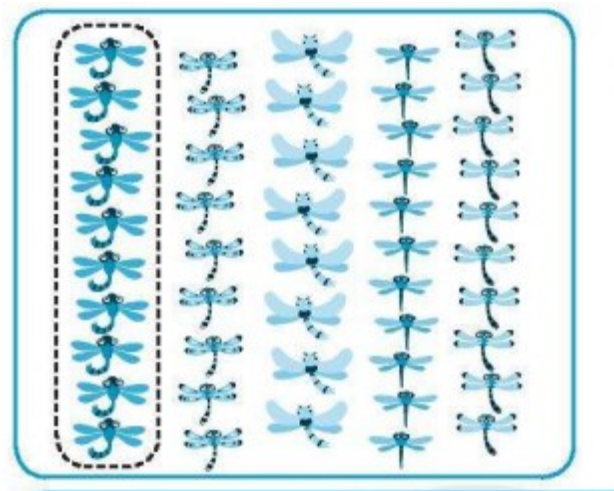
- Các con chim xếp thành **4** hàng ngang
- Số con chim ở các hàng **gần bằng nhau**
- Hàng đầu có **10** con chim
- Đếm số con chim theo các hàng (đếm thêm 10):

10, 20, **30, 40**

b) Đếm (đếm từng con chim)

Có tất cả **42** con chim

Giải bài 2 trang 11 VBT Toán 2



**Ước lượng:**

Có khoảng ..... con chuồn chuồn

**Đếm:**

Có ..... con chuồn chuồn

Lời giải


**Ước lượng:**

Có khoảng 50 con chuồn chuồn

**Đếm:**

Có **48** con chuồn chuồn

Giải bài 3 trang 11 VBT Toán 2




Ước lượng: Có khoảng ..... con gà

**Lời giải:**

Ước lượng: Có khoảng 70 con gà

Giải bài 4 trang 11 VBT Toán 2



Ước lượng: Có khoảng ..... đôi giày

**Đếm:** Có ..... đôi giày

**Lời giải:**

Ước lượng: Có khoảng 30 đôi giày

Đếm: Có 30 đôi giày