

Nội dung bài viết

1. [Hướng dẫn giải bài tập trang 55 SGK Toán 1: Luyện tập phép trừ trong phạm vi 3](#)

Hướng dẫn giải bài tập trang 55 SGK Toán 1: Luyện tập phép trừ trong phạm vi 3

Giải Bài 1 trang 55 SGK Toán lớp 1

Tính

$$1 + 2 = 1 + 1 = 1 + 2 = 1 + 1 + 1 =$$

$$1 + 3 = 2 - 1 = 3 - 1 = 3 - 1 - 1 =$$

$$1 + 4 = 2 + 1 = 3 - 2 = 3 - 1 + 1 =$$

Hướng dẫn giải:

$$1 + 2 = 3 \quad 1 + 1 = 2 \quad 1 + 2 = 3 \quad 1 + 1 + 1 = 3$$

$$1 + 3 = 4 \quad 2 - 1 = 1 \quad 3 - 1 = 2 \quad 3 - 1 - 1 = 1$$

$$1 + 4 = 5 \quad 2 + 1 = 3 \quad 3 - 2 = 1 \quad 3 - 1 + 1 = 3$$

Giải Bài 2 trang 55 SGK Toán lớp 1

Số?



Hướng dẫn giải:



Giải Bài 3 trang 55 SGK Toán lớp 1

Điền +, -

$$1 \dots 1 = 2 \quad 2 \dots 1 = 3 \quad 1 \dots 2 = 3 \quad 1 \dots 4 = 5$$

$$2 \dots 1 = 1 \quad 3 \dots 2 = 1 \quad 3 \dots 1 = 2 \quad 2 \dots 2 = 4$$

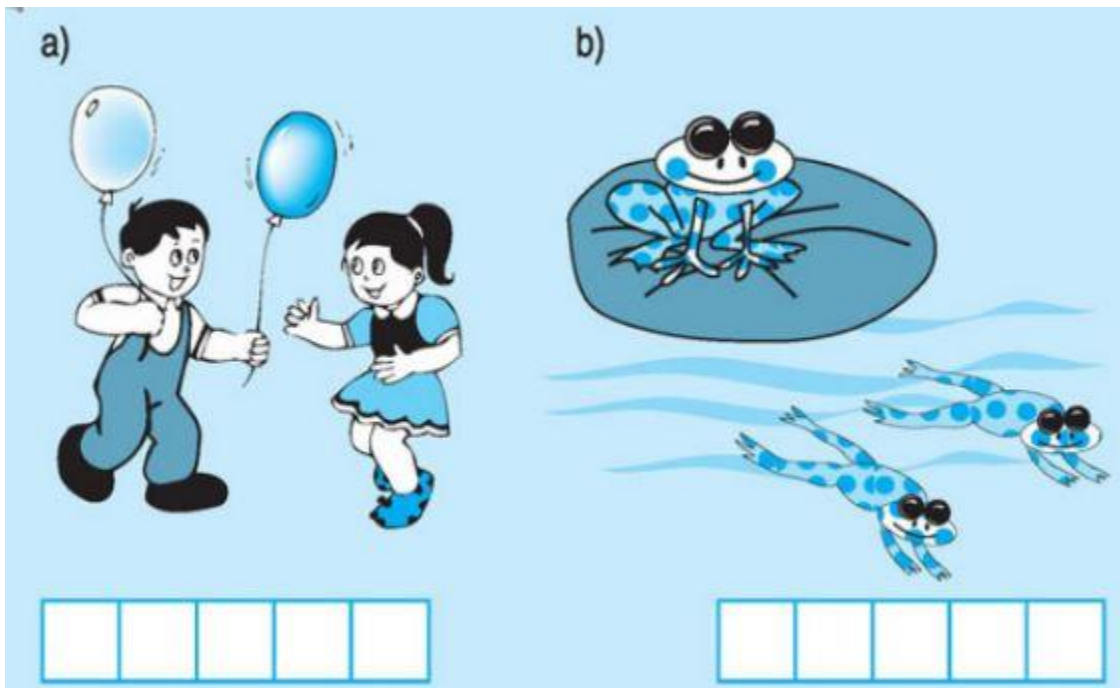
Hướng dẫn giải:

$$1 + 1 = 2 \quad 2 + 1 = 3 \quad 1 + 2 = 3 \quad 1 + 4 = 5$$

$$2 - 1 = 1 \quad 3 - 2 = 1 \quad 3 - 1 = 2 \quad 2 + 2 = 4$$


Giải Bài 4 trang 55 SGK Toán lớp 1

Viết phép tính thích hợp

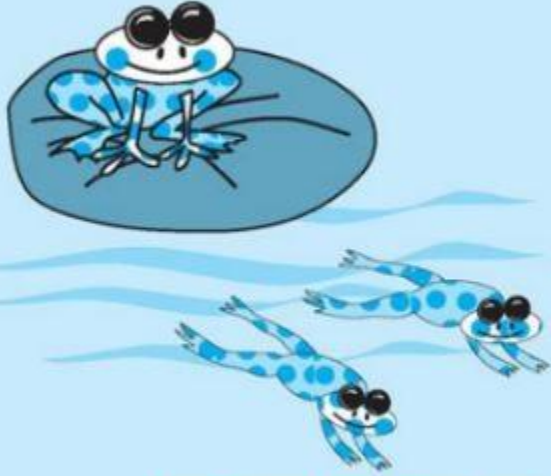


Hướng dẫn giải

a)



b)



| | | | | |
|---|---|---|---|---|
| 2 | - | 1 | = | 1 |
|---|---|---|---|---|

| | | | | |
|---|---|---|---|---|
| 3 | - | 2 | = | 1 |
|---|---|---|---|---|