
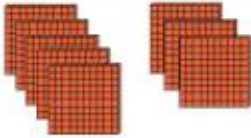



Giải bài tập Toán lớp 2: Đơn vị, chục, trăm, nghìn - Chân trời sáng tạo


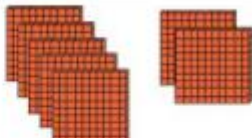

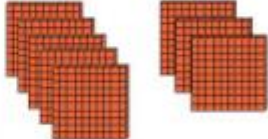


Luyện tập

Bài 1 (trang 38 SGK Toán 2 Tập 2)

Viết số, đọc số (theo mẫu).

	Viết số	Đọc số		Viết số	Đọc số
	100	một trăm		.?	.?
	.?	.?		.?	.?
	.?	.?		.?	.?

Trả lời:

	Viết số	Đọc số		Viết số	Đọc số
	100	một trăm		700	bảy trăm
	200	hai trăm		800	tám trăm
	500	năm trăm		1000	một nghìn

Bài 2 (trang 38 SGK Toán 2 Tập 2)

Đọc các số tròn trăm từ 100 đến 1000.



Trả lời:


Em điền kết quả vào chỗ còn trống, kết quả như sau:



Em đọc các số lần lượt từ trái qua phải: một trăm, hai trăm, ba trăm, bốn trăm, năm trăm, sáu trăm, bảy trăm, tám trăm, chín trăm, một triệu.

Bài 3 (trang 38 SGK Toán 2 Tập 2)

Số?



Có trăm và chục quả trứng.

Trả lời:

Em đếm số trứng ở mỗi khay: 1, 2, 3, ..., 20. Mỗi khay có 2 chục.

Đếm chồng trứng thứ nhất: 2 chục, 4 chục, 6 chục, 8 chục, 1 trăm

Đếm chồng trứng thứ hai: 2 chục, 4 chục, 6 chục, 8 chục.

Kết luận:

Có 1 trăm và 8 chục quả trứng.

Bài 4 (trang 39 SGK Toán 2 Tập 2)

Viết và đọc các số tròn chục từ 110 đến 200.

	Trăm	Chục	Đơn vị	Viết số	Đọc số
	1	1	0	110	một trăm mười
	1	2	0	120	một trăm hai mươi
	1	3	0	130	một trăm ba mươi
	?	?	?	?	?
	?	?	?	?	?
	?	?	?	?	?
	?	?	?	?	?
	?	?	?	?	?
	?	?	?	?	?
	?	?	?	?	?

Trả lời:






Quan sát hình ảnh các khối lập phương

Có 1 trăm khối lập phương, ta viết chữ số 1 ở cột trăm.

Có 1 chục khối lập phương, ta viết chữ số 1 ở cột chục.

Có 0 đơn vị (không có khối lập phương lẻ), ta viết số 0 ở cột đơn vị

Thực hiện tương tự, em có kết quả như bảng sau:

	Trăm	Chục	Đơn vị	Viết số	Đọc số
	1	1	0	110	một trăm mười
	1	2	0	120	một trăm hai mươi
	1	3	0	130	một trăm ba mươi
	1	4	0	140	một trăm bốn mươi
	1	5	0	150	một trăm năm mươi
	1	6	0	160	một trăm sáu mươi
	1	7	0	170	một trăm bảy mươi
	1	8	0	180	một trăm tám mươi
	1	9	0	190	một trăm chín mươi
	2	0	0	200	hai trăm

Bài 5 (trang 40 SGK Toán 2 Tập 2)

Mỗi con chim sẽ bay đến đâu?



Trả lời:

Quan sát hình, em xác định các số ở mỗi cây.

Mỗi vạch trên tia số cách nhau 10 đơn vị, các số trên tia số lần lượt là:

90; 100; 110; 120; 130; 140; 150; 160; 170; 180; 190; 200; 210

Số ở cây màu xanh lá cây là số 160.

Số ở cây màu xanh da trời là số 180

Số ở cây màu tím là số 200

Như vậy:

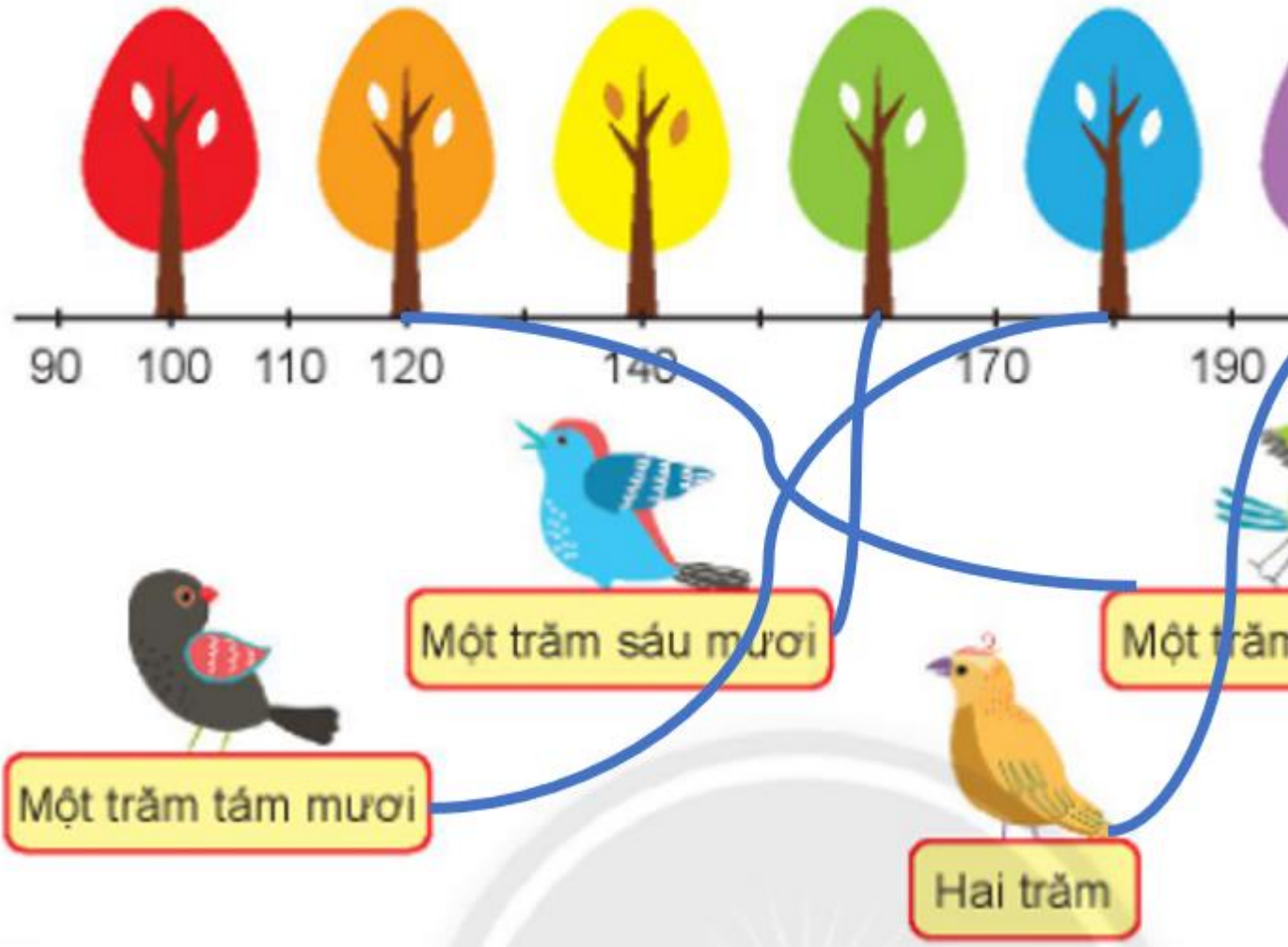
Con chim sẻ màu đen sẽ bay đến cây màu xanh da trời.

Con chim màu xanh da trời sẽ bay và cây màu xanh lá.

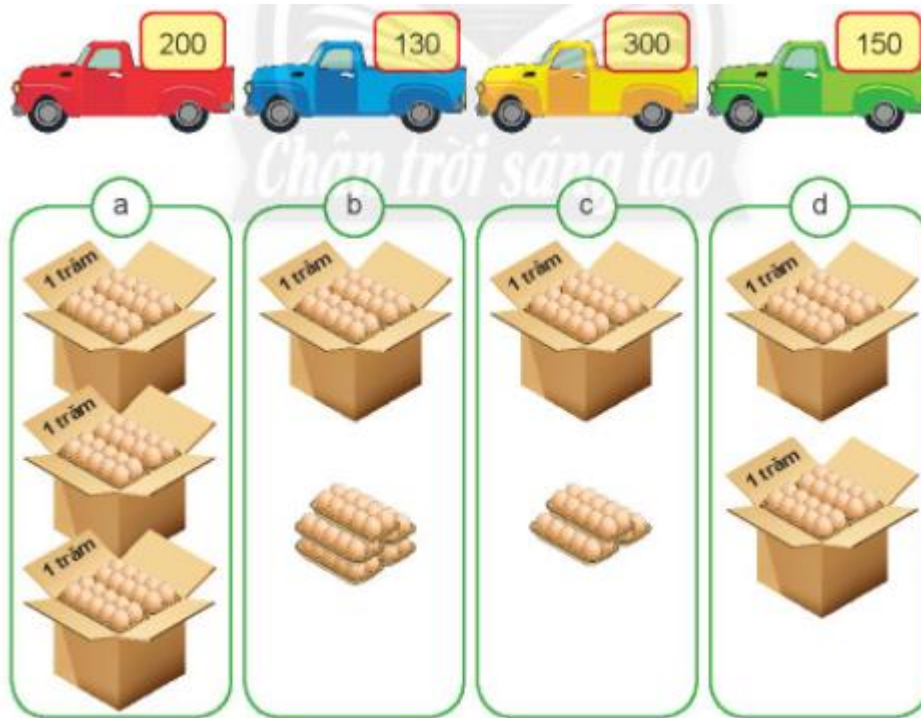
Con chim màu xanh lá sẽ bay đến cây mà cam.

Con chim màu cam sẽ bay đến cây màu tím.

Em nói như sau:



Bài 6 (trang 40 SGK Toán 2 Tập 2)
Xếp trứng gà lên xe.



Trả lời:

Khung a có 3 cái thùng, mỗi thùng có 1 trăm quả trứng gà, số trứng gà ở hình a là 1 trăm, 2 trăm, 3 trăm. Có 300 quả trứng.

Khung b có 1 trăm 5 chục. Có 150 quả trứng.

Khung c có 1 trăm 3 chục. Có 130 quả trứng.

Khung d có 1 trăm, 2 trăm. Có 200 quả trứng.

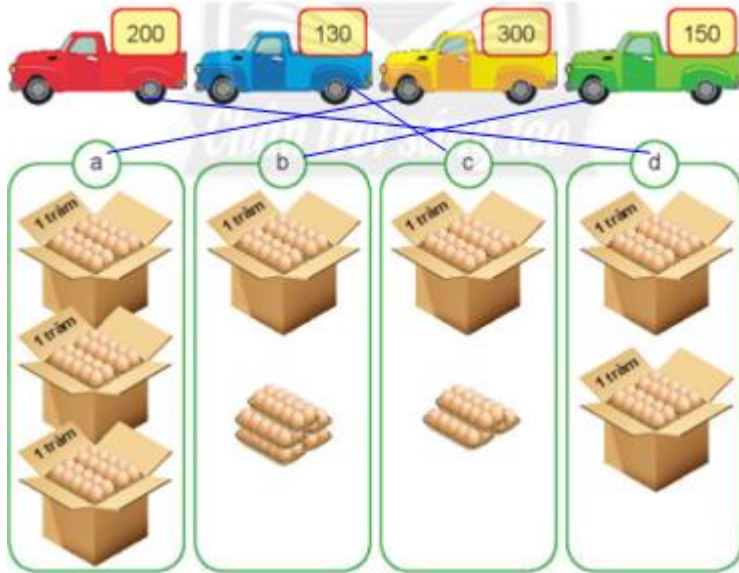
Vậy xe màu đỏ chở khung d.

Xe màu xanh da trời chở khung c.

Xe màu vàng chở khung a.


Xe màu xanh lá chở khung b.

Em nói như sau:



Thử thách: (trang 41 SGK Toán 2 Tập 2)

Quan sát bức tường gạch













Số?

a) Mỗi hàng có viên gạch.

b) Có tất cả viên gạch.

c) Mỗi màu có bao nhiêu viên gạch?

?	?	?	?	?	?	?	?	?	?
viên	viên	viên	viên	viên	viên	viên	viên	viên	viên
									

Trả lời:

a) Đếm số viên gạch ở mỗi hàng, em thấy mỗi hàng có 10 viên gạch.

b) Có 20 hàng, mỗi hàng có 10 viên gạch, số viên gạch là: $10 + 10 = 200$ viên gạch.

c) Mỗi hàng có một loại màu khác nhau.

Số viên gạch mỗi loại bằng số hàng.

Có 20 viên gạch màu đỏ, 20 viên gạch màu da cam, 20 viên gạch màu vàng, 20 viên gạch màu xanh lá mạ, 20 viên gạch màu xanh da trời, 20 viên gạch màu xanh nước biển, 20 viên gạch màu tím, 20 viên gạch màu hồng, 20 viên gạch xanh lá cây, 20 viên gạch màu nâu.

Em điền kết quả như sau:

a) Mỗi hàng có 10 viên gạch.

b) Có tất cả 200 viên gạch.

c) Mỗi màu có bao nhiêu viên gạch?

20	20	20	20	20	20	20	20	20	20
viên	viên	viên	viên	viên	viên	viên	viên	viên	viên
									