

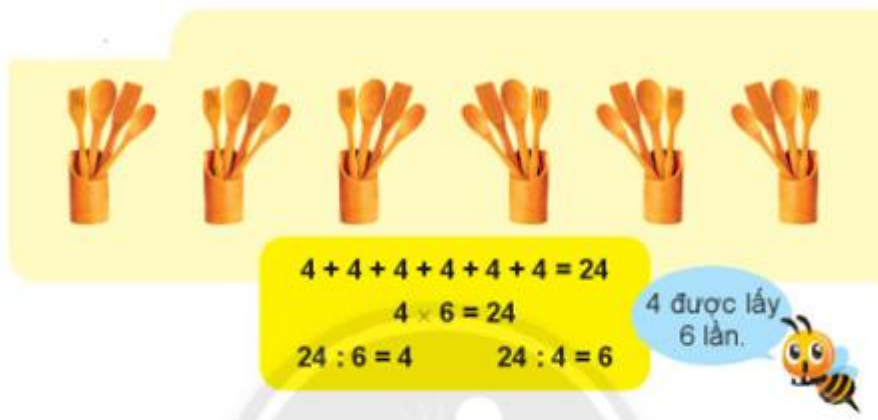
Giải bài tập Toán 2 bài: Em làm được những gì - Chân trời sáng tạo

Luyện tập

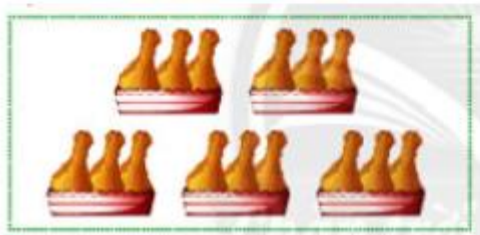
Bài 1 (trang 31 SGK Toán 2 Tập 2)

Làm theo mẫu.

Mẫu:



a)



b)



Trả lời:

Quan sát hình, em thấy

a) Có 5 cái hộp, mỗi cái hộp có 3 cái đùi gà.

Tính tổng số đùi gà em dùng phép tính cộng: $3 + 3 + 3 + 3 + 3 = 15$ (cái)

Sử dụng phép nhân: 3 được lấy 5 lần, em có phép tính nhân $3 \times 5 = 15$ (cái)

Từ phép tính nhân, em suy ra các phép chia $15 : 3 = 5$, $15 : 5 = 3$

b) Có 7 nải chuối, mỗi nải có 5 quả chuối.

Tổng số quả chuối là: $5 + 5 + 5 + 5 + 5 + 5 + 5 = 35$ (quả)

Sử dụng phép tính nhân: 5 được lấy 7 lần, em có phép tính nhân $5 \times 7 = 35$ (quả)

Từ phép nhân, em suy ra các phép chia $35 : 5 = 7$, $35 : 7 = 5$

Em trình bày như sau:

a) $3 + 3 + 3 + 3 + 3 = 15$

b) $5 + 5 + 5 + 5 + 5 + 5 + 5 = 35$

$3 \times 5 = 15$

$5 \times 7 = 35$

$15 : 3 = 5$; $15 : 5 = 3$

$35 : 5 = 7$; $35 : 7 = 5$

Bài 2 (trang 31 SGK Toán 2 Tập 2)

a) Đọc các phép nhân, phép chia trong bảng sau.

Mẫu: Hai nhân năm bằng mười.

Mười chia hai bằng năm.

Mười chia năm bằng hai.

| | | | |
|---|------|---|----|
| × | 5 | 3 | 7 |
| 2 | → 10 | 6 | 14 |

b) Số?

| | | | |
|---|---|----|----|
| × | 2 | ? | ? |
| 2 | ? | 18 | 12 |

| | | | |
|---|---|----|----|
| × | 7 | ? | ? |
| 5 | ? | 20 | 15 |

| | | | |
|---|---|---|----|
| × | 5 | 8 | 10 |
| 2 | ? | ? | ? |
| 5 | ? | ? | ? |

Trả lời:

a) Ba nhân hai bằng sáu.

Sáu chia hai bằng ba.

Sáu chia ba bằng hai.

Bảy nhân hai bằng mười bốn.

Mười bốn chia hai bằng bảy.

Mười bốn chia bảy bằng hai.

b) Tương tự cách làm câu a, em có kết quả trong bảng sau:

| | | | |
|---|---|----|----|
| × | 2 | 9 | 6 |
| 2 | 4 | 18 | 12 |

| | | | |
|---|----|----|----|
| × | 7 | 4 | 3 |
| 5 | 35 | 20 | 15 |

| | | | |
|---|----|----|----|
| × | 5 | 8 | 10 |
| 2 | 10 | 16 | 20 |
| 5 | 25 | 40 | 50 |

Bài 3 (trang 32 SGK Toán 2 Tập 2)

Có bao nhiêu?

Mẫu:

Cách 1
 Có 3 hàng, mỗi hàng 5 miếng.
 $5 \times 3 = 15$

Cách 2
 Có 5 cột, mỗi cột 3 miếng.
 $3 \times 5 = 3 + 3 + 3 + 3 + 3 = 15$

a) Có bao nhiêu hình tròn?



b) Có bao nhiêu hình vuông nhỏ?



Trả lời:

Em có thể làm theo hai cách:

a) Cách 1: Có 2 hàng, mỗi hàng có 6 chấm tròn.

Số chấm tròn là: $6 + 6 = 12$

Cách 2: Có 6 cột, mỗi cột có 2 chấm tròn

Số chấm tròn là: $2 \times 6 = 12$

b) Cách 1: Có 4 hàng, mỗi hàng có 5 hình vuông nhỏ.

Số hình vuông nhỏ là: $5 \times 4 = 20$

Cách 2: Có 5 cột, mỗi cột có 4 hình vuông nhỏ.

Số hình vuông nhỏ là $4 + 4 + 4 + 4 + 4 = 20$

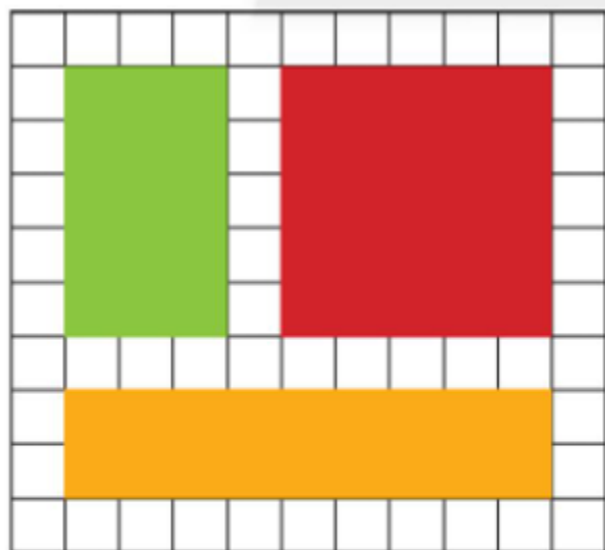
Em trình bày như sau:

a) Có tất cả: $6 \times 2 = 12$ hình tròn.

b) Có tất cả: $5 \times 4 = 20$ hình vuông nhỏ.

Bài 4 (trang 32 SGK Toán 2 Tập 2)

Mỗi hình chữ nhật, hình vuông che bao nhiêu ô vuông nhỏ?



- che ô vuông nhỏ.
- che ô vuông nhỏ.
- che ô vuông nhỏ.

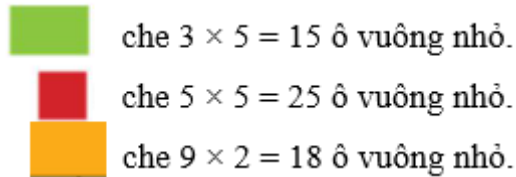
Trả lời:

Hình chữ nhật xanh che 5 hàng, mỗi hàng có 3 ô vuông nhỏ, số ô vuông nhỏ là $3 \times 5 = 15$ ô vuông nhỏ.

Hình vuông đỏ che 5 hàng, mỗi hàng có 5 ô vuông nhỏ, số ô vuông nhỏ là $5 \times 5 = 25$ ô vuông nhỏ.

Hình chữ nhật vàng che 2 hàng, mỗi hàng có 9 ô vuông nhỏ, số ô vuông nhỏ là $9 \times 2 = 18$ ô vuông nhỏ.

Em trình bày như sau:



Bài 5 (trang 33 SGK Toán 2 Tập 2)

(>, =, <)?

$$5 + 5 + 5 \dots\dots 5 \times 3$$

$$2 \times 7 \dots\dots 5 \times 7$$

$$5 \times 9 \dots\dots 2 \times 9$$

$$2 \times 5 \dots\dots 5 \times 2$$

Trả lời:

$$5 + 5 + 5 = 15; 5 \times 3 = 15. \text{ Vậy } 5 + 5 + 5 = 5 \times 3$$

$$5 \times 9 = 45; 2 \times 9 = 18. \text{ Vậy } 5 \times 9 > 2 \times 9$$

$$2 \times 7 = 14; 5 \times 7 = 35. \text{ Vậy } 2 \times 7 < 5 \times 7$$

$$2 \times 5 = 10; 5 \times 2 = 10. \text{ Vậy } 2 \times 5 = 5 \times 2$$

Em điền như sau:

$$5 + 5 + 5 = 5 \times 3$$

$$2 \times 7 < 5 \times 7$$

$$5 \times 9 > 2 \times 9$$

$$2 \times 5 = 5 \times 2$$

Bài 6 (trang 33 SGK Toán 2 Tập 2)

Các bao nào có cùng số lượng?



Trả lời:

Kết quả phép tính ở bao dưa hấu là: $5 \times 2 = 10$

Kết quả phép tính ở bao ngô là: $2 \times 8 = 16$

Kết quả phép tính ở bao táo là: $20 + 20 = 40$

Kết quả phép tính ở bao cam là: $5 \times 8 = 40$

Kết quả phép tính ở bao bí ngô là: $2 \times 5 = 10$

Kết quả phép tính ở bao dưa là: $8 + 8 = 16$

Em nối như sau:



Bài 7 (trang 33 SGK Toán 2 Tập 2)

Mỗi con vật che dấu phép tính nào (+, -, × hay :)?

a) 6  2 = 4

6  2 = 8

6  2 = 3

6  2 = 12

b) 10  5 = 2

10  5 = 50

10  5 = 15

10  5 = 5

Trả lời:

Em điền kết quả như sau:

a) $6 - 2 = 4$

b) $10 : 5 = 2$

$6 + 2 = 8$

$10 \times 5 = 50$

$6 : 2 = 3$

$10 + 5 = 15$

$6 \times 2 = 12$

$10 - 5 = 5$

Bài 8 (trang 33 SGK Toán 2 Tập 2)

Có 10 hộp, mỗi hộp có 2 huy hiệu. Hỏi có tất cả bao nhiêu huy hiệu?



Trả lời:

Có 10 hộp, mỗi hộp có 2 huy hiệu. Để tính số huy hiệu, em sử dụng phép tính nhân $10 \times 2 = 20$ chiếc.

Em trình bày như sau:

Bài giải

Có tất cả số huy hiệu là:

$10 \times 2 = 20$ (chiếc)

Đáp số: 20 chiếc huy hiệu.

Bài 9 (trang 33 SGK Toán 2 Tập 2)

Chia đều 20 huy hiệu cho 5 bạn. Hỏi mỗi bạn được chia mấy huy hiệu?



Trả lời:

Chia đều 20 huy hiệu cho 5 bạn. Tính số huy hiệu mỗi bạn được nhận em thực hiện phép tính chia
 $20 : 5 = 4$

Em trình bày như sau:

Bài giải

Mỗi bạn được số huy hiệu là:

$$20 : 5 = 4 \text{ (huy hiệu)}$$

Đáp số: 4 huy hiệu.

Bài 10 (trang 33 SGK Toán 2 Tập 2)

a) Quan sát các bức tranh sau. Nói theo mẫu:

Các bạn đến vườn thú lúc 8 giờ.

b) Trả lời các câu hỏi.

Lúc 8 giờ rưỡi, các bạn đang ở đâu?

Lúc 10 giờ, các bạn đang làm gì?



Trả lời:

a)

Các bạn xem hươu cao cổ lúc 8 giờ 15 phút.

Các bạn xem chim lúc 8 giờ 30 phút.

Các bạn xem voi lúc 9 giờ.

Các bạn xem hổ lúc 9 giờ 30 phút.

Các bạn xem hồ lúc 10 giờ.

Các bạn lên xe buýt lúc 11 giờ.

b)

Lúc 8 giờ 30 phút các bạn đang xem chim.

Lúc 10 giờ các bạn đang xem hồ

Hoạt động thực tế: (trang 34 SGK Toán 2 Tập 2)

Tập làm việc theo đúng thời gian dự định. Lúc 8 giờ, em bắt đầu vẽ tranh, em định vẽ 1 giờ. Em tập trung vẽ để xong bức tranh vào lúc 9 giờ.