

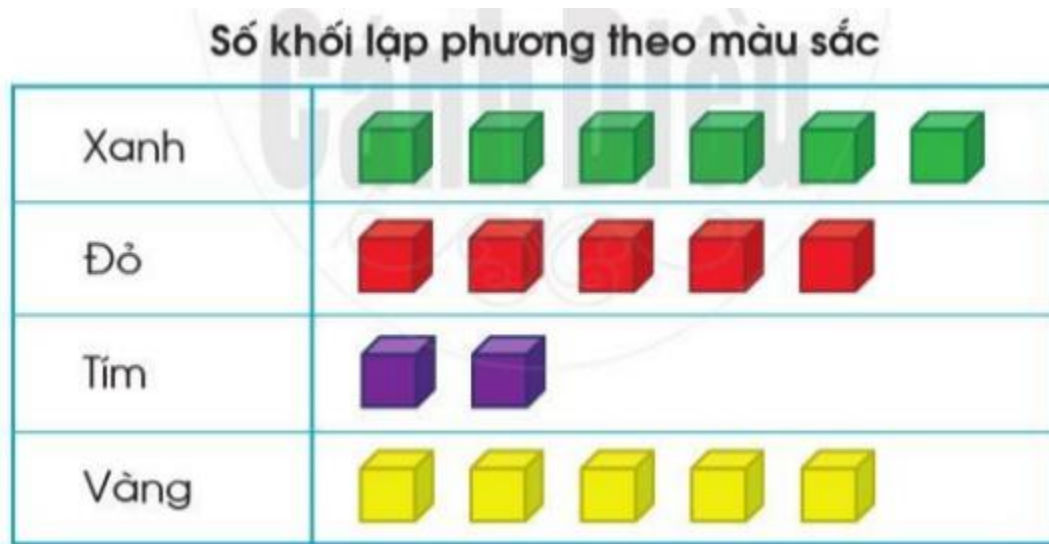
Nội dung bài viết

1. [Giải bài tập Toán 2 bài: Biểu đồ tranh - Cánh diều.](#)

*Giải bài tập Toán 2 bài: Biểu đồ tranh - Cánh diều.*

**Bài 1 (trang 80 SGK Toán 2 Tập 2):**

Quan sát biểu đồ tranh sau:



Trả lời các câu hỏi:

- Có bao nhiêu khối lập phương màu xanh?
- Có bao nhiêu khối lập phương màu tím?
- Những khối lập phương màu nào có số lượng bằng nhau?

**Lời giải:**




Em quan sát biểu đồ tranh, thực hiện đếm số lượng các khối lập phương rồi trả lời các câu hỏi:

- Có 6 khối lập phương màu xanh.
- Có 2 khối lập phương màu tím.
- Khối lập phương mà đỏ và vàng có số lượng bằng nhau.

**Bài 2 (trang 81 SGK Toán 2 Tập 2):**

Quan sát biểu đồ tranh sau:

**Số trứng mỗi con gà đẻ được trong một tuần**

Gà mái mơ	
Gà mái ri	
Gà mái đen	

Trả lời các câu hỏi:

- Mỗi con gà đẻ được bao nhiêu quả trứng?
- Con gà nào đẻ được nhiều trứng nhất? Con gà nào đẻ được ít trứng nhất?
- Ba con gà đã đẻ được tất cả bao nhiêu quả trứng?

**Lời giải:**









Em quan sát biểu đồ tranh, đếm số lượng các quả trứng gà rồi trả lời các câu hỏi:

- Gà mái mơ đẻ được 4 trứng.  
Gà mái ri đẻ được 6 trứng.  
Gà mái đen đẻ được 5 trứng.
- Gà mái ri đẻ được nhiều trứng nhất. Gà mái mơ đẻ được ít trứng nhất.
- Ba con gà đã đẻ được tất cả:  $4 + 6 + 5 = 15$  quả trứng.

**Bài 3 (trang 81 SGK Toán 2 Tập 2):**

Quan sát biểu đồ tranh sau:

Phương tiện đến trường của học sinh lớp 2A

 Xe buýt	
 Xe đạp	
 Xe máy	
 Đi bộ	

- Có bao nhiêu học sinh đi học bằng xe buýt?
- Có bao nhiêu học sinh đi học bằng xe đạp?
- Các học sinh đến trường bằng phương tiện nào nhiều nhất?

**Lời giải:**

Em quan sát biểu đồ tranh, đếm số lượng các đối tượng rồi trả lời các câu hỏi:

- Có 9 học sinh đi học bằng xe buýt.
- Có 6 học sinh đi học bằng xe đạp.
- Các học sinh đến trường bằng xe buýt nhiều nhất.