

Nội dung bài viết

1. [Giải bài tập Toán 2 bài: Thu thập – Kiểm đếm - Cánh diều.](#)

Giải bài tập Toán 2 bài: Thu thập – Kiểm đếm - Cánh diều.

Bài 1 (trang 78 SGK Toán 2 Tập 2):

Số?




Lời giải:

Em thực hiện đếm số que tính ở mỗi hình và điền kết quả như sau:



Bài 2 (trang 78 SGK Toán 2 Tập 2):


Kiểm đếm số lượng từng loại con vật: châu chấu, chuồn chuồn, bọ rùa và ghi kết quả (theo mẫu):




Mẫu: Ong 6

Lời giải:

Em thực hiện đếm số châu chấu, số bộ rùa, số chuồn chuồn.


Châu chấu:  5

Bộ rùa:  11

Chuồn chuồn:  3

Bài 3 (trang 79 SGK Toán 2 Tập 2):

a) Kiểm đếm số lượng từng loại trái cây: na, thanh long, dâu tây, dứa và ghi kết quả (theo mẫu):



Mẫu: Táo  7

b) Trả lời câu hỏi: Loại trái cây nào có nhiều nhất? Loại trái cây nào có ít nhất?

Lời giải:

a) Em thực hiện đếm đếm số lượng từng loại trái cây: na, thanh long, dâu tây, dứa.

Na:  5

Thanh long:  8

Dâu tây:  12

Dứa:  4

b) Loại trái cây dâu tây có nhiều nhất

Loại trái cây dứa có ít nhất

Bài 4 (trang 79 SGK Toán 2 Tập 2):

Một người theo dõi thời tiết đã ghi lại thời tiết trong tháng 6 như sau:

Tháng 6	1	2	3	4	5	6	7	8	9	10
										
	11	12	13	14	15	16	17	18	19	20
										
	21	22	23	24	25	26	27	28	29	30
										

a) Hãy kiểm đếm và ghi lại kết quả số ngày nắng, số ngày mưa và số ngày nhiều mây.

b) Nêu nhận xét về số ngày nắng trong tháng trên.

Lời giải:

a) Em thực hiện kiểm đếm và ghi lại kết quả số ngày nắng, số ngày mưa và số ngày nhiều mây như sau:

Số ngày nắng: 12

Số ngày mưa: 8

Số ngày nhiều mây: 10

b) Em thấy số ngày nắng trong tháng trên là nhiều nhất.

Bài 5 (trang 79 SGK Toán 2 Tập 2):

Trò chơi “Oẳn tù tì”:

Thực hiện nhiều lần, kiểm đếm và ghi lại kết quả mỗi lần chơi:



Đức:

Linh:



Lời giải:

Em thực hiện chơi “Oẳn tù tì” với các bạn rồi ghi lại số lần mình thắng.

Ví dụ: Em và bạn Lan chơi “Oẳn tù tì”

Số lần em thắng:

Số lần bạn Lan thắng: