

Nội dung bài viết

- [Giải bài tập Toán 2 bài: Luyện tập chung - Cánh diều.](#)

Giải bài tập Toán 2 bài: Luyện tập chung - Cánh diều.

Bài 1 (trang 76 SGK Toán 2 Tập 2):

Tính:

a)	$\begin{array}{r} + 432 \\ + 257 \\ \hline \square \end{array}$	$\begin{array}{r} + 192 \\ + 406 \\ \hline \square \end{array}$	$\begin{array}{r} - 994 \\ - 770 \\ \hline \square \end{array}$
b)	$\begin{array}{r} + 248 \\ + 134 \\ \hline \square \end{array}$	$\begin{array}{r} + 594 \\ + 132 \\ \hline \square \end{array}$	$\begin{array}{r} - 481 \\ - 136 \\ \hline \square \end{array}$

Lời giải:

a)	$\begin{array}{r} + 432 \\ + 257 \\ \hline \square \\ 689 \end{array}$	$\begin{array}{r} + 192 \\ + 406 \\ \hline \square \\ 598 \end{array}$	$\begin{array}{r} - 994 \\ - 770 \\ \hline \square \\ 224 \end{array}$
b)	$\begin{array}{r} + 248 \\ + 134 \\ \hline \square \\ 382 \end{array}$	$\begin{array}{r} + 594 \\ + 132 \\ \hline \square \\ 726 \end{array}$	$\begin{array}{r} - 481 \\ - 136 \\ \hline \square \\ 345 \end{array}$

Bài 2 (trang 76 SGK Toán 2 Tập 2):

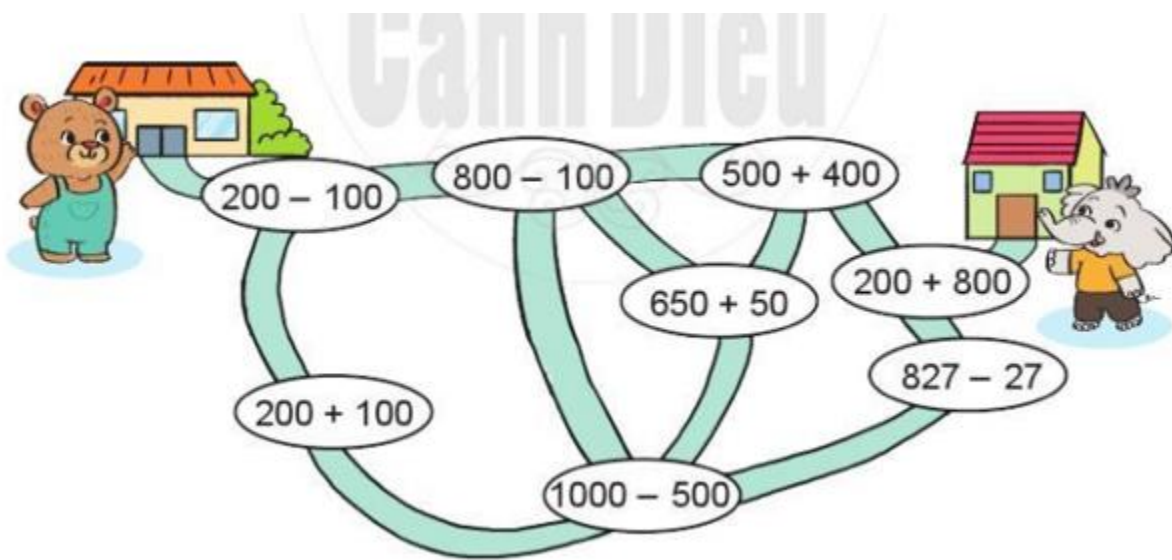
Đặt tính rồi tính:

249 + 128	859 – 295	175 – 64
172 + 65	171 – 8	360 – 170

$\begin{array}{r} 249 \\ + 128 \\ \hline 377 \end{array}$	<p>Lời giải:</p> $\begin{array}{r} 859 \\ - 295 \\ \hline 664 \end{array}$	$\begin{array}{r} 175 \\ - 64 \\ \hline 111 \end{array}$
$\begin{array}{r} 172 \\ + 65 \\ \hline 237 \end{array}$	$\begin{array}{r} 171 \\ - 8 \\ \hline 163 \end{array}$	$\begin{array}{r} 360 \\ - 170 \\ \hline 190 \end{array}$

Bài 3 (trang 76 SGK Toán 2 Tập 2):

Bạn Gấu phải đi qua các vị trí ghi phép tính có kết quả lần lượt là 100, 300, 500, 700, 900, 1000 để đến nhà bạn Voi. Hãy chỉ đường giúp bạn Gấu.



Lời giải:

Em thực hiện tính:

$$200 - 100 = 100$$

$$800 - 100 = 700$$

$$500 + 400 = 900$$

$$200 + 100 = 300$$

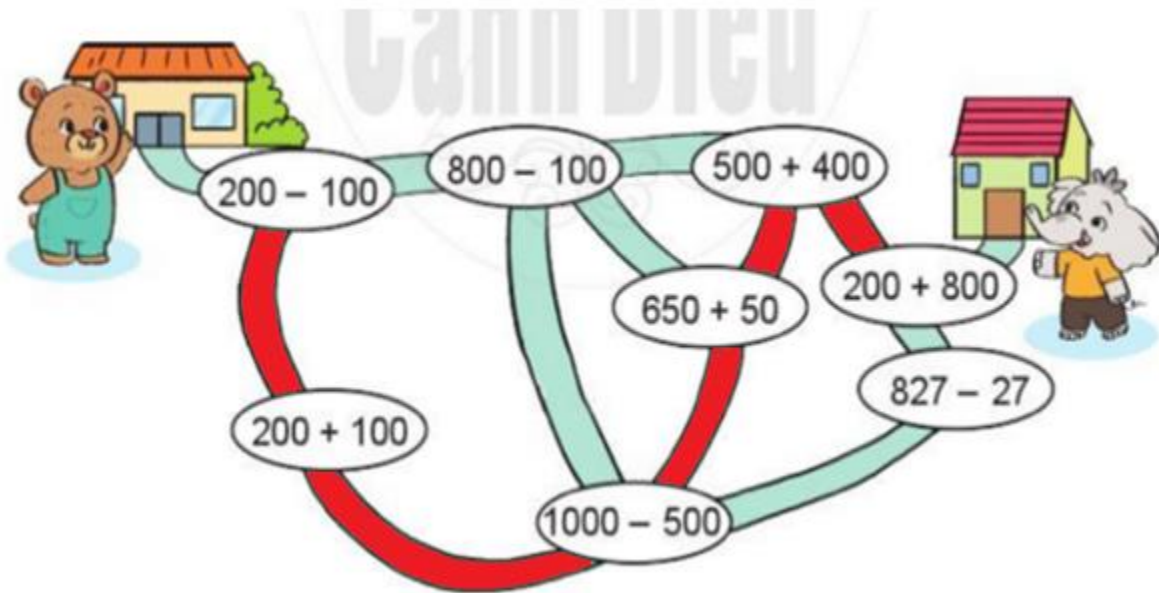
$$1000 - 500 = 500$$

$$650 + 50 = 700$$

$$200 + 800 = 1000$$

$$827 - 27 = 800$$

Bạn Gấu phải đi qua các vị trí ghi phép tính có kết quả lần lượt là 100, 300, 500, 700, 900, 1000 để đến nhà bạn Voi. Vậy bạn Gấu đi như sau:



Bài 4 (trang 77 SGK Toán 2 Tập 2):

Anh cao 145 cm, em thấp hơn anh 19 cm. Hỏi em cao bao nhiêu xăng-ti-mét?



Lời giải:


Chiều cao của em là:

$$145 - 19 = 126 \text{ (cm)}$$

Đáp số: 126 cm

Bài 5 (trang 77 SGK Toán 2 Tập 2):

Ở một bảo tàng sinh vật biển, buổi sáng có 219 lượt khách đến tham quan, buổi chiều có nhiều hơn buổi sáng 58 lượt khách. Hỏi bảo tàng đã đón bao nhiêu lượt khách đến tham quan vào buổi chiều?



Lời giải:

Buổi chiều bảo tàng đã đón số lượt khách là:

$$219 + 58 = 277 \text{ (lượt khách)}$$

Đáp số: 277 lượt khách