

Nội dung bài viết


1. [Giải bài tập SGK Toán 6 Chân trời sáng tạo Bài tập cuối chương 4](#)

Mời các em học sinh và quý thầy cô tham khảo ngay hướng dẫn **Giải bài tập Toán 6 Bài tập cuối chương 4 Chân trời sáng tạo** (chính xác nhất) được đội ngũ chuyên gia biên soạn ngắn gọn và đầy đủ, có đáp án chi tiết cho từng bài tập giúp các em học sinh ôn tập những dạng bài để học tốt được môn Toán lớp 6. Mời các em cùng tham khảo chi tiết dưới đây.

***Giải bài tập SGK Toán 6 Chân trời sáng tạo Bài tập cuối chương 4***

**Bài 1 trang 120 Toán lớp 6 Tập 1:**

Số quả mít trong vườn nhà các bạn Cúc, Hùng và Xuân được cho bởi biểu đồ tranh sau:



( = 10 quả       = 5 quả)

Hãy cho biết số quả mít trong vườn nhà mỗi bạn.

**Lời giải:**

Quan sát biểu đồ tranh ta thấy:

Số quả mít trong vườn nhà Cúc là:  $4 \cdot 10 = 40$  (quả).

Số quả mít trong vườn nhà Hùng là:  $3 \cdot 10 + 5 = 35$  (quả).

Số quả mít trong vườn nhà Xuân là:  $7 \cdot 10 = 70$  (quả).

**Bài 2 trang 120 Toán lớp 6 Tập 1:**

Kết quả điều tra về loại quả ưa thích nhất đối với một số bạn trong lớp được ghi lại trong bảng dưới đây:

cam	xoài	ổi	ổi	xoài	chuối
chuối	cam	xoài	ổi	cam	chuối
xoài	chuối	cam	xoài	khế	xoài
cam	xoài	chuối	cam	chuối	cam
khế	cam	xoài	khế	xoài	khế

- Có bao nhiêu bạn đã tham gia trả lời?
- Lập bảng thống kê và vẽ biểu đồ cột biểu thị số lượng các bạn ưa thích mỗi loại quả.

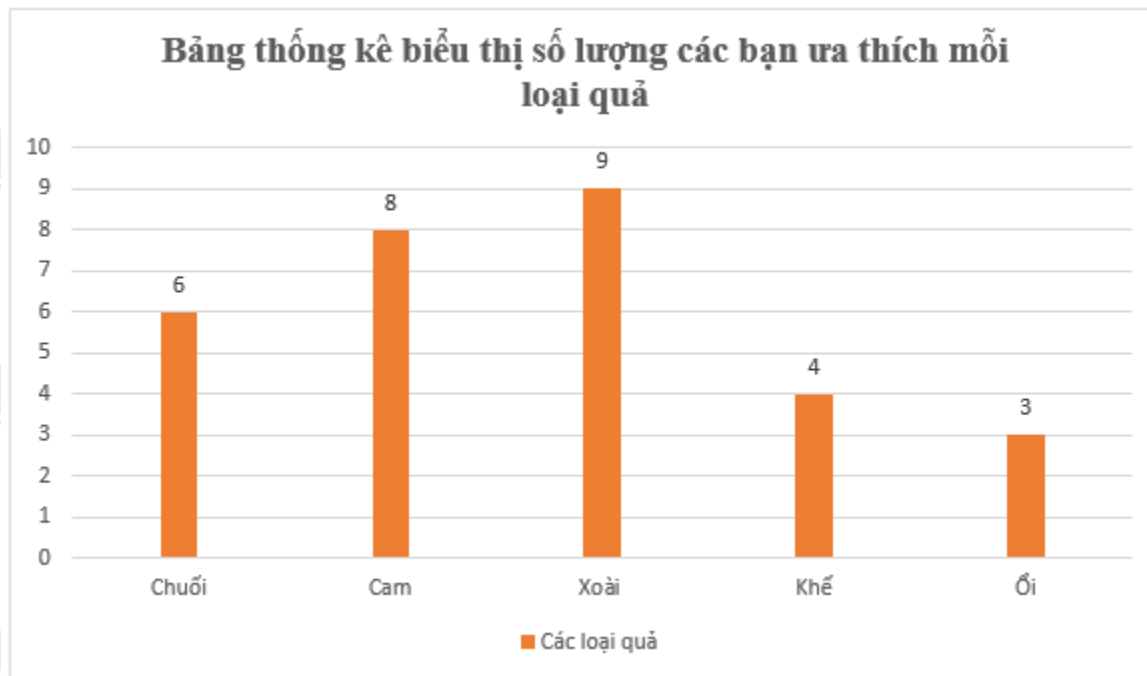
**Lời giải:**

- Quan sát bảng và đếm, ta thấy có 30 bạn đã tham gia trả lời.
- Bảng thống kê biểu thị số lượng các bạn ưa thích mỗi loại quả

**Các loại quả Chuối Cam Xoài Khế ổi**

Số lượng      6      8      9      4      3

Biểu đồ tương ứng:



**Bài 3 trang 120 Toán lớp 6 Tập 1:**

Tuổi của các bạn đến dự sinh nhật của bạn Mai được ghi lại như sau:

11 12 11 12 14 12

13 10 11 12 12 15

a) Hãy lập bảng thống kê cho các dữ liệu trên.

b) Khách có tuổi nào là nhiều nhất?

**Lời giải:**

a) Bảng thống kê các dữ liệu

**Tuổi của các bạn** 10 11 12 13 14 15



**Số lượng** 1 3 5 1 1 1

b) Khách đến có tuổi 12 là nhiều nhất với 5 bạn.

**Bài 4 trang 120 Toán lớp 6 Tập 1:**

Tình hình sản xuất của một phân xưởng lắp ráp xe ô tô trong một tuần được biểu diễn trong biểu đồ sau:

Ngày	Số xe lắp ráp được
Thứ Hai	
Thứ Ba	
Thứ Tư	
Thứ Năm	
Thứ Sáu	
Thứ Bảy	

( = 10 xe ô tô;  = 5 xe ô tô)

Hãy nêu những thông tin mà em nhận được từ biểu đồ tranh này.

**Lời giải:**

Thông tin nhận được biểu đồ này là:

Thứ hai phân xưởng lắp ráp được 60 chiếc xe ô tô;

Thứ ba phân xưởng lắp ráp được 70 chiếc xe ô tô;

Thứ tư phân xưởng lắp ráp được 35 chiếc xe ô tô;

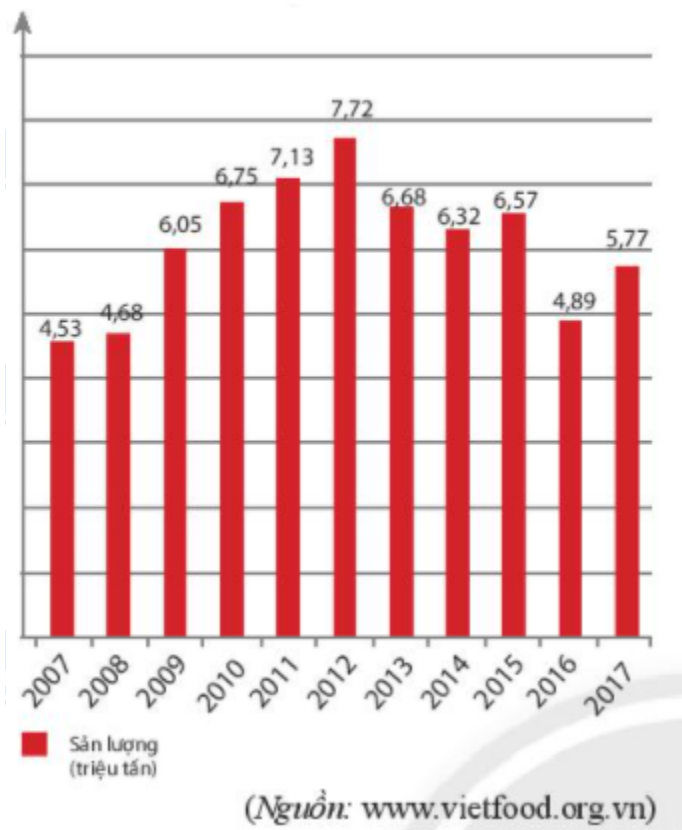
Thứ năm phân xưởng lắp ráp được 85 chiếc xe ô tô;

Thứ sáu phân xưởng lắp ráp được 60 chiếc xe ô tô;

Thứ bảy phân xưởng lắp ráp được 55 chiếc xe ô tô.

**Bài 5 trang 121 Toán lớp 6 Tập 1:**

Sản lượng gạo xuất khẩu của Việt Nam từ 2007 và 2017 được biểu diễn trong biểu đồ cột sau đây.



- Hãy đọc thông tin từ biểu đồ trên và lập bảng thống kê tương ứng.
- Năm nào sản lượng gạo xuất khẩu cao nhất, năm nào thấp nhất?

**Lời giải:**

- Bảng thống kê tương ứng:

**Năm Số lượng gạo (triệu tấn)**

2007 4,53  
 2008 4,68  
 2009 6,05  
 2010 6,75  
 2011 7,13  
 2012 7,72  
 2013 6,68  
 2014 6,32  
 2015 6,57  
 2016 4,89

2017 5,77

b)

Năm 2012 sản lượng gạo xuất khẩu cao nhất (7,72 triệu tấn), năm 2007 sản lượng gạo xuất khẩu thấp nhất (4,53 triệu tấn).

**Bài 6 trang 121 Toán lớp 6 Tập 1:**

Điểm thi học kì 1 và học kì 2 của bạn Hùng đối với các môn thi tập trung được ghi lại trong bảng sau:

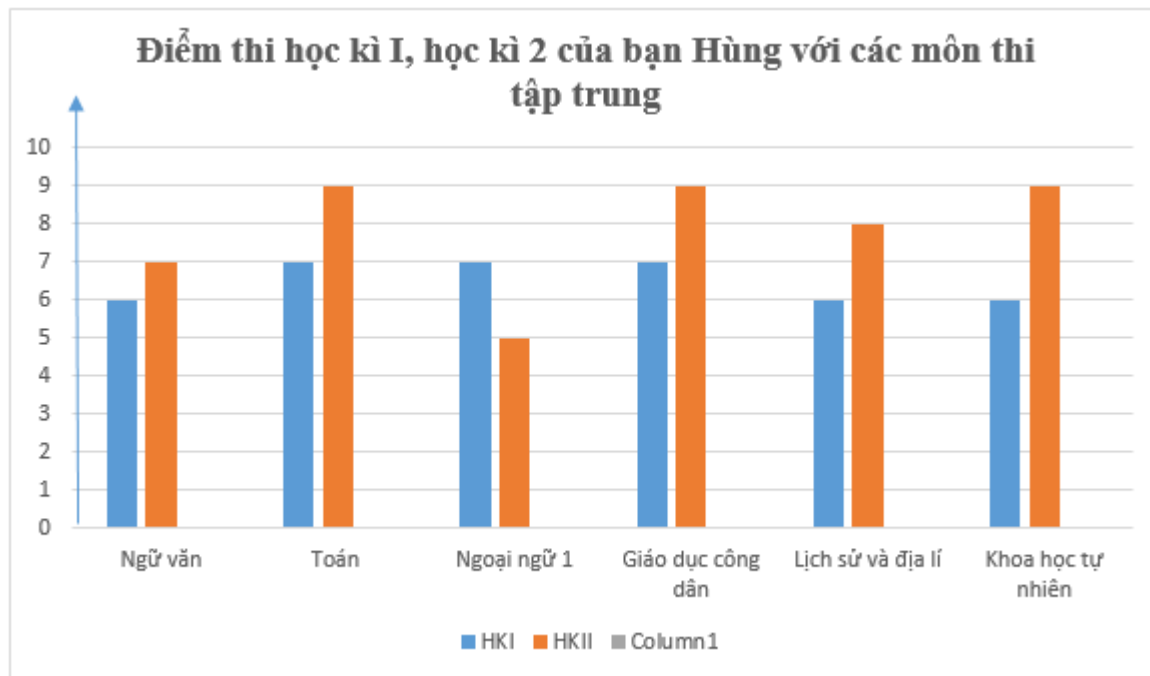
Môn học	Điểm thi học kì 1	Điểm thi học kì 2
Ngữ văn	6	7
Toán	7	9
Ngoại ngữ 1	7	5
Giáo dục công dân	7	9
Lịch sử và Địa lí	6	8
Khoa học tự nhiên	6	9

Hãy vẽ biểu đồ cột kép biểu diễn số liệu của bảng trên và trả lời các câu hỏi sau:

- Môn học nào Hùng đạt được tiến bộ nhiều nhất?
- Môn học nào Hùng đạt được tiến bộ ít nhất?
- Có môn học nào Hùng có điểm thi giảm đi hay không?

**Lời giải:**

Biểu đồ cột kép biểu diễn như sau:



a) Môn khoa học tự nhiên Hùng đạt được tiến bộ nhiều nhất.

b) Môn Ngữ văn Hùng đạt được tiến bộ ít nhất.

c) Có môn Ngoại ngữ 1 điểm thi Hùng có điểm bị giảm đi từ 7 xuống 5.

▶▶ **CLICK NGAY** vào nút **TẢI VỀ** dưới đây để tải về **Giải bài tập Toán lớp 6 Bài tập cuối chương 4 Chân trời sáng tạo** (đầy đủ nhất) file PDF hoàn toàn miễn phí. Hy vọng với bộ tài liệu này thì các em học sinh sẽ học tốt môn Toán lớp 6 nhé!