

Nội dung bài viết

1. [Hướng dẫn giải bài tập trang 45, 46 SGK Toán 1: Luyện tập Phép cộng trong phạm vi 3](#)

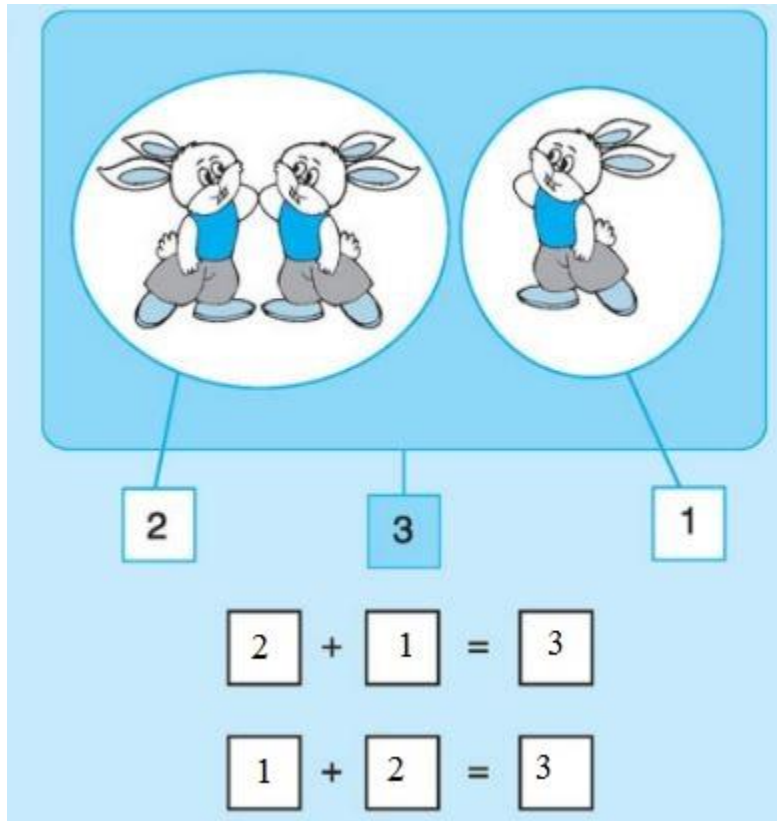
Hướng dẫn giải bài tập trang 45, 46 SGK Toán 1: Luyện tập Phép cộng trong phạm vi 3

Bài 1: (Hướng dẫn giải bài tập số 1 SGK)

Số?

The illustration shows a light blue rectangular area. At the top, there are two white circles. The left circle contains two cartoon rabbits, and the right circle contains one cartoon rabbit. Below the left circle is a white box with the number '2'. Below the right circle is a white box with the number '1'. In the center, between these two boxes, is a blue box with the number '3'. Below these boxes are two empty addition equations: $\square + \square = \square$ and $\square + \square = \square$.

Hướng dẫn giải



Bài 2: (Hướng dẫn giải bài tập số 2 SGK)

Tính

$$\begin{array}{r} 1 \\ + 1 \\ \hline \end{array} \quad \begin{array}{r} 2 \\ + 1 \\ \hline \end{array} \quad \begin{array}{r} 1 \\ + 2 \\ \hline \end{array}$$

Hướng dẫn giải:

$$\begin{array}{r} 1 \\ + 1 \\ \hline 2 \end{array} \quad \begin{array}{r} 2 \\ + 1 \\ \hline 3 \end{array} \quad \begin{array}{r} 1 \\ + 2 \\ \hline 3 \end{array}$$

Bài 3: (Hướng dẫn giải bài tập số 3 SGK)

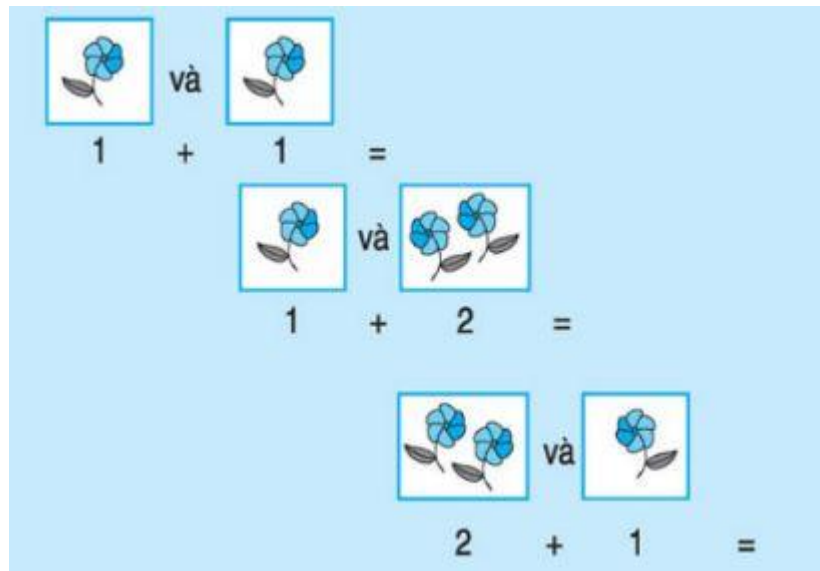
Số

$1 + 1 = \square$	$2 + 1 = \square$	$3 = \square + 1$
$1 + \square = 2$	$\square + 1 = 3$	$3 = 1 + \square$
$\square + 1 = 2$	$2 + \square = 3$	$1 + 2 = 2 + \square$

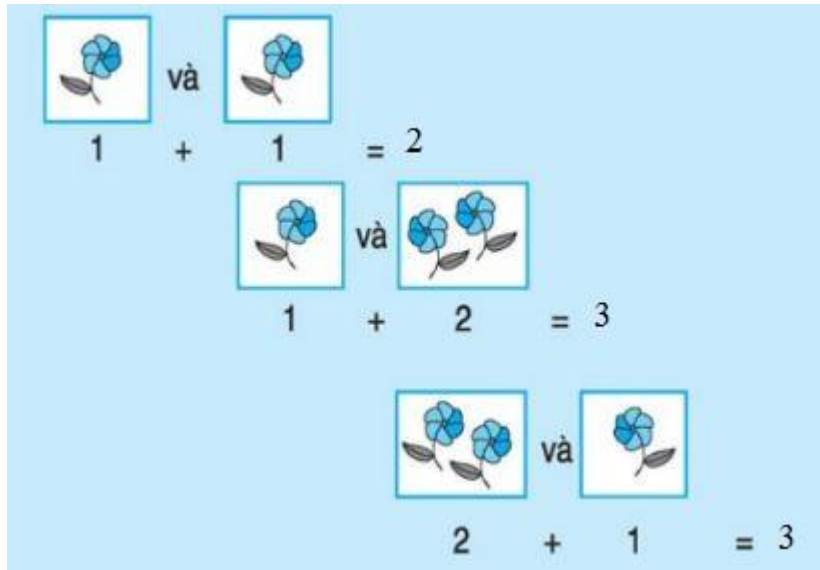
Hướng dẫn giải:

$1 + 1 = 2$	$2 + 1 = 3$	$3 = 2 + 1$
$1 + 1 = 2$	$2 + 1 = 3$	$3 = 1 + 2$
$1 + 1 = 2$	$2 + 1 = 3$	$1 + 2 = 2 + 1$

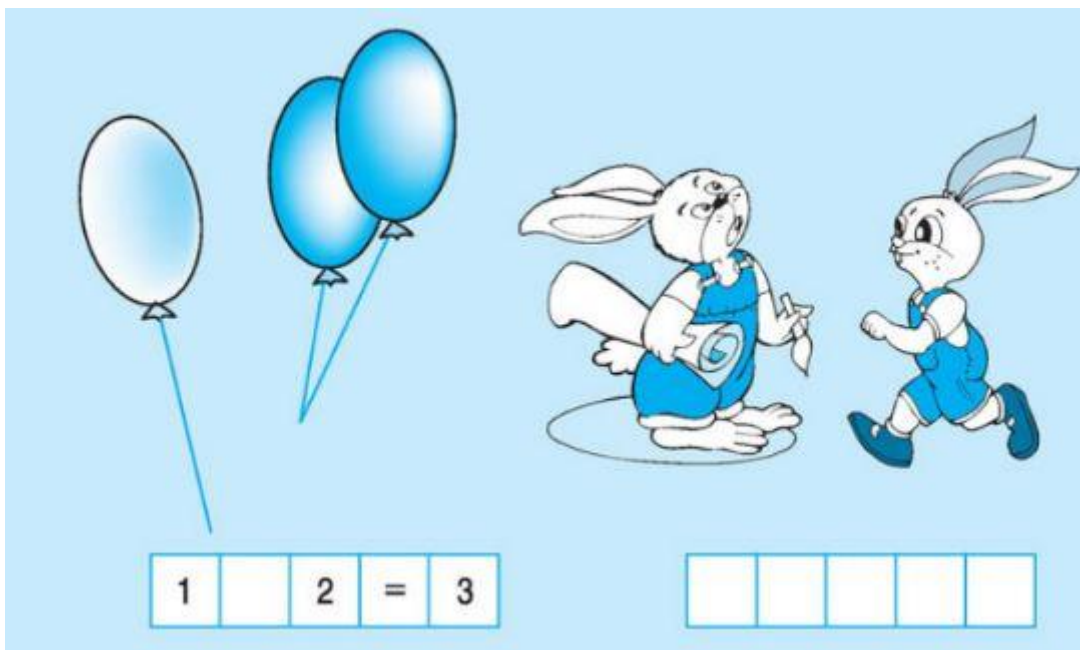
Bài 4: (Hướng dẫn giải bài tập số 4 SGK)



Hướng dẫn giải:



Bài 5: (Hướng dẫn giải bài tập số 5 SGK)



Hướng dẫn giải:

