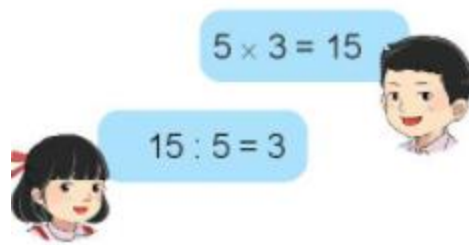


Giải bài tập Toán 2 bài: Bảng chia 5 trang 25, 26 - Chân trời sáng tạo**Thực hành****Bài 1 (trang 25 SGK Toán 2 Tập 2)**

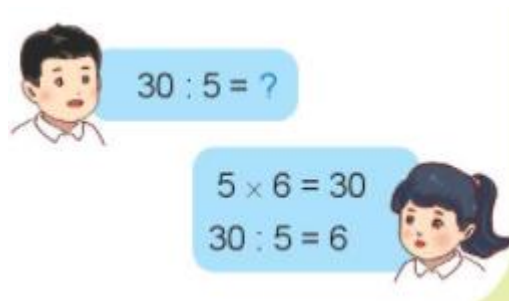
Đọc phép nhân, phép chia trong bảng nhân 5, bảng chia 5.

Mẫu:

**Bài 2 (trang 25 SGK Toán 2 Tập 2)**

Đố bạn tìm các thương trong bảng chia 5.

Mẫu:

**Trả lời:**

Dựa vào bảng nhân 5, em tìm các thương trong bảng chia 5 như sau:

$$5 : 5 = ?$$

$$5 \times 1 = 5$$

$$5 : 5 = 1$$

$$10 : 5 = ?$$

$5 \times 2 = 10$

$10 : 5 = 2$

$15 : 5 = ?$

$5 \times 3 = 15$

$15 : 5 = 3$

$20 : 5 = ?$

$5 \times 4 = 20$

$20 : 5 = 4$

$25 : 5 = ?$

$5 \times 5 = 25$

$25 : 5 = 5$

$30 : 5 = ?$

$5 \times 6 = 30$

$30 : 5 = 6$

$35 : 5 = ?$

$5 \times 7 = 35$

$35 : 5 = 7$

$40 : 5 = ?$

$5 \times 8 = 40$

$40 : 5 = 8$

$45 : 5 = ?$

$5 \times 9 = 45$

$45 : 5 = 9$

$50 : 5 = ?$

$$5 \times 10 = 50$$

$$50 : 5 = 10$$

Luyện tập**Bài 1 (trang 26 SGK Toán 2 Tập 2)**

Tính nhẩm.

$20 : 5$

$15 : 5$

$45 : 5$

$10 : 5$

$5 : 5$

$30 : 5$

$25 : 5$

$35 : 5$

$50 : 5$

$40 : 5$

Trả lời:

Dựa vào bảng chia 5, em thực hiện tính nhẩm, kết quả như sau:

$20 : 5 = 4$

$15 : 5 = 3$

$45 : 5 = 9$

$10 : 5 = 2$

$5 : 5 = 1$

$30 : 5 = 6$

$25 : 5 = 5$

$35 : 5 = 7$

$50 : 5 = 10$

$40 : 5 = 8$

Bài 2 (trang 26 SGK Toán 2 Tập 2)

Số?

$\dots : 5 = 5$

$\dots : 5 = 7$

$\dots : 5 = 10$

$\dots : 5 = 8$

$\dots : 5 = 6$

$\dots : 5 = 4$

$\dots : 5 = 9$

$\dots : 5 = 3$

Trả lời:

Dựa vào bảng chia 5, em tìm số bị chia trong các phép tính chia, kết quả như sau:

$25 : 5 = 5$

$35 : 5 = 7$

$50 : 5 = 10$

$40 : 5 = 8$

$30 : 5 = 6$

$20 : 5 = 4$

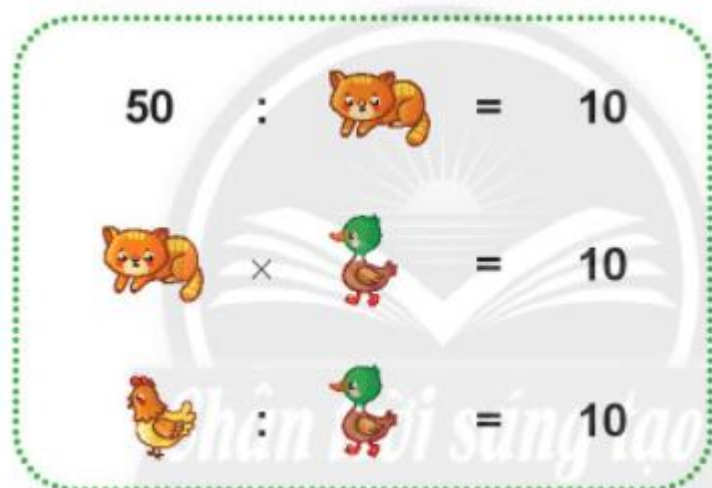
$45 : 5 = 9$

$15 : 5 = 3$

Bài 3 (trang 26 SGK Toán 2 Tập 2)

Mỗi hình ảnh thể hiện một số. Em hãy tìm các số đó.

a)



b)



Trả lời:

Quan sát hình ảnh, em thấy

a) Mỗi con vật giống nhau thể hiện cùng một số.

- Phép tính đầu là phép chia 50 cho một số được kết quả bằng 10.

Dựa vào bảng chia 5, em thấy $50 : 5 = 10$.

Em thay vị trí của con mèo là số 5.

- Ở phép nhân, em thấy thừa số thứ nhất là 5, thừa số thứ hai là con vịt, tích là 10.

Dựa vào bảng nhân 5, em thấy: $5 \times 2 = 10$.

Em thay vị trí con vịt là số 2

- Ở phép chia thứ 3, số bị chia là con gà, số chia là 2, thương là 10.

Dựa vào bảng chia 2, em thấy $20 : 2 = 10$

Em thay vị trí con gà là số 20.

b) Hai con cú có tổng là 10, em thấy $5 + 5 = 10$.

Em thay vị trí con cú là số 5.

- Phép tính số 2, số bị chia là 30, số chia là 5, thương là con công.

Số ứng với con công là $30 : 5 = 6$.

- Phép tính số 3, số bị chia là 6, số chia là con ong, thương là 3.

Dựa vào bảng chia 2, em thấy $6 : 2 = 3$.

Vậy vị trí con ong là số 2.

Em điền kết quả như sau:

a) $50 : 5 = 10$

b) $5 + 5 = 10$

$5 \times 2 = 10$

$30 : 5 = 6$

$20 : 2 = 10$

$6 : 2 = 3$