



Nội dung bài viết

1. [Giải bài tập Toán 2 bài: Luyện tập chung - Cánh diều.](#)

Giải bài tập Toán 2 bài: Luyện tập chung - Cánh diều.

Bài 1 (trang 56 SGK Toán 2 Tập 2):




a) Số?

	Trăm	Chục	Đơn vị	Viết số
	?	?	?	?
	?	?	?	?
	?	?	?	?

b) Trả lời các câu hỏi:

- Số 451 gồm mấy trăm, mấy chục và mấy đơn vị?
- Số 308 gồm mấy trăm, mấy chục và mấy đơn vị?
- Số 270 gồm mấy trăm, mấy chục và mấy đơn vị?

Lời giải:

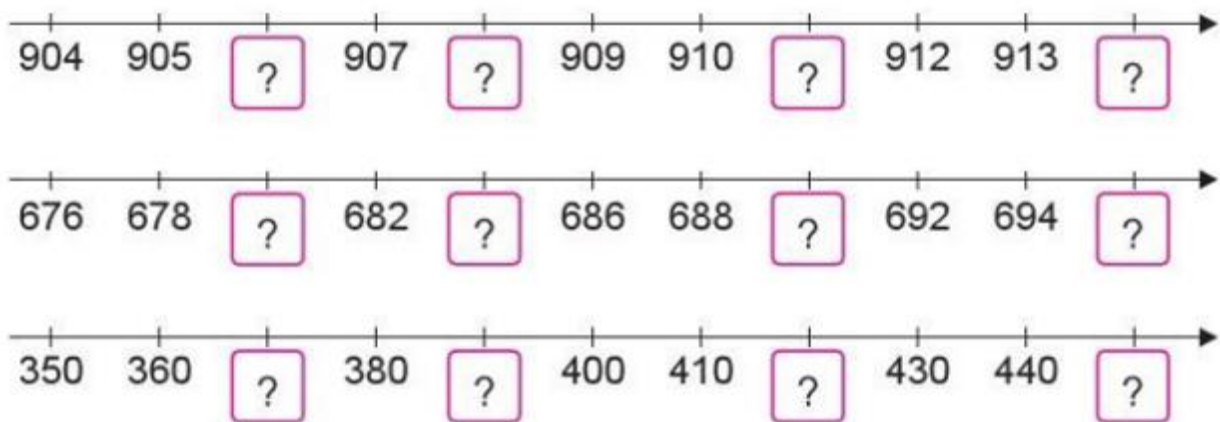
	Trăm	Chục	Đơn vị	Viết số
	3	6	7	367
	3	6	0	360
	4	0	4	404

b) Trả lời các câu hỏi:

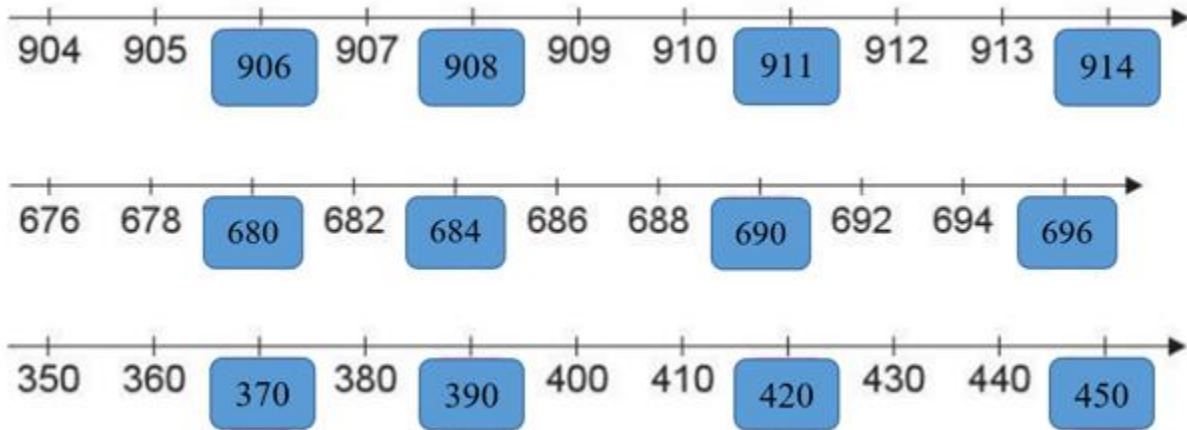
- Số 451 gồm 4 trăm, 5 chục và 1 đơn vị.
- Số 308 gồm 3 trăm, 0 chục và 8 đơn vị.
- Số 270 gồm 2 trăm, 7 chục và 0 đơn vị.

Bài 2 (trang 56 SGK Toán 2 Tập 2):

Số?



Lời giải:



Bài 3 (trang 57 SGK Toán 2 Tập 2):

(>; <; =) ?

367 ... 421	608 ... 680	242 ... 242
245 ... 319	666 ... 88	900 ... 99

Lời giải:

367 < 421	608 < 680	242 = 242
245 < 319	666 > 88	900 > 99

Bài 4 (trang 57 SGK Toán 2 Tập 2):

Cho các số:



- Tìm số lớn nhất.
- Tìm số bé nhất.
- Sắp xếp các số trên theo thứ tự từ bé đến lớn.

Lời giải:

Em so sánh 4 số: 219, 608, 437 và 500

So sánh: $219 < 437 < 500 < 608$

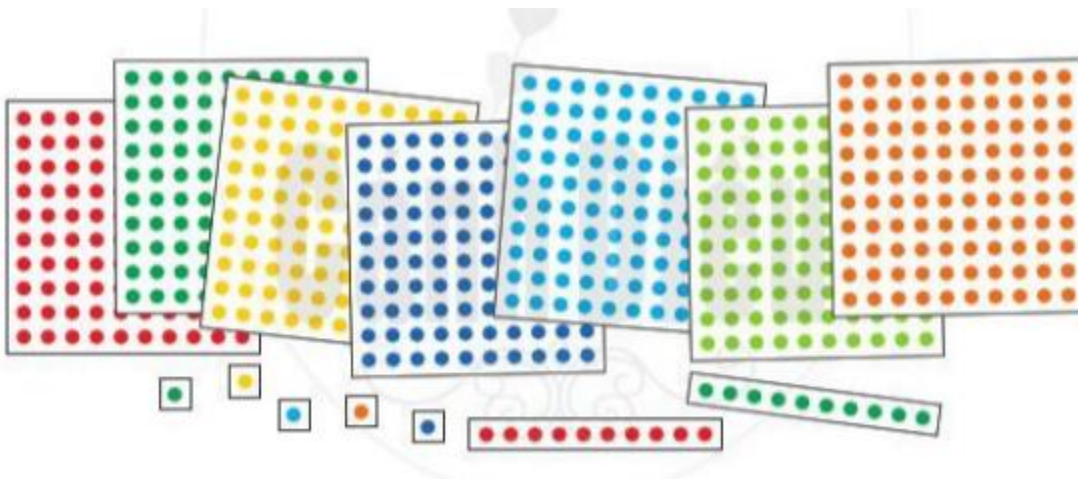
a) Số lớn nhất là: 608

b) Số bé nhất là: 219


c) Sắp xếp các số theo thứ tự từ bé đến lớn: 219; 437; 500; 608

Bài 5 (trang 57 SGK Toán 2 Tập 2):

Em hãy ước lượng có bao nhiêu chấm tròn trong hình dưới đây:



Lời giải:



Mỗi tấm bìa có 100 chấm tròn, có 7 tấm bìa, như vậy có 700 chấm tròn.



Mỗi tấm bìa có 10 chấm tròn, có 2 tấm bìa, như vậy có 20 chấm tròn.

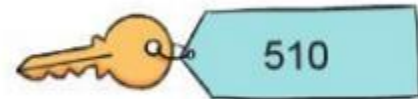


Có tấm bìa có 1 chấm tròn, có 5 tấm bìa, như vậy có 5 chấm tròn.

Như vậy có: 725 chấm tròn

Bài 6 (trang 57 SGK Toán 2 Tập 2):

Kê một số tình huống thực tế có sử dụng các số trong phạm vi 1000 mà em biết.



Lời giải

Các tình huống thực tế có sử dụng các số trong phạm vi 1000 mà em biết là: đánh số trang sách, số phòng học, hay địa chỉ nhà, ...