
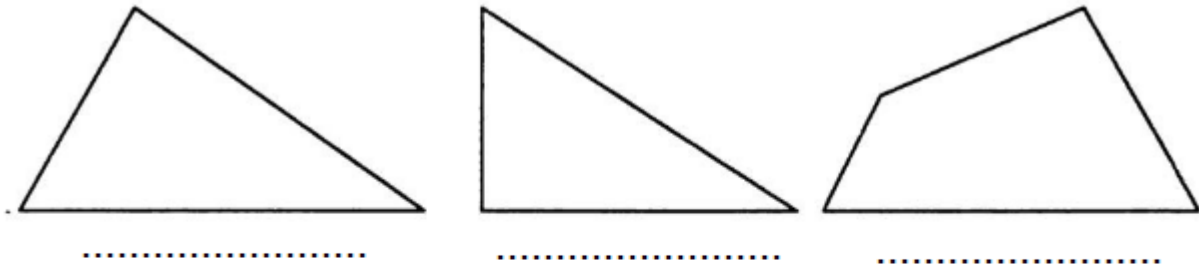


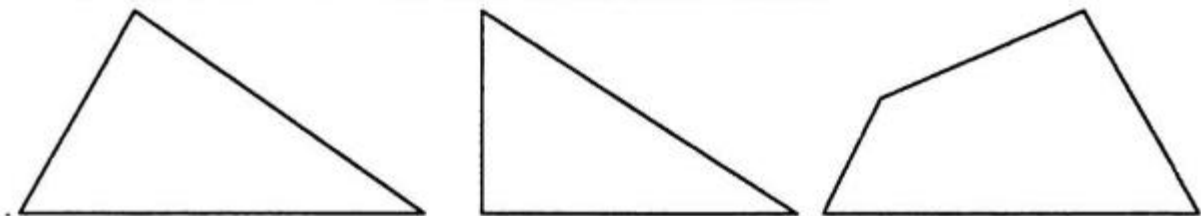
Giải Bài 82: Ôn tập về hình học trang 96 VBT Toán lớp 2 Tập 1

Giải câu 1 trang 96 VBT Toán lớp 2 Tập 1:

Viết tên mỗi hình vào chỗ chấm (theo mẫu):




Lời giải:




Hình tam giác

Hình tam giác

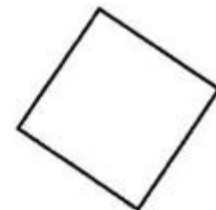
Hình tứ giác



Hình vuông



Hình chữ nhật



Hình vuông


Giải câu 2 trang 96 VBT Toán lớp 2 Tập 1:

a) Vẽ đoạn thẳng có độ dài 1dm

b) Vẽ đoạn thẳng có độ dài 12cm

Lời giải:

a) Vẽ đoạn thẳng có độ dài 1dm.

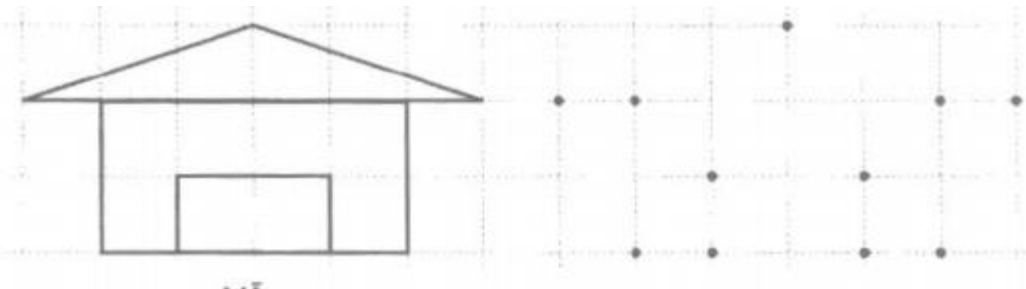


b) Vẽ đoạn thẳng có độ dài 12cm.



Giải câu 3 trang 96 VBT Toán lớp 2 Tập 1:

Vẽ hình theo mẫu rồi tô màu vào các hình đó:

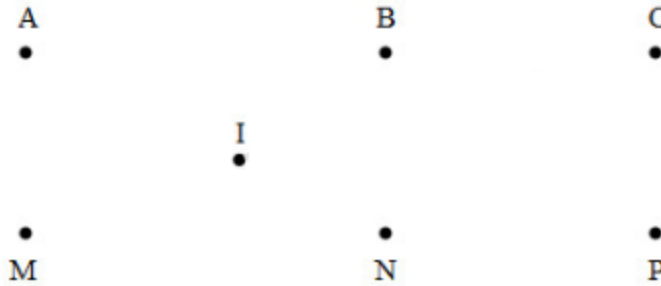


Lời giải:

Học sinh tự tô màu

Giải câu 4 trang 96 VBT Toán lớp 2 Tập 1:

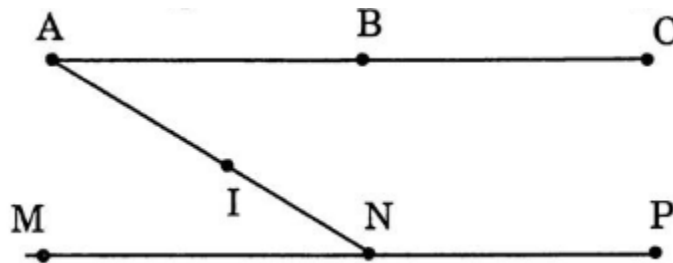
a) Dùng thước thẳng và bút nối ba điểm thẳng hàng:



b) Em đã nối được ba điểm thẳng hàng là: A, B, ...;;

Lời giải:

a)



b) Em đã nối được ba điểm thẳng hàng là: **A, B, C**; **M, N, P**; **A, I, N**.