

Nội dung bài viết

1. [Giải bài tập Toán 2 bài: Luyện tập - Cánh diều.](#)

Giải bài tập Toán 2 bài: Luyện tập - Cánh diều.

Bài 1 (trang 54 SGK Toán 2 Tập 2):

Tìm số và dấu (> ; < ; =) thích hợp:

a) 758 và 96

| | Trăm | Chục | Đơn vị |
|-------|------|------|--------|
| 758 → | ? | ? | ? |
| 96 → | ? | ? | ? |

758 (?) 96

b) 62 và 107

| | Trăm | Chục | Đơn vị |
|-------|------|------|--------|
| 62 → | ? | ? | ? |
| 107 → | ? | ? | ? |

62 (?) 107

c) 549 và 495

| | Trăm | Chục | Đơn vị |
|-------|------|------|--------|
| 549 → | ? | ? | ? |
| 495 → | ? | ? | ? |

549 (?) 495

Lời giải:

a) 758 gồm 7 trăm, 5 chục và 8 đơn vị.

96 gồm 9 chục và 6 đơn vị.

So sánh: $758 > 96$

b) 62 gồm 6 chục và 2 đơn vị.

107 gồm 1 trăm và 7 đơn vị.

So sánh: $62 < 107$

c) 549 gồm 5 trăm, 4 chục và 9 đơn vị.

495 gồm 4 trăm, 9 chục và 5 đơn vị.

So sánh: $549 > 495$.

Em điền như sau:

a) 758 và 96

| | Trăm | Chục | Đơn vị |
|-------|------|------|--------|
| 758 → | 7 | 5 | 8 |
| 96 → | 0 | 9 | 6 |

$758 > 96$

b) 62 và 107

| | Trăm | Chục | Đơn vị |
|-------|------|------|--------|
| 62 → | 0 | 6 | 2 |
| 107 → | 1 | 0 | 7 |

$62 < 107$

c) 549 và 495

| | Trăm | Chục | Đơn vị |
|-------|------|------|--------|
| 549 → | 5 | 4 | 9 |
| 495 → | 4 | 9 | 5 |

$549 > 495$

Bài 2 (trang 54 SGK Toán 2 Tập 2):

($>$; $<$; $=$)?

600 ... 900

370 ... 307

402 ... 420

527 ... 27

813 ... 813

92 ... 129

Lời giải:

$600 < 900$

$370 > 307$

$402 < 420$

$527 > 27$

$813 = 813$

$92 < 129$

Bài 3 (trang 54 SGK Toán 2 Tập 2):

Cho các số:



- Tìm số lớn nhất.
- Tìm số bé nhất.
- Sắp xếp các số theo thứ tự từ lớn đến bé.

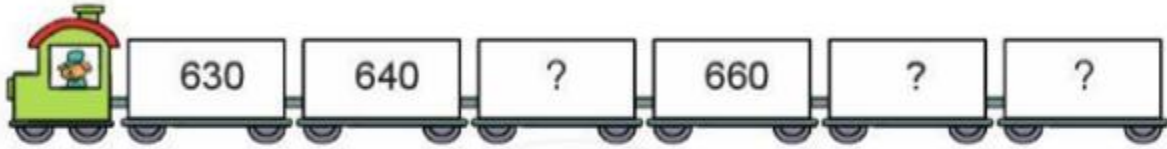
Lời giải:

So sánh: $383 < 571 < 994 < 997$



- Số bé nhất là: 383
- Số lớn nhất là: 997
- Sắp xếp các số theo thứ tự từ lớn đến bé: 997, 994, 571, 383

Bài 4 (trang 55 SGK Toán 2 Tập 2):

Số?



Lời giải:



Bài 5 (trang 55 SGK Toán 2 Tập 2):

Sắp xếp chiều cao của các bạn học sinh theo thứ tự từ cao đến thấp:

**Lời giải:**

Vì $130 < 135 < 138 < 140$ nên ta có thể sắp xếp được chiều cao của các bạn học sinh theo thứ tự từ cao đến thấp là: 140 cm; 138 cm; 135 cm; 130 cm