

Giải bài tập Toán 2 bài: Bảng nhân 2 trang 14, 15 - Chân trời sáng tạo

Thực hành

Bài 1 (trang 14 SGK Toán 2 Tập 2)

Số?



Trả lời:

Quan sát hình em thấy:

Mỗi số trong ô trống là kết quả của các tích trong bảng nhân 2.

Trong bảng nhân 2, tích sau bằng tích trước đếm thêm 2.

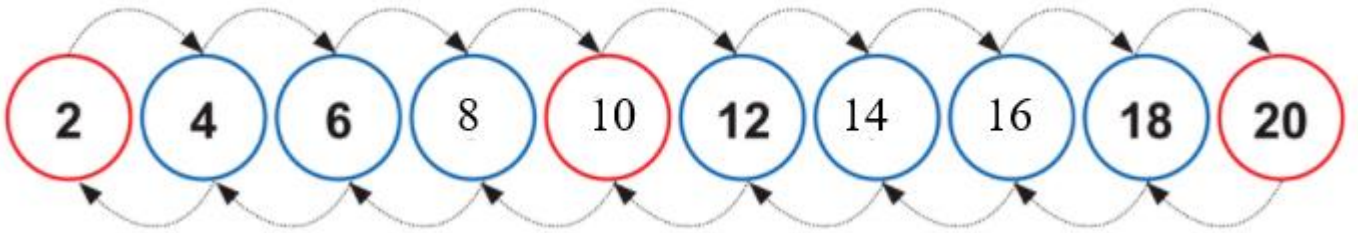
Em có: ô thứ 4 là: $6 + 2 = 8$

Ô thứ 5 là: $8 + 2 = 10$

Ô thứ 7 là: $12 + 2 = 14$

Ô thứ 8 là: $14 + 2 = 16$

Em điền kết quả như sau:



Bài 2 (trang 14 SGK Toán 2 Tập 2)

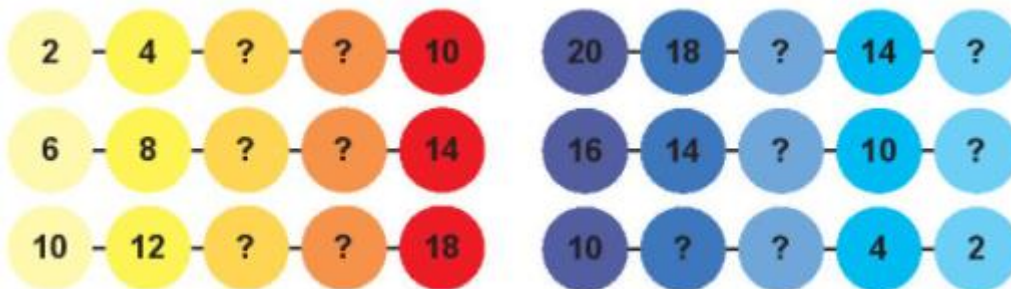
Đố bạn các phép tính nhân trong bảng.



Luyện tập

Bài 1 (trang 15 SGK Toán 2 Tập 2)

Số?

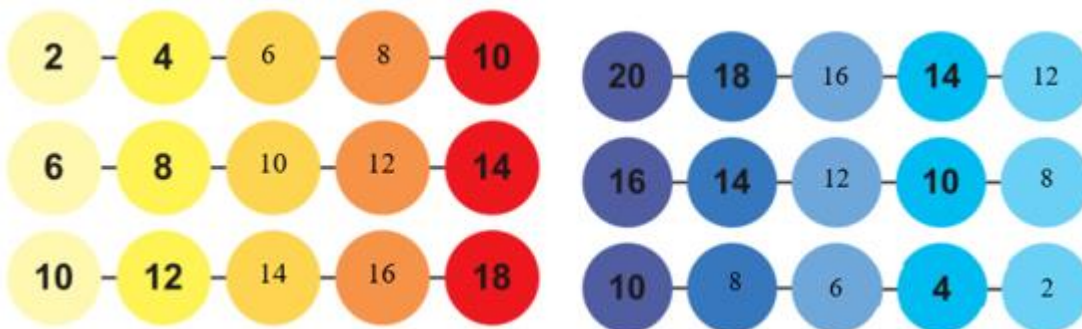


Trả lời:

Quan sát hình, em thấy:

Các số đếm thêm 2, cũng là các tích trong bảng nhân 2 (từ bé đến lớn và ngược lại).

Em điền kết quả như sau:



Bài 2 (trang 15 SGK Toán 2 Tập 2)

Tính nhẩm.

2×1 2×4 2×10

2×2 2×5 2×8

2×3 2×6 2×9

Trả lời:

Em dựa vào bảng nhân 2 để tính nhẩm, kết quả như sau:

$2 \times 1 = 2$ $2 \times 4 = 8$ $2 \times 10 = 20$

$2 \times 2 = 4$ $2 \times 5 = 10$ $2 \times 8 = 16$

$2 \times 3 = 6$ $2 \times 6 = 12$ $2 \times 9 = 18$

Bài 3 (trang 15 SGK Toán 2 Tập 2)

Số?

$2 \times \dots = 4$ $2 \times \dots = 6$ $2 \times \dots = 8$

$2 \times \dots = 14$ $2 \times \dots = 16$ $2 \times \dots = 18$

Trả lời:

Dựa vào bảng nhân 2, em tìm thừa số còn thiếu để điền vào chỗ chấm:

Kết quả như sau:

$2 \times 2 = 4$ $2 \times 3 = 6$ $2 \times 4 = 8$

$2 \times 7 = 14$ $2 \times 8 = 16$ $2 \times 9 = 18$

Vui học: Trang 15 SGK Toán lớp 2 Tập 2

Số?

Quan sát bức tranh sau.

10 con vịt có cái cánh

**Trả lời:**

Đề bài hỏi: 10 con vịt có bao nhiêu cái cánh?

Mỗi con vịt có 2 cái cánh.

2 cái cánh được lấy 10 lần.

Em có phép tính nhân $2 \times 10 = 20$

Vậy 10 con vịt có 20 cái cánh.

Em điền kết quả như sau:

10 con vịt có 20 cái cánh