

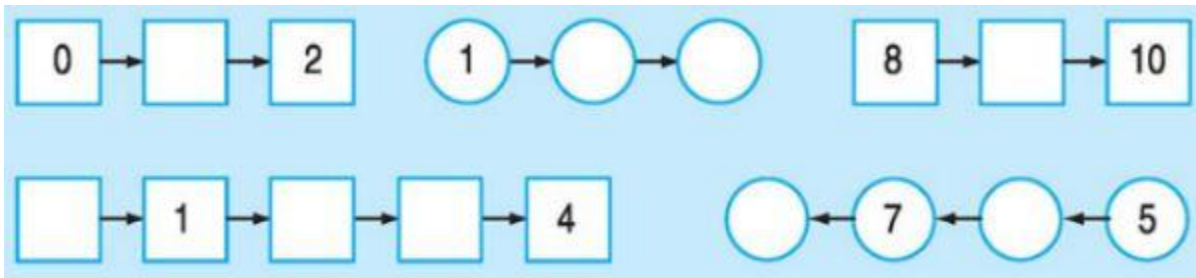
Nội dung bài viết

1. [Hướng dẫn giải bài tập trang 42 SGK Toán 1: Luyện tập chung \(tiếp theo\)](#)

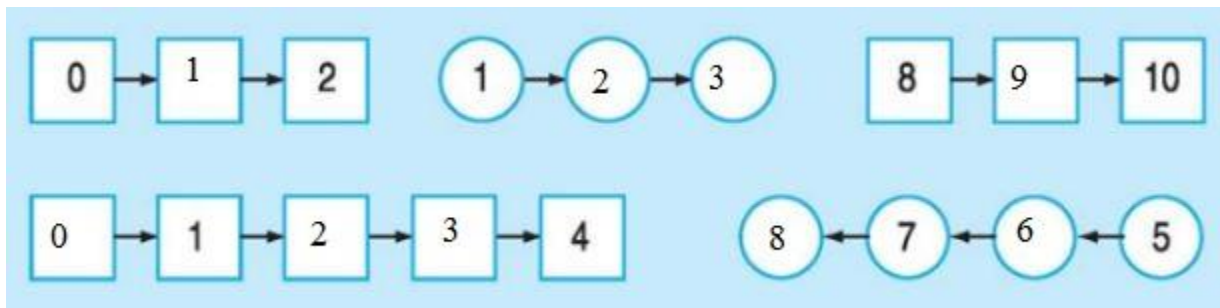
Hướng dẫn giải bài tập trang 42 SGK Toán 1: Luyện tập chung (tiếp theo)

Giải Bài 1 trang 42 SGK Toán lớp 1

Số?



Hướng dẫn giải



Giải Bài 2 trang 42 SGK Toán lớp 1

4....5 2....5 8.....10 7.....7 3.....2

7....5 4....4 10.....9 7.....9 1.....0

Hướng dẫn giải:

4 < 5 2 < 5 8 < 10 7 = 7 3 > 2

7 > 5 4 = 4 10 > 9 7 = 9 1 > 0

Giải Bài 3 trang 42 SGK Toán lớp 1

Số?

.....< 1> 9 3 < < 5

Hướng dẫn giải:

0 < 1 10 > 9 3 < 4 < 5

Giải Bài 4 trang 42 SGK Toán lớp 1

Viết các số 8, 5, 3, 9, 6:

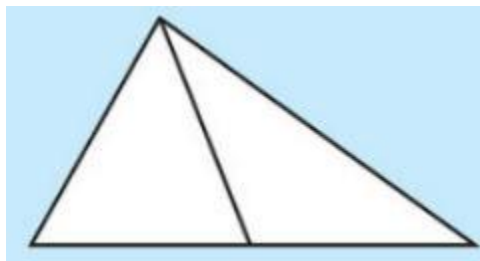
- a) Theo thứ tự từ bé đến lớn.
- b) Theo thứ tự từ lớn đến bé

Hướng dẫn giải

- a) Theo thứ tự từ bé đến lớn là: 2, 5, 6, 8, 9.
- b) Theo thứ tự từ lớn đến bé là: 9, 8, 6, 5, 2.

Giải Bài 5 trang 42 SGK Toán lớp 1

Hình dưới đây có mấy hình tam giác?



Hướng dẫn giải:

Có 3 hình tam giác