

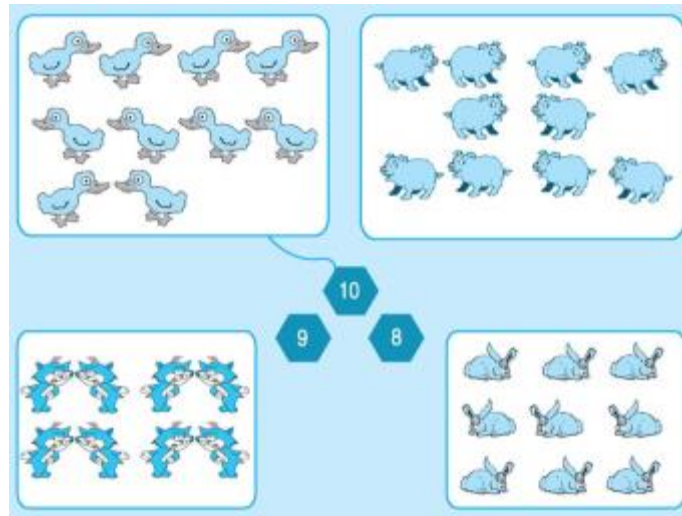
Nội dung bài viết

1. [Hướng dẫn giải bài tập trang 38, 39 SGK Toán 1: Luyện tập số 10](#)

Hướng dẫn giải bài tập trang 38, 39 SGK Toán 1: Luyện tập số 10

Bài 1: (Hướng dẫn giải bài tập số 1 SGK)

Nói (theo mẫu):



Hướng dẫn giải:

Hình 1 nối với số 10

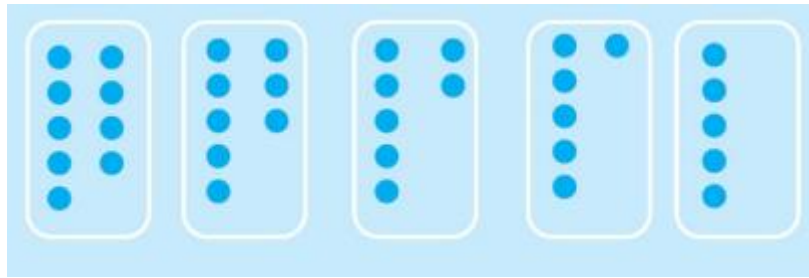
Hình 2 nối với số 10

Hình 3 nối với số 8

Hình 4 nối với số 9

Bài 2: (Hướng dẫn giải bài tập số 2 SGK)

Vẽ thêm cho đủ 10 chấm tròn

**Hướng dẫn giải:**

Hình 1: Vẽ thêm 1 chấm

Hình 2: Vẽ thêm 2 chấm

Hình 3: Vẽ thêm 3 chấm

Hình 4: Vẽ thêm 4 chấm

Hình 5: Vẽ thêm 5 chấm

Bài 3: (Hướng dẫn giải bài tập số 3 SGK)

Có mấy hình tam giác:

**Hướng dẫn giải:**

a) Có 10 hình tam giác.

b) Có 10 hình tam giác.

Bài 4: (Hướng dẫn giải bài tập số 4 SGK)

a) Điền dấu >; <; =

0...1 1...2 2...3 3...4

8...7 7...6 6...6 4...5

10...9 9...8

b) Các số bé hơn 10 là:.....

c) Trong các số từ 0 đến 10. Số bé nhất là:

Số lớn nhất là:

Hướng dẫn giải:

a) Điền dấu > ; < ; =

$1 = 1 \quad 1 < 2 \quad 2 < 3 \quad 3 < 4$

$9 > 7 \quad 7 > 6 \quad 6 = 6 \quad 4 < 5$

$10 > 9 \quad 9 > 8$

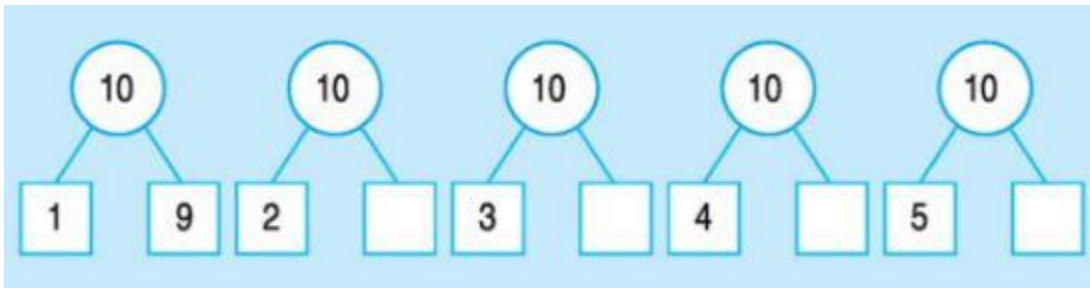
b) Các số bé hơn 10 là: 9, 8, 7, 6, 5, 4, 3, 2, 1, 0

c) Trong các số từ 0 đến 10. Số bé nhất là: 0

Số lớn nhất là: 10

Bài 5: (Hướng dẫn giải bài tập số 5 SGK)

Số ?



Hướng dẫn giải:

