

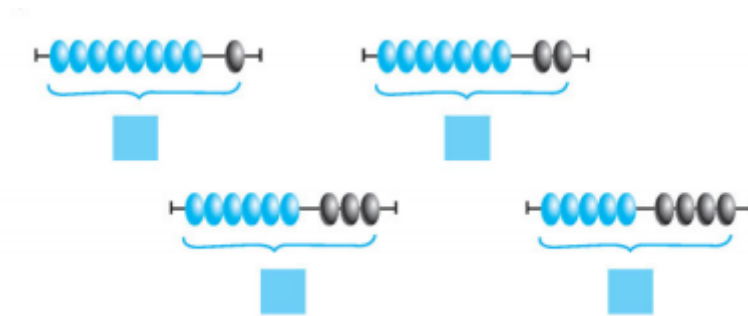
Nội dung bài viết

1. [Hướng dẫn giải bài tập trang 33 SGK Toán 1: Số 9 Luyện tập](#)

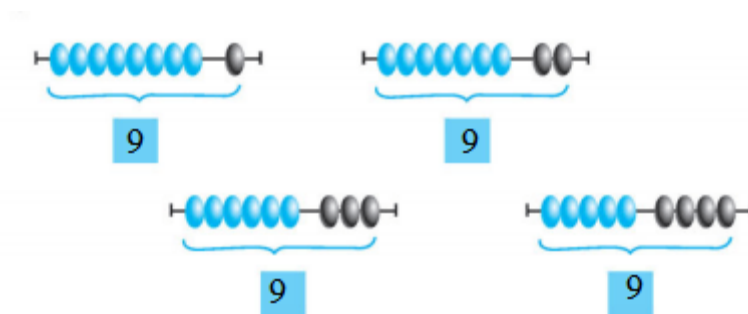
Hướng dẫn giải bài tập trang 33 SGK Toán 1: Số 9 Luyện tập

Giải Bài 2 trang 33 SGK Toán lớp 1

Số?



Hướng dẫn giải



Hình 1: Viết vào ô trống số 9

Hình 2: Viết vào ô trống số 9

Hình 3: Viết vào ô trống số 9

Hình 4: Viết vào ô trống số 9

Giải Bài 3 trang 33 SGK Toán lớp 1

Điền dấu

8.... 9 7.....8 9.....8

$$9 \dots 8 \quad 8 \dots 9 \quad 9 \dots 7$$

$$9 \dots 9 \quad 7 \dots 9 \quad 9 \dots 6$$

Hướng dẫn giải:

$$8 < 9 \quad 7 < 8 \quad 9 > 8$$

$$9 > 8 \quad 8 < 9 \quad 9 > 7$$

$$9 = 9 \quad 7 < 9 \quad 9 > 6$$

Giải Bài 4 trang 33 SGK Toán lớp 1

Điền số

$$8 < \dots \quad 7 < \dots \quad 7 < \dots < 9$$

$$\dots > 8 \quad \dots > 7 \quad 6 < \dots < 8$$

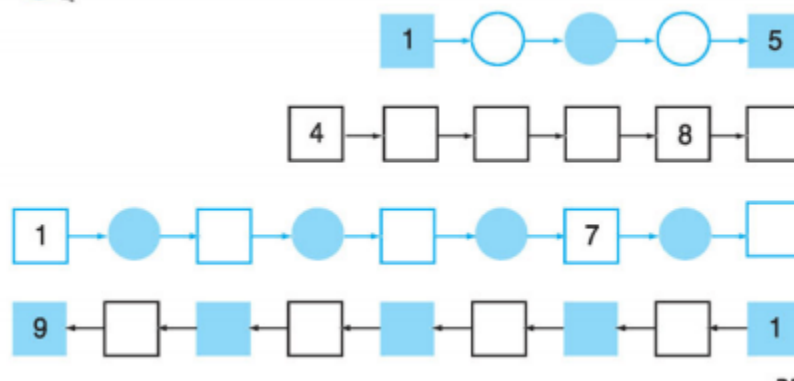
Hướng dẫn giải:

$$8 < 9 \quad 7 < 8 ; 7 < 9 \quad 7 < 8 < 9$$

$$9 > 8 \quad 8 > 7 ; 9 > 7 \quad 6 < 7 < 8$$

Bài 5: (Hướng dẫn giải bài tập số 5 SGK)

Viết số thích hợp vào ô trống



Hướng dẫn giải:

Hình 1: Viết lần lượt số 2, 3, 4 vào ô trống.

Hình 2: Viết lần lượt số 5; 6; 7; 9 vào ô trống.

Hình 3: Viết lần lượt số 2; 3; 4; 5; 6; 8; 9 vào ô trống.

Hình 4: Viết lần lượt số 8; 7; 6; 5; 4; 3; 2 vào ô trống.