

Nội dung bài viết

1. [Hướng dẫn giải bài tập trang 21 SGK Toán 1: Luyện tập](#)

Hướng dẫn giải bài tập trang 21 SGK Toán 1: Luyện tập

Giải Bài 1 trang 21 SGK Toán lớp 1

Điền dấu > , <

3...4 5...2 1....3 2...4

4...3 2...5 3....1 4....2

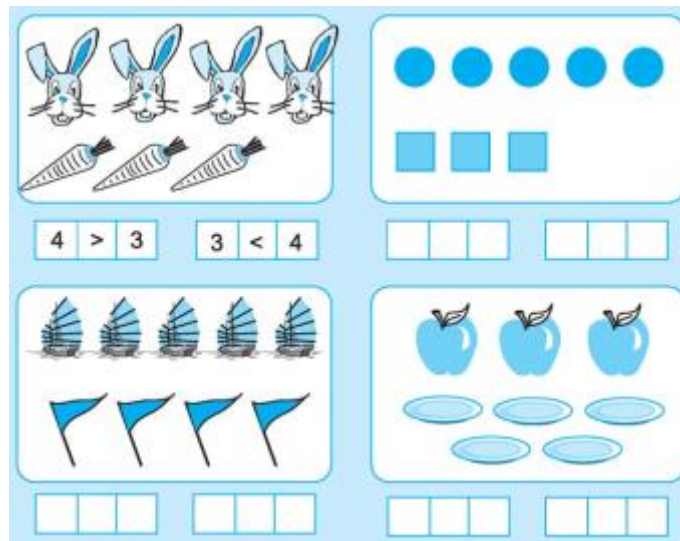
Hướng dẫn giải:

3 < 4 5 > 2 1 < 3 2 < 4

4 > 3 2 < 5 3 > 1 4 > 2

Giải Bài 2 trang 21 SGK Toán lớp 1

Viết (theo mẫu):



Hướng dẫn giải:

Hình 2:

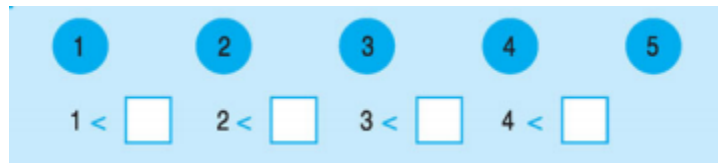
5 > 3 và 3 < 5

Hình 3

$5 > 4$ và $4 < 5$

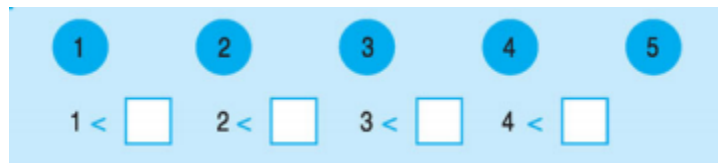
Hình 4

$3 < 5$ và $5 > 3$.



Giải Bài 3 trang 21 SGK Toán lớp 1

Nói ô trống với số thích hợp



Hướng dẫn giải:

$1 < 2$; $1 < 3$; $1 < 4$; $1 < 5$

$2 < 3$; $2 < 4$; $2 < 5$

$3 < 4$; $3 < 5$

$4 < 5$