

Nội dung bài viết

1. [Hướng dẫn giải bài tập trang 19, 20 SGK Toán 1: Lớn hơn. Dấu > Luyện tập](#)

Hướng dẫn giải bài tập trang 19, 20 SGK Toán 1: Lớn hơn. Dấu > Luyện tập

Bài 1: (Hướng dẫn giải bài tập số 1 SGK)

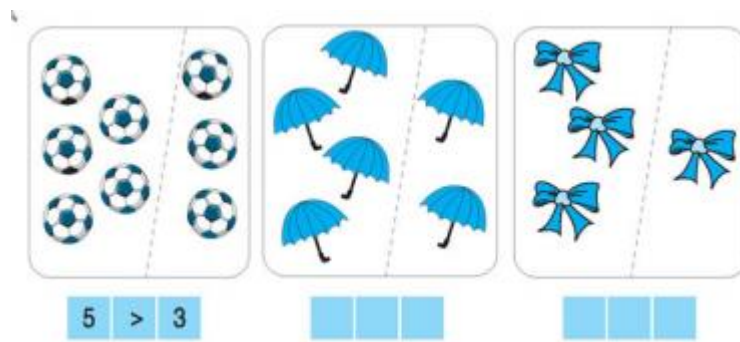
Viết dấu >

Hướng dẫn giải:

Học sinh tự viết tay dấu >

Bài 2: (Hướng dẫn giải bài tập số 2 SGK)

Viết theo mẫu:



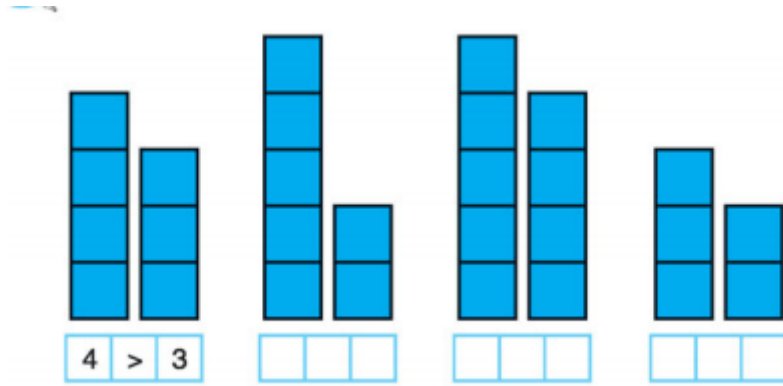
Hướng dẫn giải:

Hình 2: $4 > 2$

Hình 3: $3 > 1$

Bài 3: (Hướng dẫn giải bài tập số 3 SGK)

Viết theo mẫu:



Hình a hình b hình c hình d

Hướng dẫn giải:

Hình b: $5 > 2$

Hình c: $5 > 4$

Hình d: $3 > 2$.

Bài 4: (Hướng dẫn giải bài tập số 4 SGK)

Viết dấu $>$ vào ô trống:

3...1 5...3 4...1 2...1

4...2 3...2 4...3 5...2

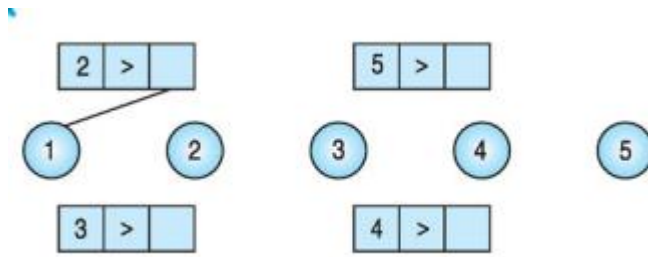
Hướng dẫn giải:

$3 > 1$ $5 > 3$ $4 > 1$ $2 > 1$

$4 > 2$ $3 > 2$ $4 > 3$ $5 > 2$

Bài 5: (Hướng dẫn giải bài tập số 5 SGK)

Nối ô trống với số thích hợp theo mẫu:



Hình a Hình b

Hướng dẫn giải:

Hình a: $3 > 2$ và $3 > 1$

Hình b:

$5 > 4, 5 > 3, 5 > 2, 5 > 1$

$4 > 3, 4 > 2$ và $4 > 1$.