

Nội dung bài viết

1. [Hướng dẫn giải bài tập trang 17, 18 SGK Toán 1: Bé hơn. Dấu < Luyện tập](#)

Hướng dẫn giải bài tập trang 17, 18 SGK Toán 1: Bé hơn. Dấu < Luyện tập

Bài 1: (Hướng dẫn giải bài tập số 1 SGK)

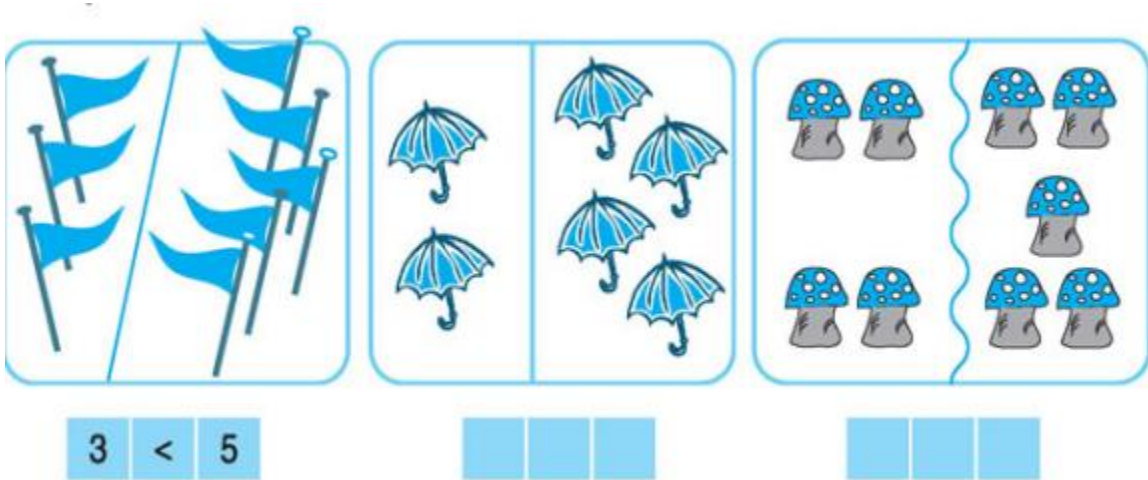
Viết dấu <

Hướng dẫn giải:

Học sinh tự viết dấu <

Bài 2: (Hướng dẫn giải bài tập số 2 SGK)

Viết theo mẫu



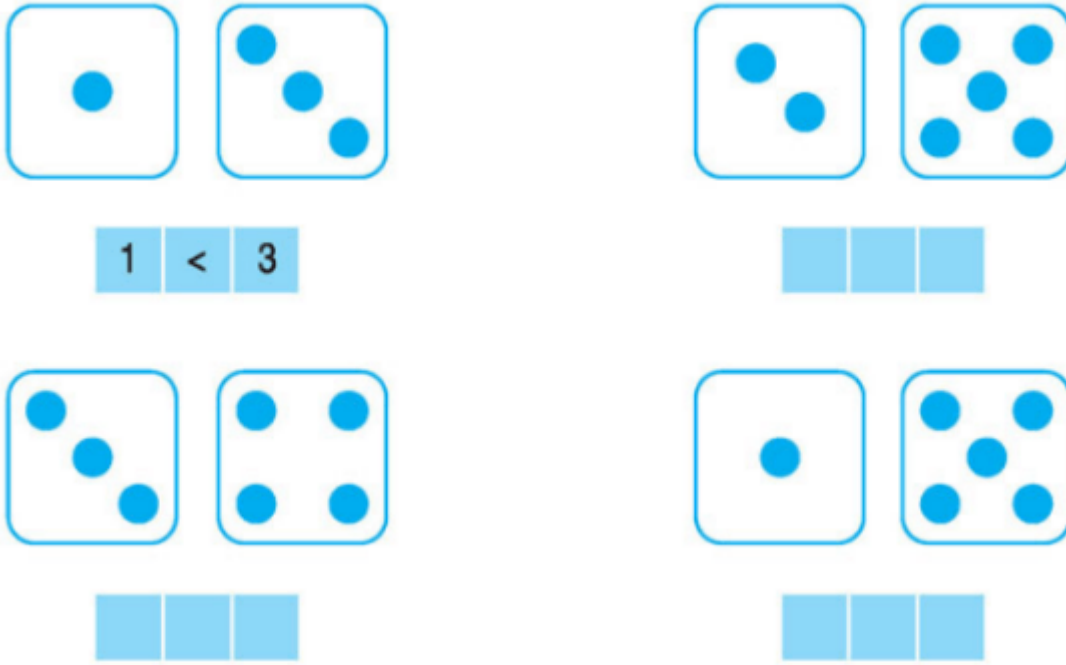
Hướng dẫn giải:

Hình b: $2 < 4$

Hình c: $4 < 5$

Bài 3: (Hướng dẫn giải bài tập số 3 SGK)

Viết theo mẫu



Hướng dẫn giải:

Hình 2: $2 < 5$

Hình 3: $3 < 4$

Hình 4: $1 < 5$

Bài 4: (Hướng dẫn giải bài tập số 4 SGK)

Viết dấu $<$ vào ô trống:

1...2 3...4 2...4

2...3 4...5 3...5

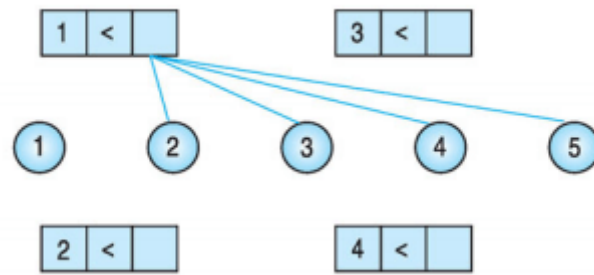
Hướng dẫn giải:

$1 < 2$ $3 < 4$ $2 < 4$

$2 < 3$ $4 < 5$ $3 < 5$

Bài 5: (Hướng dẫn giải bài tập số 5 SGK)

Nối ô trống với số thích hợp (theo mẫu):



Hướng dẫn giải:

Hình 2: Nói $3 < 4$ và $3 < 5$.

$2 < 3$, $2 < 4$ và $2 < 5$.

$4 < 5$.