

Bài 22: Dân số và phân bố dân cư

Trả lời câu hỏi giữa bài Địa 6 Bài 22 (Chân trời sáng tạo)

Câu hỏi 1 trang 189 Địa Lí lớp 6: Dựa vào thông tin trong bài và hình 22.1, em hãy cho biết:

- Quy mô dân số thế giới năm 2018.
- Xu hướng thay đổi quy mô dân số thế giới trong thời kì 1804-2018.



Hình 22.1. Quy mô dân số thế giới qua các năm

Trả lời:

- Quy mô dân số thế giới năm 2018 là 7,6 tỉ người.
- Sự thay đổi quy mô dân số
- + Dân số ngày càng tăng, từ năm 1804-2018 tăng thêm 6,6 (tỉ người).
- + Thời gian tăng lên 1 tỉ người ngày càng rút ngắn.

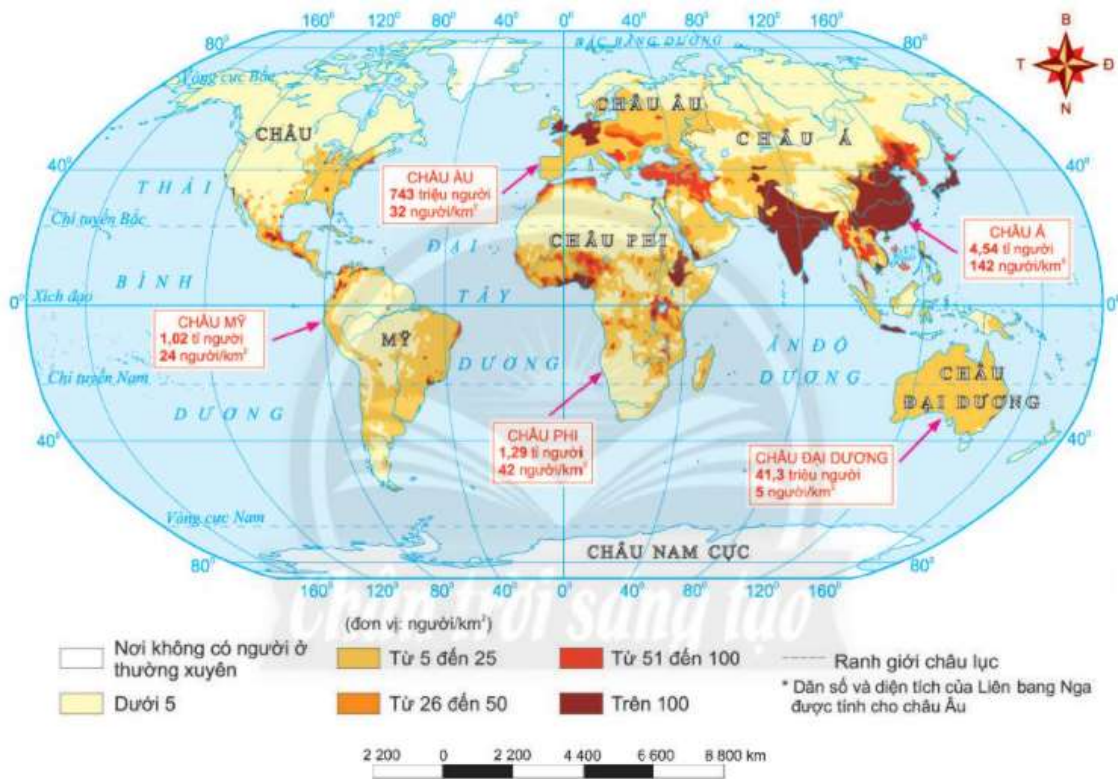
THỜI GIAN DÂN SỐ TĂNG THÊM MỘT TỈ NGƯỜI

Giai đoạn	Thời gian	Dân số
1804 – 1927	123	Từ 1 tỉ dân lên 2 tỉ dân
1927 – 1960	33	Từ 2 tỉ dân lên 3 tỉ dân
1960 – 1974	14	Từ 3 tỉ dân lên 4 tỉ dân
1974 – 1987	13	Từ 4 tỉ dân lên 5 tỉ dân
1987 – 1999	12	Từ 5 tỉ dân lên 6 tỉ dân

1999 – 2011	12	Từ 6 tỉ dân lên 7 tỉ dân
2011 – 2018	7	Từ 7 tỉ dân lên 7,6 tỉ dân

Câu hỏi 2 trang 190 Địa Lí lớp 6: Dựa vào hình 22.2 và thông tin trong bài, em hãy:

- Xác định trên bản đồ những khu vực đông dân (mật độ dân số trên 100 người/km²) và những khu vực thưa dân (mật độ dân số dưới 5 người/km²).
- Cho biết vì sao dân cư trên thế giới phân bố không đều?



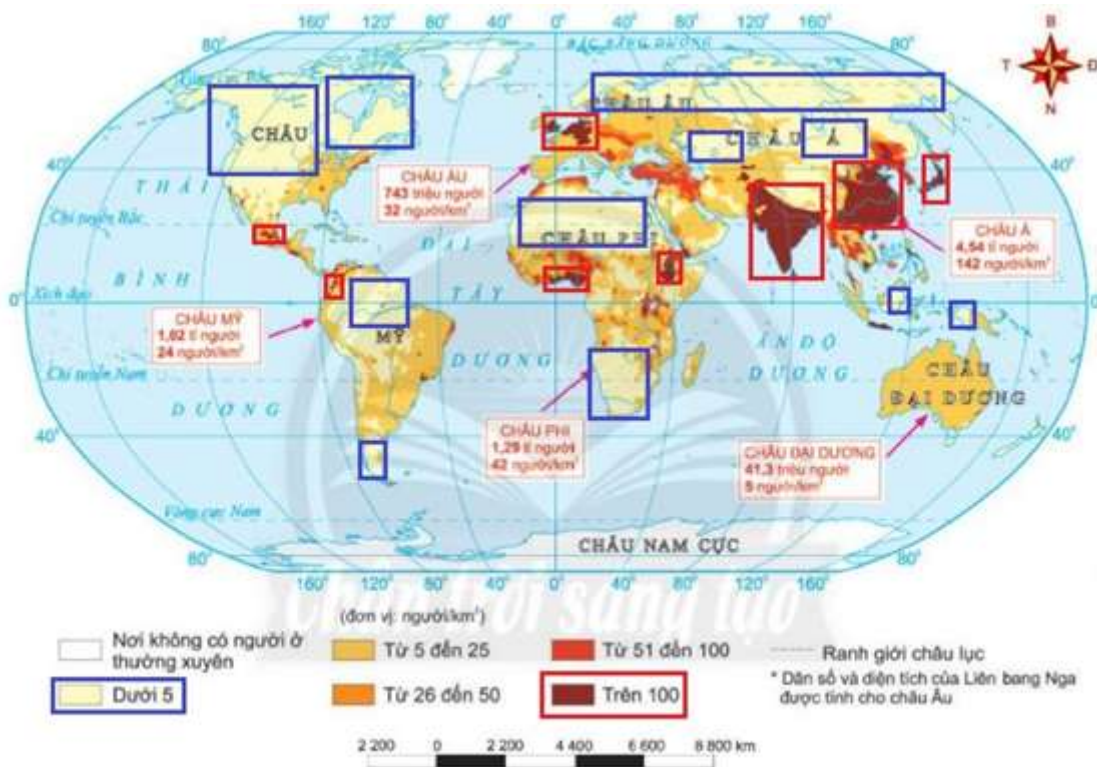
Hình 22.2. Phân bố dân cư thế giới năm 2018

Trả lời:

- Những khu vực đông dân (mật độ dân số trên 100 người/km²): tập trung ở những nơi có nguồn nước dồi dào, khí hậu giao thông thuận lợi như Đông Nam Á, Nam Á, Đông Á, Tây Âu, vịnh Công-gô,...
- Những khu vực thưa dân (mật độ dân số dưới 5 người/km²): ở những nơi khô hạn, khí hậu khắc nghiệt, địa hình núi cao, sản xuất không thuận lợi như châu Phi, châu Đại Dương, Bắc Mỹ, Bra-xin, Trung Á, Bắc Á, Bắc Âu,...
- Dân cư trên thế giới phân bố không đều phụ thuộc nhiều vào yếu tố

- + Vị trí địa lí.
- + Điều kiện tự nhiên (địa hình, đất, khí hậu, nguồn nước).
- + Sự phát triển kinh tế.
- + Trình độ của con người và lịch sử định cư.

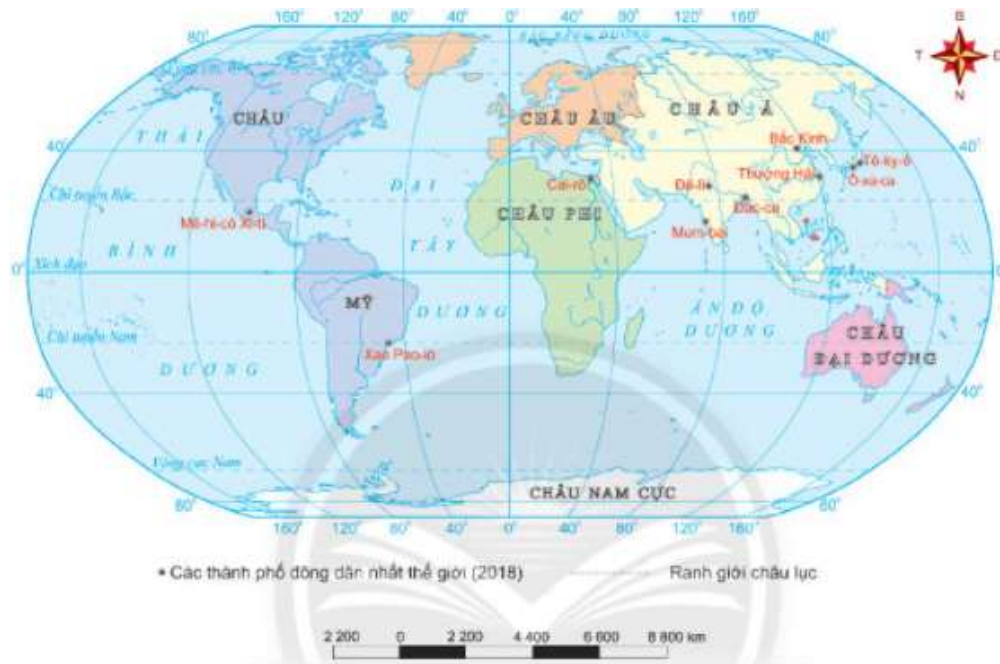
-> Ở mỗi khu vực địa lí sẽ có những điều kiện khác nhau -> Dân cư trên thế giới phân bố không đồng đều.



Hình 22.2. Phân bố dân cư thế giới năm 2018

Câu hỏi 3 trang 191 Địa Lí lớp 6: Dựa vào thông tin trong bài và hình 22.3, em hãy:

- Xác định trên bản đồ tên 10 thành phố đông dân nhất thế giới năm 2018.
- Cho viết châu lục nào có nhiều thành phố đông dân nhất thế giới sau năm 2018.



Hình 22.3. Một số thành phố đông dân nhất thế giới năm 2018

Trả lời:

- 10 thành phố đông dân nhất thế giới năm 2018: Mê-nê-cô Xi-ti, Xao Pao-lô, Cai-rô, Đê-ly, Bắc kinh, Thượng Hải, Tô-ky-ô, Ô-xa-ca, Đắc-ca, Mum-bai.
- Châu Á có nhiều thành phố đông dân nhất thế giới sau năm 2018 (7/10 thành phố đông dân nhất năm 2018).



Hình 22.3. Một số thành phố đông dân nhất thế giới năm 2018

Giải luyện tập - Vận dụng Bài 22 Địa lí 6 (Chân trời sáng tạo)

Luyện tập trang 191 Địa Lí lớp 6:

1. Vẽ sơ đồ thể hiện các nguyên nhân tác động đến sự phân bố dân cư trên thế giới.
2. Dựa vào hình 22.2, xác định châu lục đông dân, châu lục ít dân nhất.

Trả lời:

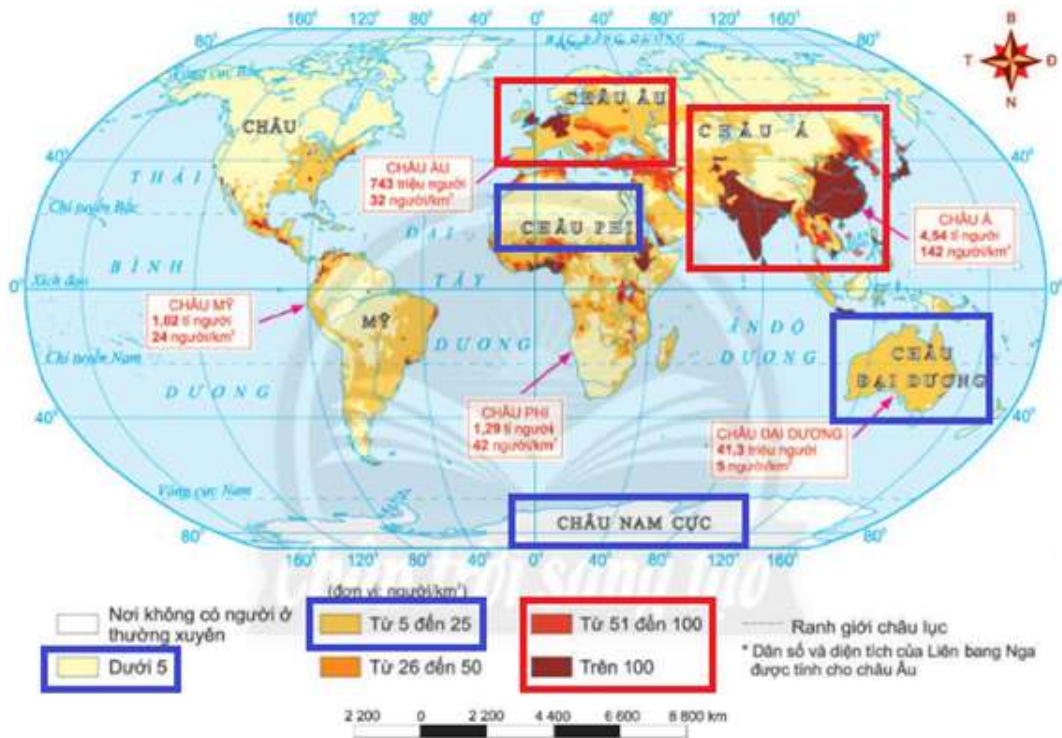
1. Sơ đồ tham khảo



2. Các châu lục đông dân và ít dân

- Châu lục đông dân: châu Á, châu Âu.

- Châu lục ít dân nhất: châu Phi, châu Đại Dương và châu Nam Cực.



Hình 22.2. Phân bố dân cư thế giới năm 2018

Vận dụng trang 191 Địa Lí lớp 6: Em hãy sưu tầm thông tin, hình ảnh những nơi đông dân và những nơi thưa ở nước ta.

Trả lời:

Học sinh tìm kiếm thông tin từ sách, báo, internet,...

- Một số nơi đông dân ở nước ta: Hà Nội, TP. Hồ Chí Minh, Đà Nẵng,...



Tỉnh thành nào đông dân nhất và ít dân nhất Việt...



Quy mô dân số Việt Nam những phát hiện chính



Dân số Việt Nam: Thứ ...

- Một số nơi thưa dân ở nước ta: Hà Giang, Yên Bái, Cao Bằng, Kon Tum,...



Yên Bái – Wikipedia tiếng Việt



Yên Bái: Du lịch 2019 - những điểm nhấn

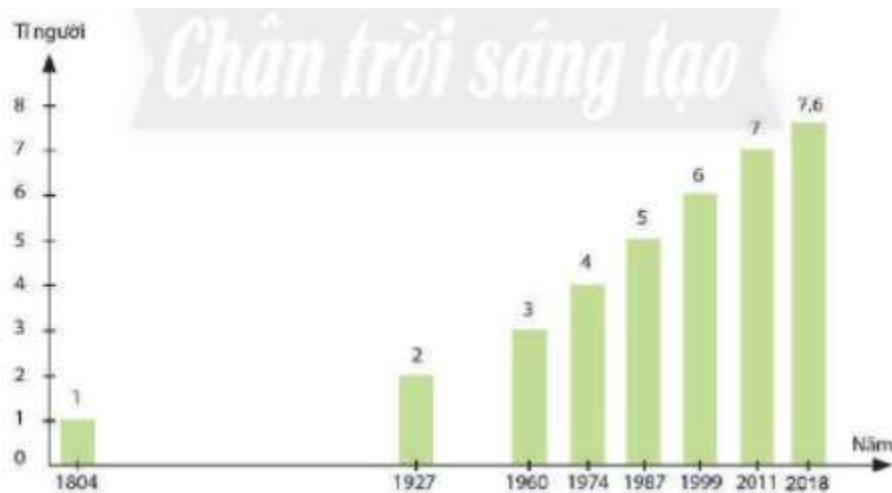


Yên Bái vài nét tổng quan | Xã hội | Báo ảnh Dân tộc...

Lý thuyết Địa lí lớp 6 Bài 22 (Chân trời sáng tạo)

I. Quy mô dân số thế giới

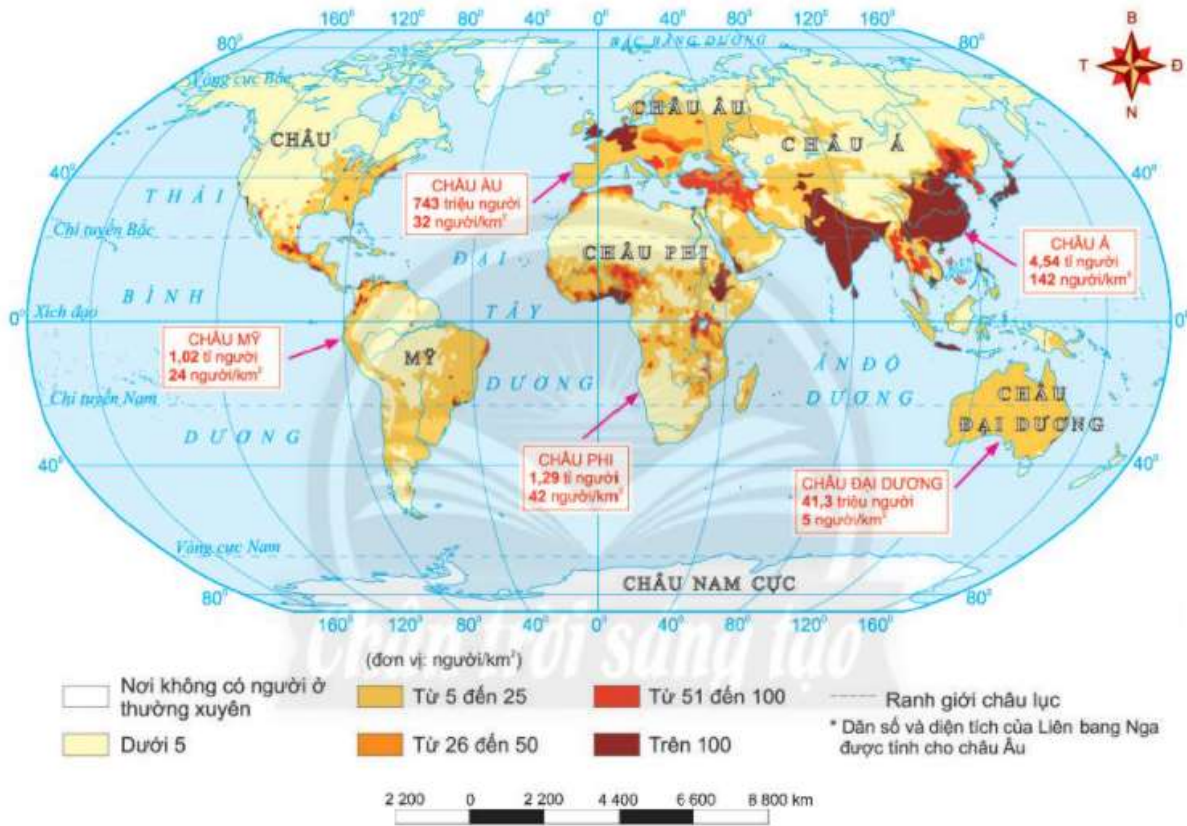
- Năm 2018, thế giới có 7,6 tỉ dân, sống trong hơn 200 quốc gia và vùng lãnh thổ.
- Số dân của các quốc gia rất khác nhau và luôn biến động.
- Dân số trên thế giới không ngừng tăng lên theo thời gian.



Hình 22.1. Quy mô dân số thế giới qua các năm

II. Phân bố dân cư

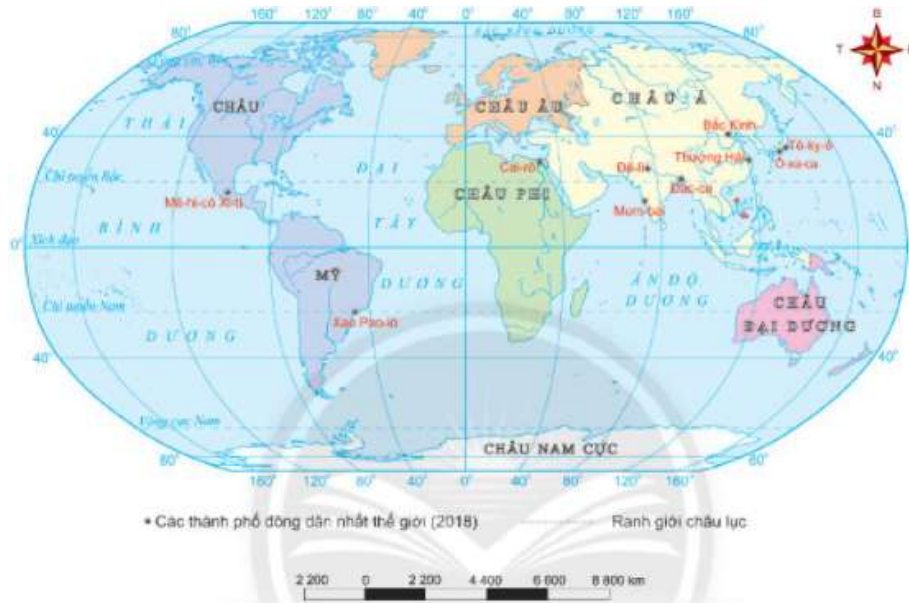
- *Phân bố dân cư* và mật độ dân số thế giới thay đổi theo thời gian và không đều trong không gian.
- *Nơi đông dân*: Nơi kinh tế phát triển, điều kiện tự nhiên thuận lợi, các hoạt động sản xuất phát triển, định cư lâu đời,...
- *Nơi thưa dân*: Các vùng khí hậu khắc nghiệt (băng giá, hoang mạc khô hạn,...), địa hình núi cao, sản xuất không thuận lợi,...



Hình 22.2. Phân bố dân cư thế giới năm 2018

III. Một số thành phố đông dân nhất thế giới

- Phần lớn con người sống ở các đô thị và ngày càng tăng.
- Số lượng các siêu đô thị trên thế giới ngày càng tăng lên.
- Các đô thị đông dân phân bố không đều, chủ yếu ở châu Á.
- Năm siêu đô thị có số dân đông nhất thế giới (trên 20 triệu người): Tô-ky-ô, Niu Đê-li, Thượng Hải, Xao Pao-lô, Mê-hi-cô-xi-ti.



Hình 22.3. Một số thành phố đông dân nhất thế giới năm 2018

