

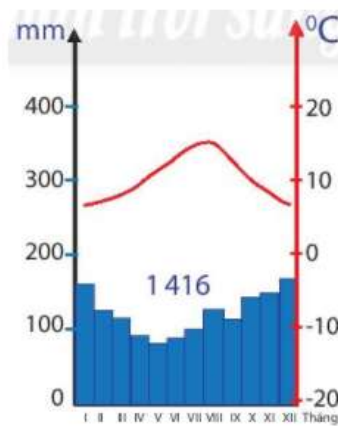
Bài 15: Thực hành phân tích biểu đồ nhiệt độ và lượng mưa

Trả lời câu hỏi giữa bài Địa 6 Bài 15 (Chân trời sáng tạo)

Câu hỏi 1 trang 163 Địa Lí lớp 6: Quan sát biểu đồ và lượng mưa của Va-len-xi-a hãy:

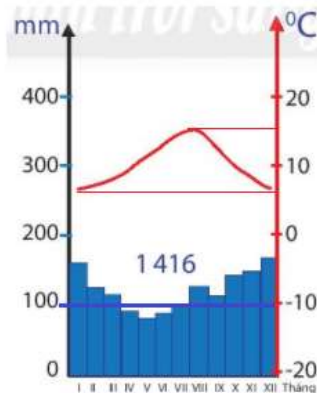
- Cho biết nhiệt độ trung bình tháng cao nhất và tháng thấp nhất.
- Nhiệt độ chênh lệch giữa tháng cao nhất và tháng thấp nhất là bao nhiêu?
- Những tháng nào trong năm có lượng mưa trên 100mm?

Từ những nhận xét về nhiệt độ và lượng mưa của Va-len-xi-a, em hãy cho biết địa điểm này có thuộc đới khí hậu em đã tìm hiểu trong bài 13 không? Vì sao?



Hình 15.1. Biểu đồ nhiệt độ, lượng mưa của Va-len-xi-a

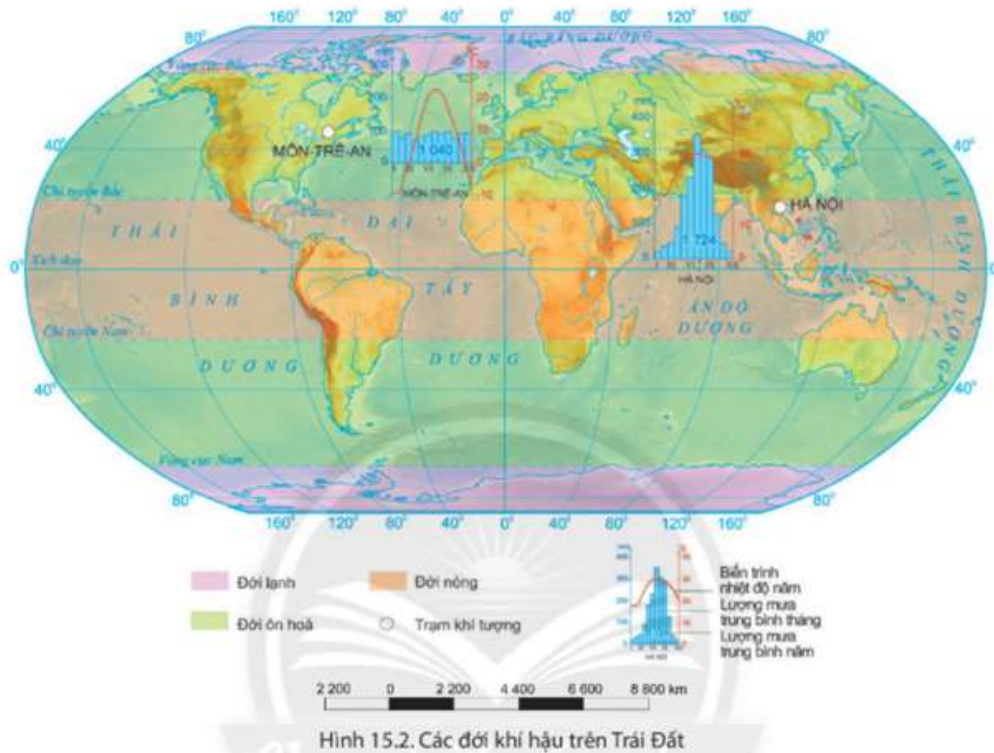
Trả lời:



Hình 15.1. Biểu đồ nhiệt độ, lượng mưa của Va-len-xi-a

- Nhiệt độ trung bình của tháng cao nhất khoảng 16⁰C, thấp nhất khoảng 7⁰C.
- Nhiệt độ chênh lệch khoảng 9-10⁰C.
- Những tháng có lượng mưa trên 100mm là: 1, 2, 3, 8, 9, 10, 11, 12.
- Địa điểm này thuộc đới khí hậu ôn đới do lượng mưa nhiều quanh năm, lượng mưa trung bình 500-1500mm; nhiệt độ trung bình 8-16⁰C và biên độ nhiệt không quá lớn (khoảng 9⁰C).

Câu hỏi 2 trang 164 Địa Lí lớp 6: Quan sát hình 15.2, em hãy so sánh đặc điểm nhiệt độ và lượng mưa của Môn-trê-an, Ca-na-da và Hà Nội, Việt Nam.

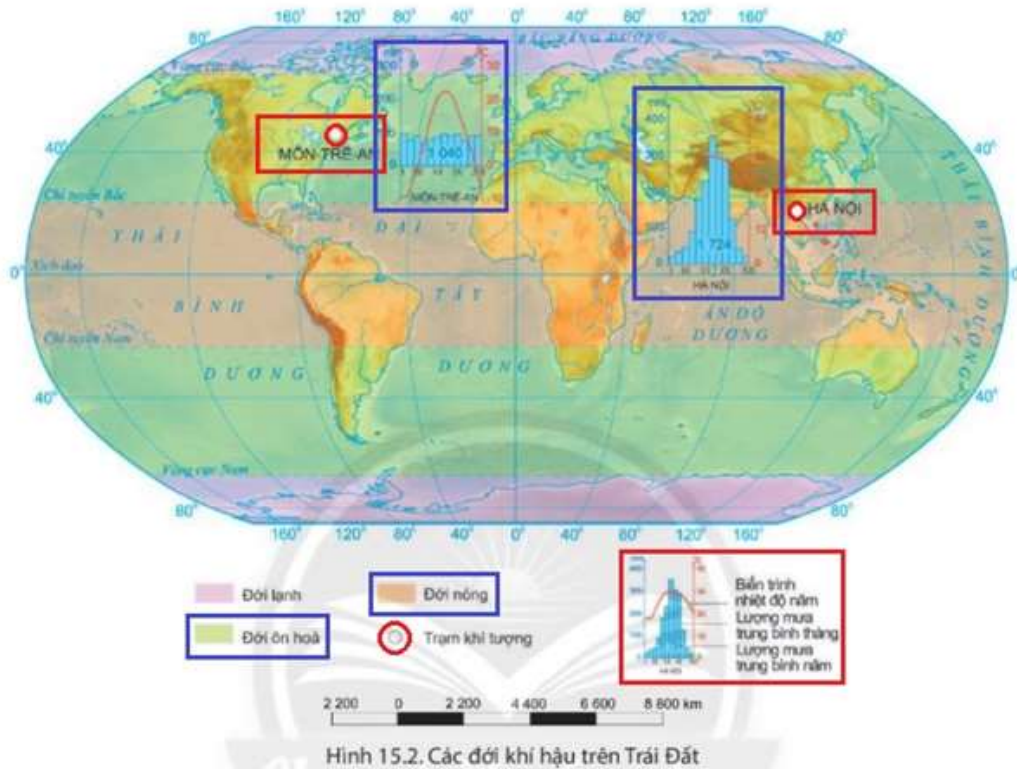


Trả lời:

So sánh đặc điểm nhiệt độ và lượng mưa của Môn-trê-an, Ca-na-da và Hà Nội, Việt Nam.

Đặc điểm	Hà Nội	Môn-trê-an
Đới khí hậu	Nhiệt đới	Ôn đới
Nhiệt độ	- Nhiệt độ tháng thấp nhất khoảng 18 ⁰ C. - Nhiệt độ tháng cao nhất khoảng	- Nhiệt độ tháng thấp nhất khoảng - 10 ⁰ C.

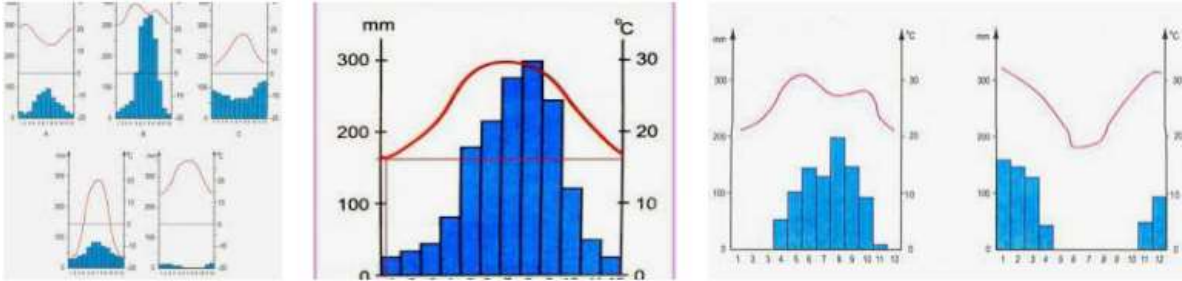
	<p>30⁰C.</p> <p>- Biên độ nhiệt độ năm khoảng 12⁰C.</p>	<p>- Nhiệt độ tháng cao nhất khoảng 23⁰C.</p> <p>- Biên độ nhiệt độ năm khoảng 33⁰C.</p>
Lượng mưa	<p>- Tổng lượng mưa cả năm là 1724 mm.</p> <p>- Mưa nhiều từ tháng 5 đến tháng 10; mưa ít từ tháng 11 đến tháng 4 năm sau.</p>	<p>- Tổng lượng mưa cả năm là 1040 mm.</p> <p>- Mưa quanh năm, tháng cao nhất không quá 120mm/tháng. Tháng thấp nhất không dưới 80mm/tháng.</p>



Lý thuyết Địa lí lớp 6 Bài 15 (Chân trời sáng tạo)

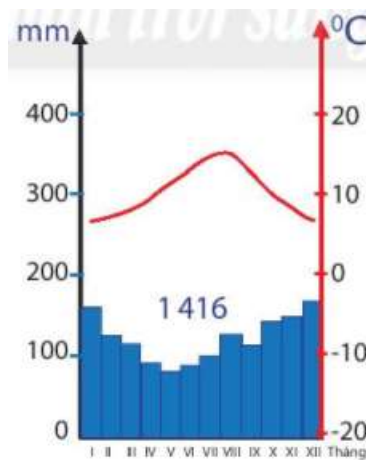
I. Chuẩn bị

- Biểu đồ nhiệt độ và lượng mưa của một số địa điểm.
- Tập bản đồ Địa Lí lớp 6.



II. Các bước tiến hành

*** Biểu đồ nhiệt độ và lượng mưa của Va-len-xi-a**



Hình 15.1. Biểu đồ nhiệt độ, lượng mưa của Va-len-xi-a

- Nhiệt độ

+ Nhiệt độ trung bình của tháng cao nhất khoảng 16⁰C, thấp nhất khoảng 7⁰C.

+ Nhiệt độ chênh lệch khoảng 9-10⁰C.

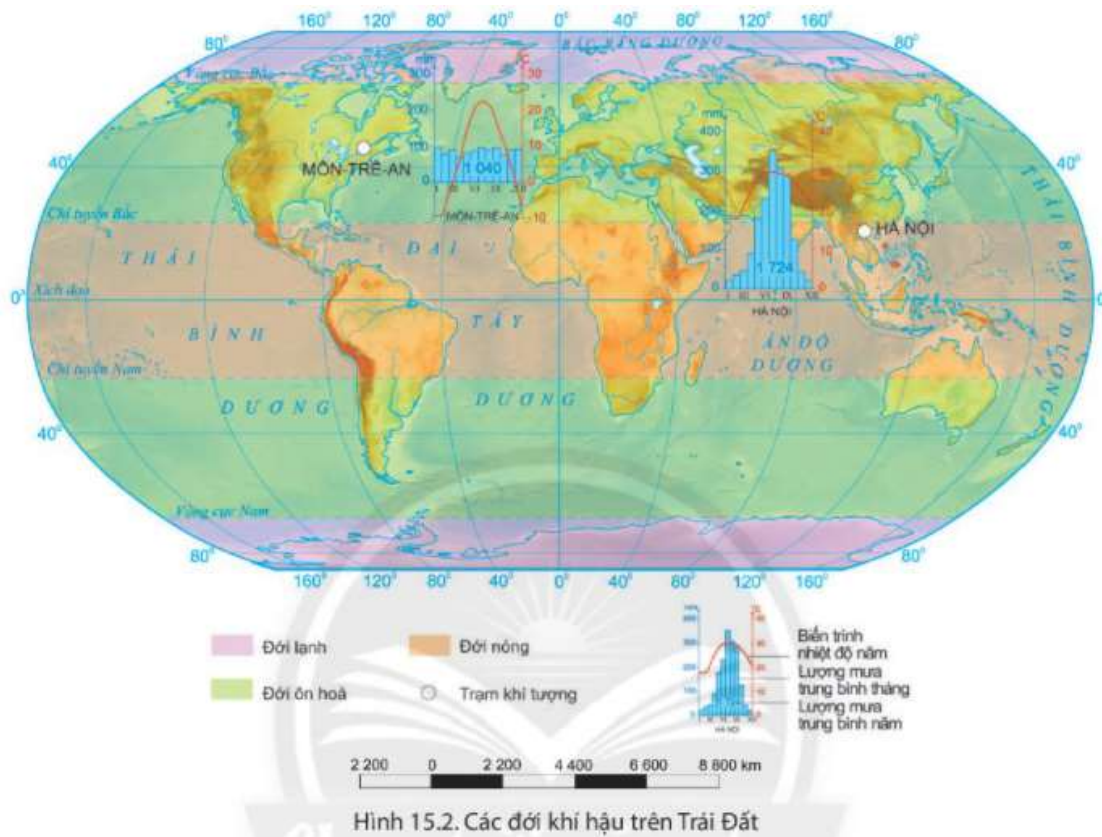
- Lượng mưa: Những tháng có lượng mưa trên 100mm là: 1, 2, 3, 8, 9, 10, 11, 12.

-> Địa điểm này thuộc đới khí hậu ôn đới do lượng mưa nhiều quanh năm, lượng mưa trung bình 500-1500mm; nhiệt độ trung bình 8-16⁰C và biên độ nhiệt không quá lớn (khoảng 9⁰C).

*** Đặc điểm nhiệt độ, lượng mưa của Môn-trê-an (Ca-na-da) và Hà Nội (Việt Nam)**

Đặc điểm	Hà Nội	Môn-trê-an
Đới khí hậu	Nhiệt đới	Ôn đới

Nhiệt độ	<ul style="list-style-type: none"> - Nhiệt độ tháng thấp nhất khoảng 18⁰C. - Nhiệt độ tháng cao nhất khoảng 30⁰C. - Biên độ nhiệt độ năm khoảng 12⁰C. 	<ul style="list-style-type: none"> - Nhiệt độ tháng thấp nhất khoảng - 10⁰C. - Nhiệt độ tháng cao nhất khoảng 23⁰C. - Biên độ nhiệt độ năm khoảng 33⁰C.
Lượng mưa	<ul style="list-style-type: none"> - Tổng lượng mưa cả năm là 1724 mm. - Mưa nhiều từ tháng 5 đến tháng 10; mưa ít từ tháng 11 đến tháng 4 năm sau. 	<ul style="list-style-type: none"> - Tổng lượng mưa cả năm là 1040 mm. - Mưa quanh năm, tháng cao nhất không quá 120mm/tháng. Tháng thấp nhất không dưới 80mm/tháng.



Hình 15.2. Các đới khí hậu trên Trái Đất