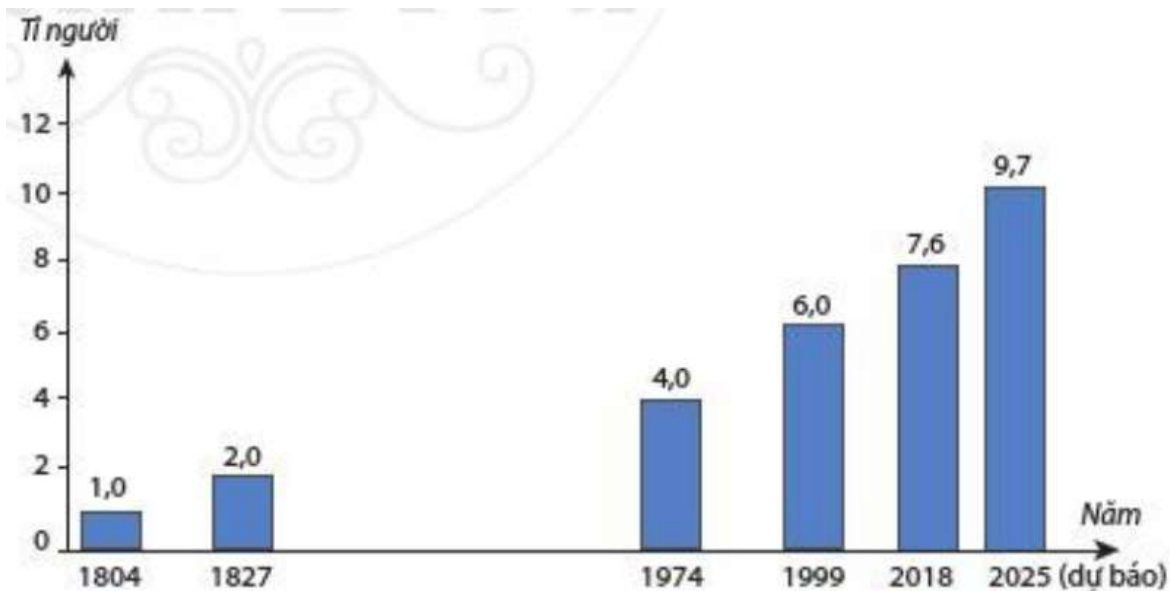


Bài 24: Dân số thế giới. Sự phân bố dân cư thế giới. Các thành phố lớn trên thế giới

Trả lời câu hỏi giữa bài Địa 6 Bài 24 (Cánh diều)

Câu hỏi trang 184 Địa Lí lớp 6: Quan sát hình 24.1 hãy cho biết:



Hình 24.1. Biểu đồ quy mô dân số thế giới qua một số năm

- Số dân trên thế giới năm 2018 là bao nhiêu tỉ người?
- Dân số thế giới tăng lên bao nhiêu tỉ người từ năm 1804 đến năm 2018?

Lời giải:

Quan sát biểu đồ quy mô dân số thế giới hình 24.1, ta thấy:

- Số dân trên thế giới năm 2018 là 7,6 tỉ người
- Số dân thế giới từ năm 1804 đến năm 2018 tăng lên số tỉ người là: $7,6 - 1,0 = 6,6$ (tỉ người)

Câu hỏi trang 185 Địa Lí lớp 6: Quan sát hình 24.2, hãy:

- Xác định những khu vực có mật độ dân số từ 1 đến 2 người/km² và những khu vực có mật độ dân số trên 200 người/km².
- Nhận xét về sự phân bố dân cư trên thế giới.

Lời giải:

Quan sát hình 24.2, em thấy:

- Những khu vực có mật độ dân số từ 1 đến 2 người/km² là: phía Đông Bắc Mỹ, châu Âu, Đông Á, Đông Nam Á, Nam Á, rìa Đông và Đông Nam lục địa Nam Mỹ, hạ lưu sông Nin
- Những khu vực có mật độ dân số trên 200 người/km² là: Trung tâm châu Á, phía Bắc của Bắc Mỹ, Châu Phi, lục địa Ô-xtrây-ly-a.
- Nhận xét: Dân cư trên thế giới phân bố không đồng đều. Có những khu vực dân cư đông đúc, ngược lại có những khu vực dân cư thưa thớt.

Câu hỏi trang 186 Địa Lí lớp 6: Tại sao dân cư trên thế giới phân bố không đều?

Lời giải:

- Sự phân bố dân cư phụ thuộc nhiều vào yếu tố như: vị trí địa lí, điều kiện tự nhiên (địa hình, đất, khí hậu, nguồn nước), sự phát triển kinh tế, trình độ của con người và lịch sử định cư. Trong khi đó, ở mỗi khu vực địa lí sẽ có những điều kiện khác nhau, dân cư trên thế giới phân bố không đồng đều.

Câu hỏi trang 187 Địa Lí lớp 6: Quan sát hình 24.4, hãy cho biết năm 2018 trên thế giới có bao nhiêu thành phố có quy mô dân số từ 5 triệu người trở lên.

Lời giải:

Năm 2018, trên thế giới có:

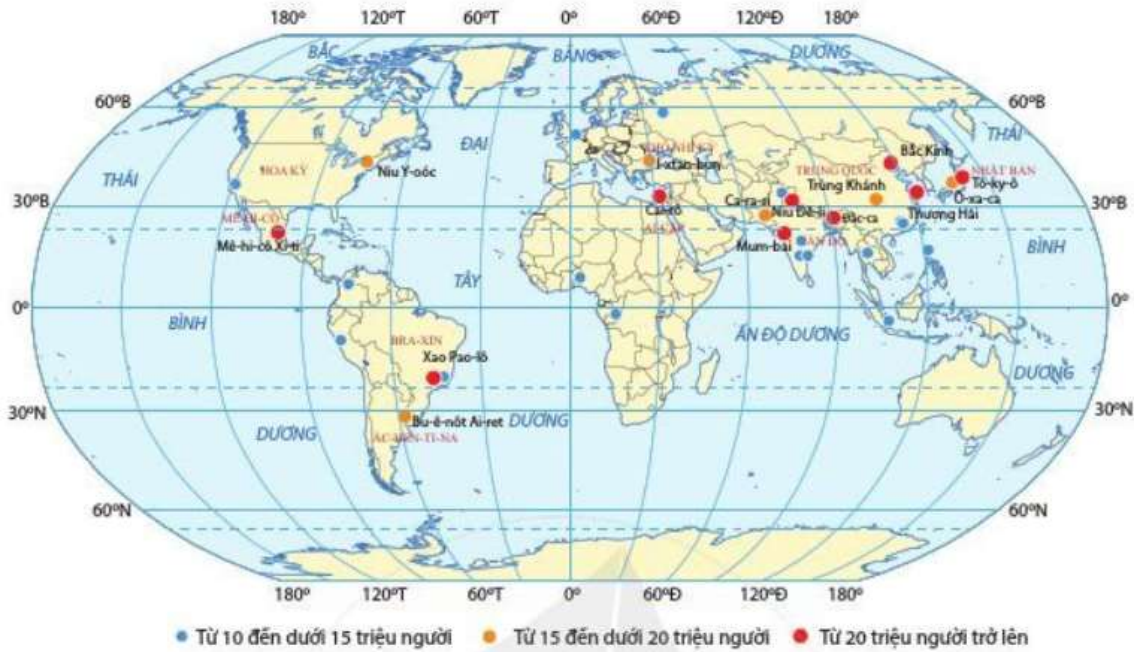
- + Từ 5 - dưới 10 triệu người: 51 thành phố
- + Từ 10 - dưới 15 triệu người: 19 thành phố
- + Từ 15 - dưới 20 triệu người: 6 thành phố
- + Trên 20 triệu người: 9 thành phố

=> Năm 2018, trên thế giới có: 85 thành phố có quy mô dân số từ 5 triệu người trở lên.

Câu hỏi trang 188 Địa Lí lớp 6: Quan sát hình 24.5 hãy:

- Kể tên một số thành phố lớn ở châu Á có số dân từ 20 triệu người trở lên

- Kể tên ba thành phố bất kì trên thế giới có số dân từ 20 triệu người trở lên. Các thành phố đó thuộc quốc gia nào?



Hình 24.5. Lược đồ phân bố các thành phố lớn từ 10 triệu người trở lên trên thế giới năm 2018

Lời giải:

- Tên một số thành phố lớn ở châu Á có số dân từ 20 triệu người trở lên: Bắc Kinh, Thượng Hải, Trùng khánh, Tô-ky-ô, Mum-bai,...

- Tên ba thành phố bất kì trên thế giới có số dân từ 20 triệu người trở lên:

- + Cai - rô của nước Ai- Cập
- + Xao Pao - lô của nước Bra - xin
- + Mê -hi -cô Xi -ti của nước Mê -hi -cô.

Giải luyện tập & vận dụng Bài 24 Địa lí 6 (Cánh diều)

Luyện tập và Vận dụng 1 trang 188 Địa Lí lớp 6: Hãy vẽ sơ đồ các nhân tố ảnh hưởng tới sự phân bố dân cư trên thế giới. Lấy ví dụ minh họa.

Lời giải:

* Nhân tố ảnh hưởng tới sự phân bố dân cư:

- Vị trí địa lý:

- + Vị trí thuận lợi như: gần đường giao thông, gần đô thị,..
- + Dân cư tập trung đông
- Điều kiện tự nhiên:
- + Dân cư có xu hướng tập trung đông gần nguồn nước như các bờ sông lớn
- Sự phát triển kinh tế:
- + Những nơi có kinh tế phát triển, giao thông thuận lợi, sản xuất phát triển,.. dân cư đông
- Trình độ con người:
- + Con người có xu hướng tập trung đông ở những khu vực có trình độ dân trí cao, văn minh
- Lịch sử định cư:
- + Nơi có lịch sử khai thác lãnh thổ sớm hơn, lâu đời hơn thì dân cư đông hơn.

Luyện tập và Vận dụng 2 trang 188 Địa Lí lớp 6: Cho bảng số liệu sau:

Hãy nhận xét về quy mô dân số thế giới qua các năm.

Lời giải:

- Dân số thế giới tăng nhanh qua các năm, tăng từ 5,2 tỉ người (1989) lên 7,6 tỉ người (2018), tăng thêm 2,4 tỉ người.
- Dân số tăng đều theo từng giai đoạn.

Luyện tập và Vận dụng 3 trang 188 Địa Lí lớp 6: Việc chuyển cư trong những năm gần đây của một số nước trên thế giới có làm cho số dân của thế giới tăng lên không? Tại sao?

Lời giải:

Việc chuyển cư trong những năm gần đây của một số nước trên thế giới không làm cho dân số thế giới tăng lên vì bản chất dân số tăng hay giảm là do tỉ lệ sinh đẻ và tử vong.

Luyện tập và Vận dụng 4 trang 188 Địa Lí lớp 6: Hãy lấy một số ví dụ ở Việt Nam để thấy được khi dân số tăng nhanh sẽ là trở ngại rất lớn cho giáo dục hoặc y tế, giao thông.

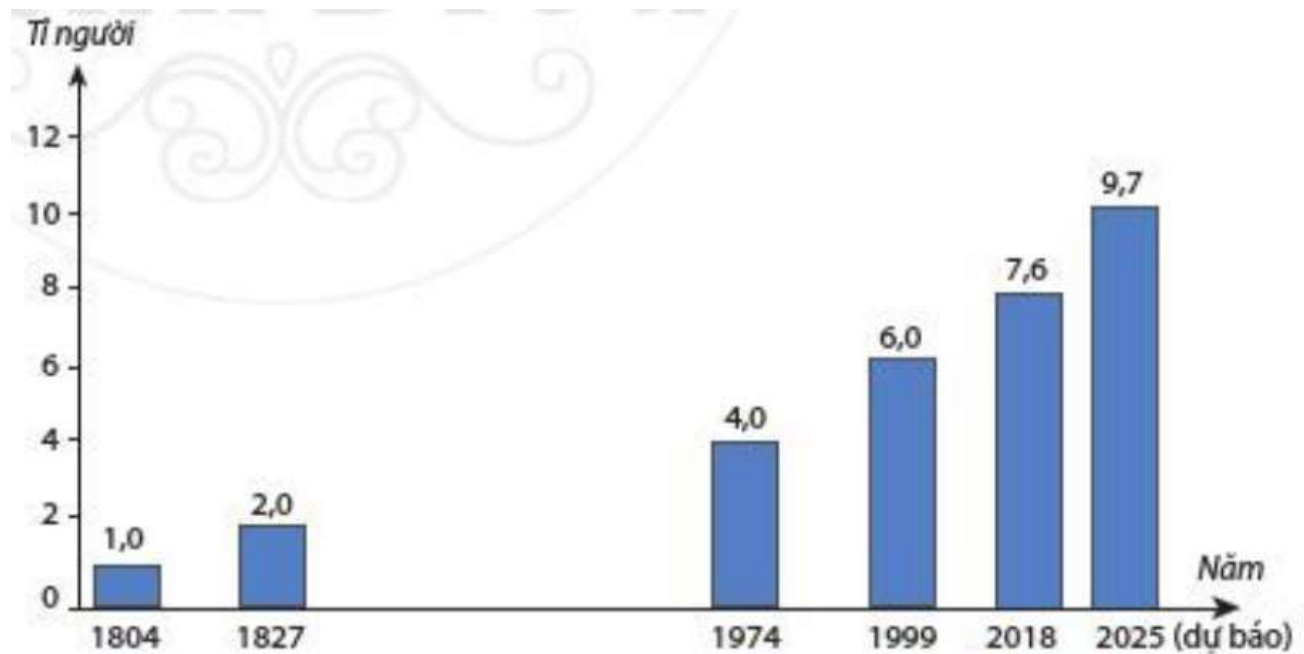
Lời giải:

- Ví dụ: dân số tăng quá nhanh, dẫn đến tình trạng thiếu chỗ ở, thiếu việc làm, ô nhiễm môi trường và tắc nghẽn giao thông,...

- Xảy ra ở các đô thị lớn như: Hà Nội và Thành phố Hồ Chí Minh.

Lý thuyết Địa lí lớp 6 Bài 24 (Cánh điều)

1. Quy mô dân số thế giới



Hình 24.1. Biểu đồ quy mô dân số thế giới qua một số năm

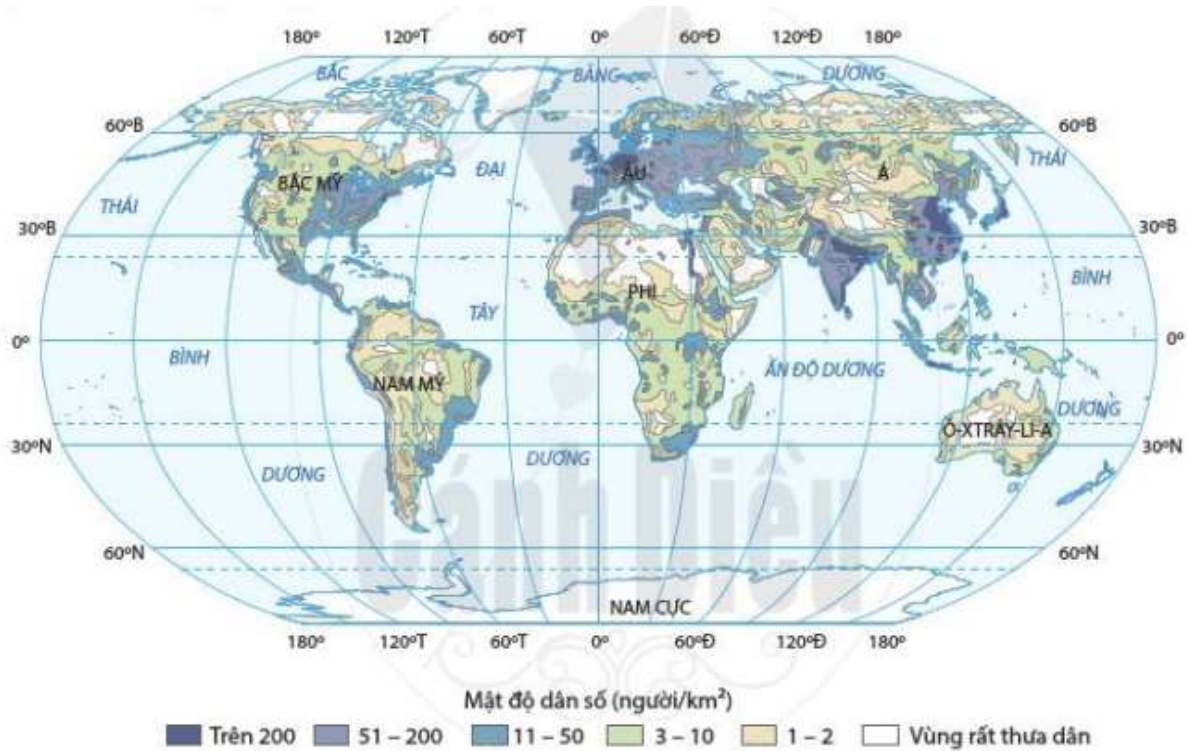
- Quy mô dân số ngày càng lớn.

- Thời gian để dân tăng thêm 1 tỉ người ngày càng ngắn.

2. Sự phân bố dân cư thế giới

** Dân cư thế giới phân bố không đều*

- Để xác định được sự phân bố dân cư, người ta dùng tiêu chí mật độ dân số.



Hình 24.2. Lược đồ phân bố dân cư thế giới năm 2018

- Dân cư đông đúc

- + Khu vực trung tâm một số thành phố lớn trên thế giới.
- + Một số khu vực: Đông Á, Đông Nam Á, Nam Á, phần lớn châu Âu, hạ lưu sông Nin,...

- Dân cư thưa thớt

- + Khu vực vùng núi cao hoặc các vùng cận cực.
- + Các hoang mạc.



Hình 24.3. Ngôi làng nhỏ ở Grin-len, nơi có khí hậu khắc nghiệt, dân cư thưa thớt

*** Nguyên nhân**

- Sự phân bố dân cư phụ thuộc vào nhiều yếu tố

+ Vị trí địa lí.

+ Điều kiện tự nhiên (địa hình, đất, khí hậu, nguồn nước).

+ Sự phát triển kinh tế, trình độ của con người.

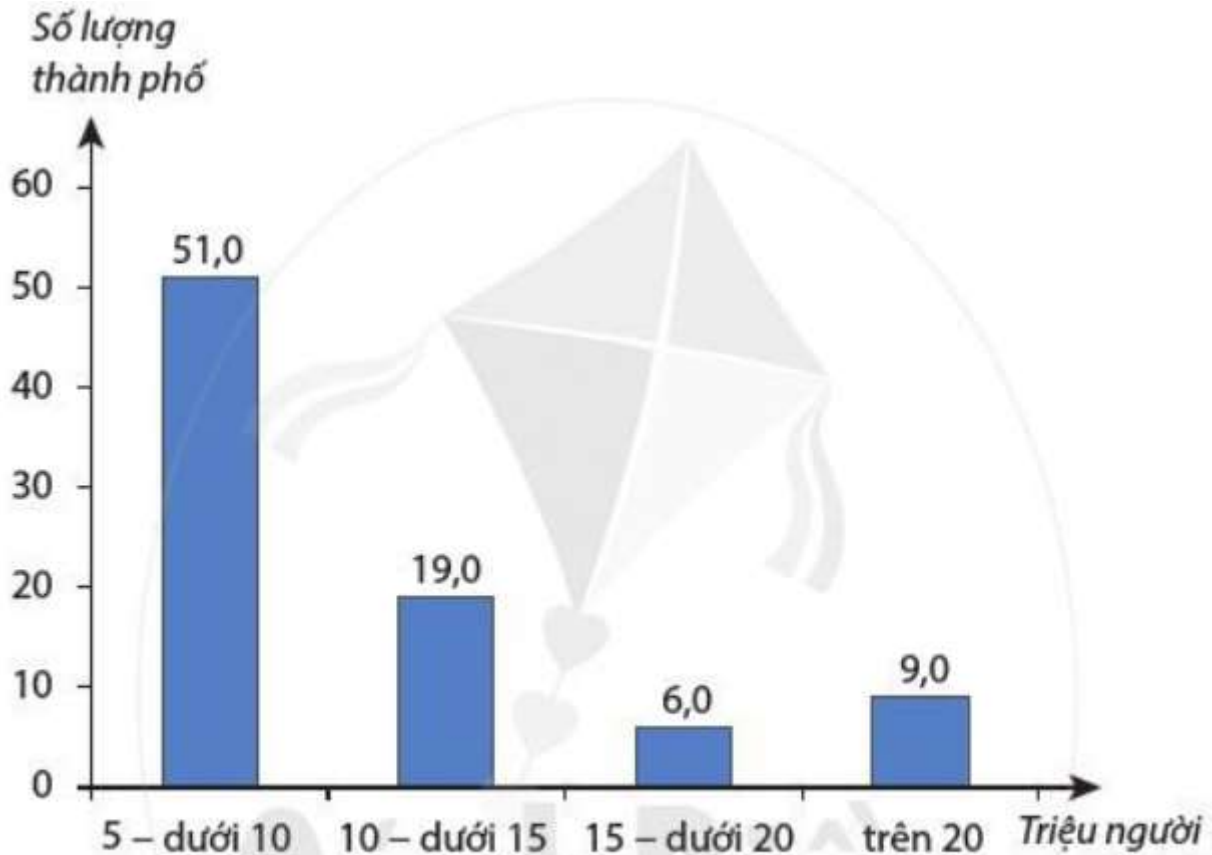
+ Lịch sử định cư.

- *Khu vực tập trung đông dân* là những khu vực có điều kiện thuận lợi cho giao thông, sản xuất và cư trú như: đất đai màu mỡ, đi lại dễ dàng, các ngành kinh tế phát triển; là nơi tập chung các thành phố lớn, nơi cư trú lâu đời của dân cư,...

- *Khu vực dân cư thưa thớt* là những khu vực có khí hậu khô hạn hoặc quanh năm lạnh giá, đi lại khó khăn, các ngành kinh tế kém phát triển,...

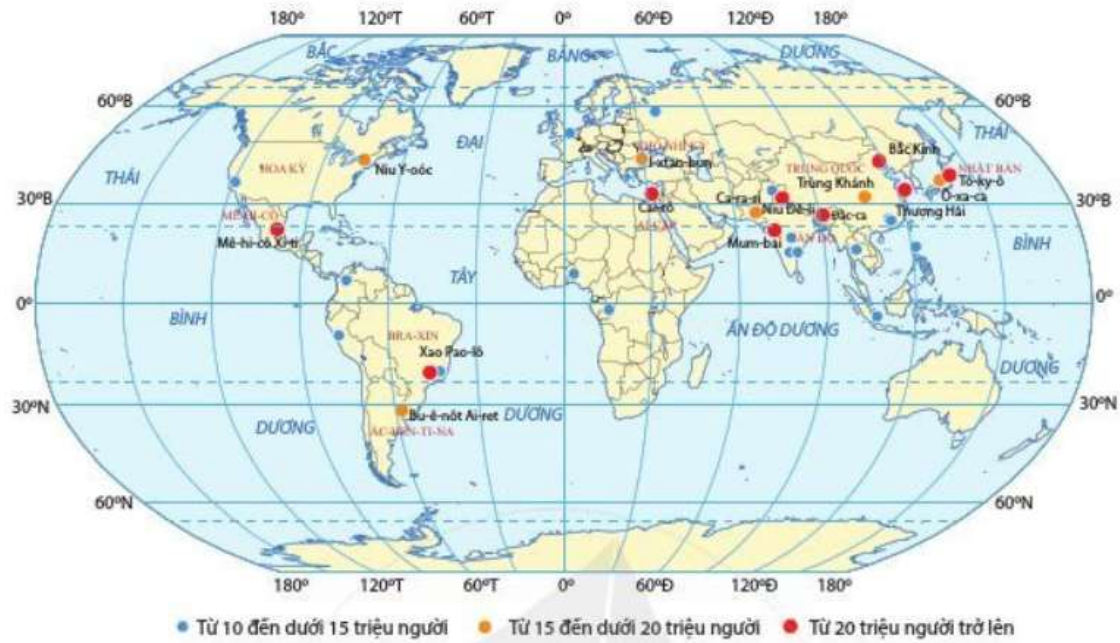
3. Sự phân bố các thành phố lớn trên thế giới

- Sự gia tăng của dân số cùng với sự phát triển của kinh tế đã làm cho số lượng các thành phố lớn trên thế giới ngày càng nhiều.



Hình 24.4. Biểu đồ số lượng thành phố phân theo quy mô dân số trên thế giới năm 2018

- Các thành phố lớn trên thế giới phân bố ở khắp các châu lục.
- Khu vực tập trung nhiều thành phố có số dân trên 1 triệu người là châu Á.
- Các thành phố lớn có vai trò rất quan trọng trong việc kết nối các nền kinh tế thế giới.
- Một số thành phố có tầm ảnh hưởng đối với nền kinh tế thế giới hiện nay là: Niu Y-oóc (Hoa Kỳ), Tô-ky-ô (Nhật Bản) và Luân Đôn (Anh).



Hình 24.5. Luợc đồ phân bố các thành phố lớn từ 10 triệu người trở lên trên thế giới năm 2018