

Nội dung bài viết

1. [Giải bài tập Toán 2 bài: Em làm được những gì - Chân trời sáng tạo](#)

Mời các em học sinh và quý thầy cô tham khảo hướng dẫn **Giải bài tập Toán lớp 2: Em làm được những gì trang 96, 97 - Chân trời sáng tạo** được đội ngũ chuyên gia biên soạn đầy đủ và ngắn gọn dưới đây.

Giải bài tập Toán 2 bài: Em làm được những gì - Chân trời sáng tạo

Bài 1

Bài 1 (trang 96 SGK Toán 2 tập 1)

Tính nhẩm.

$9 + 7$

$12 - 6$

$50 + 40$

$6 + 5$

$11 - 7$

$80 - 60$

$4 + 8$

$10 - 8$

$70 + 30$

Phương pháp giải:

Tính nhẩm giá trị các phép tính theo các cách tính đã học.

Lời giải chi tiết:

$9 + 7 = 16$

$12 - 6 = 6$

$50 + 40 = 90$

$6 + 5 = 11$

$11 - 7 = 4$

$80 - 60 = 20$

$4 + 8 = 12$

$10 - 8 = 2$

$70 + 30 = 100$

Bài 2

Bài 2 (trang 96 SGK Toán 2 tập 1)

Quan sát các phép tính sau:

$44 + 48$

$68 - 17$

$80 - 25$

$31 + 9$

a) Xác định các phép tính có nhớ.

b) Đặt tính rồi tính bốn phép tính trên.

Phương pháp giải:

- Đặt tính : Viết các chữ số cùng hàng thẳng cột với nhau.

- Tính : Trừ các chữ số lần lượt từ phải sang trái.

Lời giải chi tiết:

a) Các phép tính có nhớ là:

44 + 48; 80 – 25 ; 31 + 9.

b) Đặt tính rồi tính:

$$\begin{array}{r} 44 \\ + 48 \\ \hline 92 \end{array}$$

$$\begin{array}{r} 80 \\ - 25 \\ \hline 55 \end{array}$$



$$\begin{array}{r} 31 \\ + 9 \\ \hline 40 \end{array}$$

$$\begin{array}{r} 68 \\ - 17 \\ \hline 51 \end{array}$$

Bài 3

Bài 3 (trang 96 SGK Toán 2 tập 1)

Số?





Phương pháp giải:

Quan sát ta thấy tổng của hai số ở hàng dưới bằng số ở hàng trên, hay số còn thiếu hàng dưới bằng số ở hàng trên trừ đi số đã biết ở hàng dưới.

Lời giải chi tiết:

Ta có: $13 - 6 = 7$; $9 + 8 = 17$.

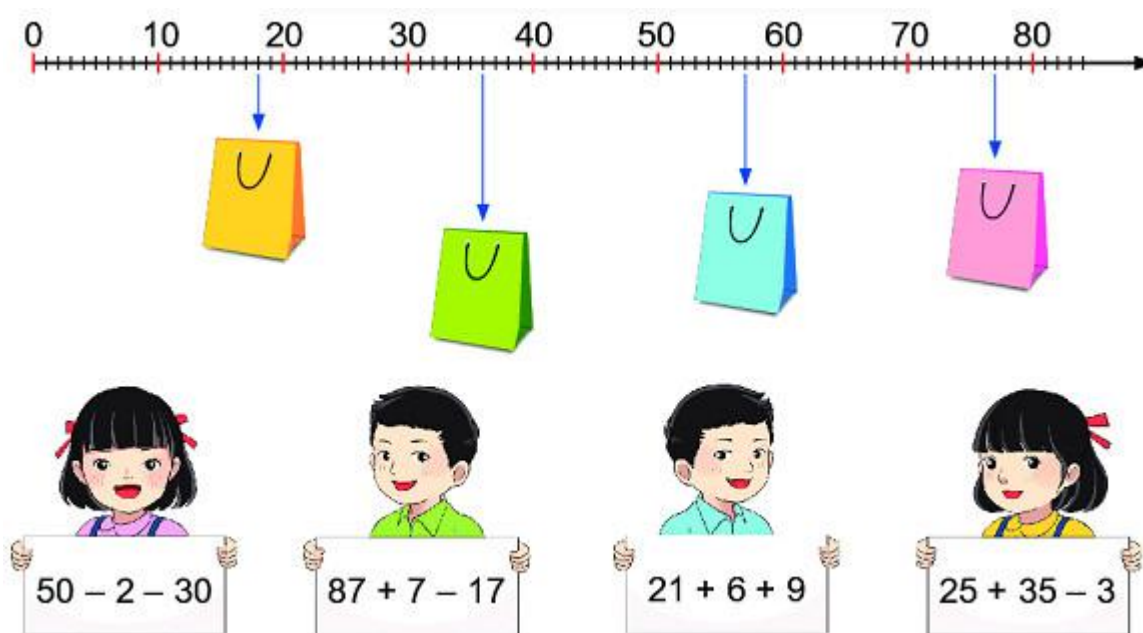
Vậy ta có kết quả như sau:



Bài 4

Bài 4 (trang 96 SGK Toán 2 tập 1)

Em tính rồi tìm túi giúp các bạn.



Phương pháp giải:

- Thực hiện các phép tính lần lượt theo thứ tự từ trái sang phải.
- Xác định các số trên tia số, hai ô cạnh nhau hơn kém nhau 1 đơn vị.

Lời giải chi tiết:

Ta có:

$$50 - 2 - 30 = 48 - 30 = 18 ;$$

$$87 + 7 - 17 = 94 - 17 = 77 ;$$

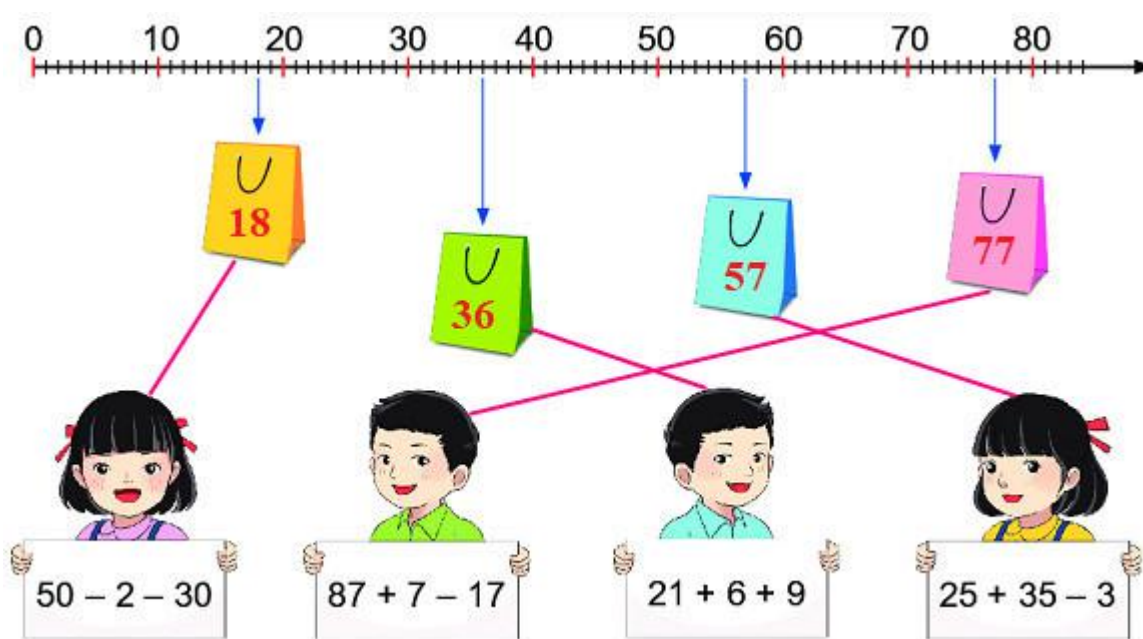
$$21 + 6 + 9 = 27 + 9 = 36 ;$$

$$25 + 35 - 3 = 60 - 3 = 57.$$

Số trên túi màu cam là 18; Số trên túi màu xanh lá cây là 36;

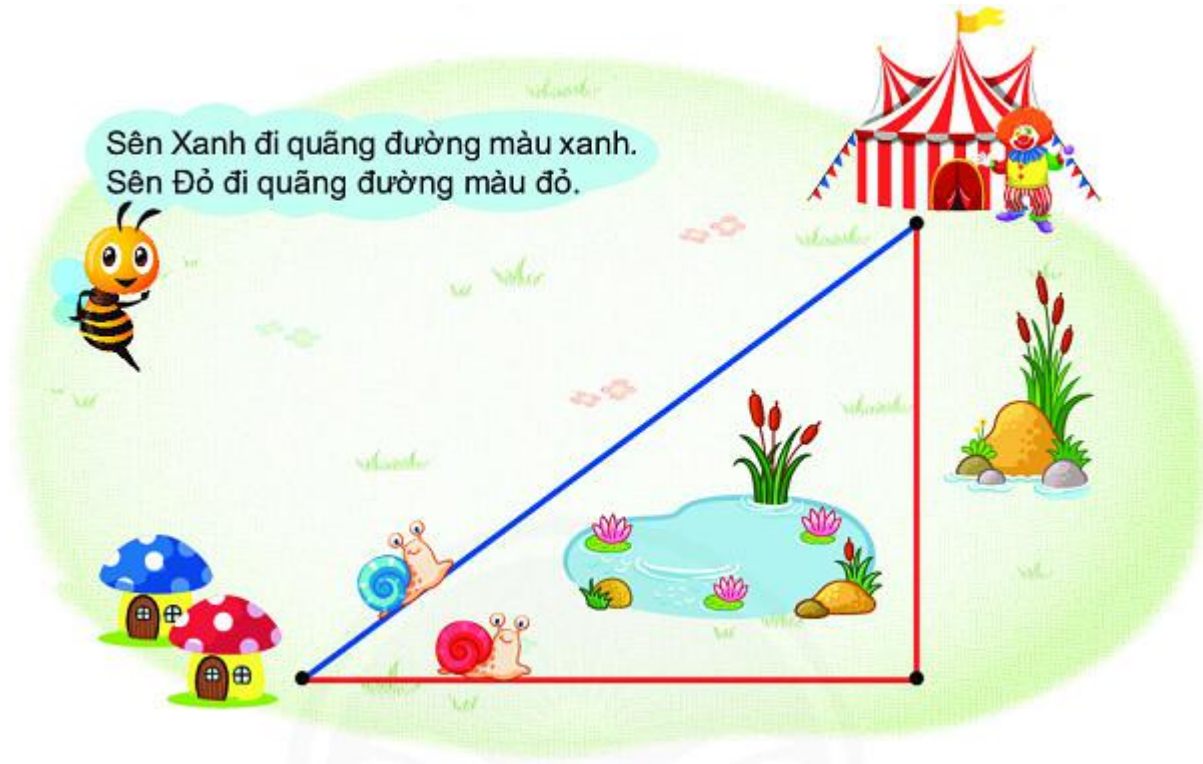
Số trên túi màu xanh da trời là 57; Số trên túi màu hồng là 77.

Vậy ta có kết quả như sau:



Vui học

- a) Dùng thước thẳng đo để biết quãng đường mỗi bạn sên đi dài bao nhiêu xăng-ti-mét.
- b) Quãng đường Sên Xanh đi ngắn hơn quãng đường Sên Đỏ đi bao nhiêu xăng-ti-mét?



Phương pháp giải:

- a) Dùng thước thẳng đo để biết quãng đường mỗi bạn sên đi dài bao nhiêu xăng-ti-mét.
- b) Để tính quãng đường Sên Xanh đi ngắn hơn quãng đường Sên Đỏ đi bao nhiêu xăng-ti-mét ta lấy quãng đường Sên Đỏ đi được trừ đi quãng đường Sên Xanh đi được.

Lời giải chi tiết:

a) Quãng đường Sên Xanh đi dài 10 cm.

Quãng đường Sên Đỏ đi gồm 2 đoạn có độ dài 8 cm và 6 cm.

Ta có: $8\text{ cm} + 6\text{ cm} = 14\text{ cm}$.

Quãng đường Sên Đỏ đi dài 14 cm.


b) Quãng đường Sên Xanh đi ngắn hơn quãng đường Sên Đỏ đi số xăng-ti-mét là:

$$14\text{ cm} - 10\text{ cm} = 4\text{ cm}$$

Bài 5

Bài 5 (trang 97 SGK Toán 2 tập 1)

Quan sát hình ảnh rồi cho biết những chỗ ghi dấu ?, được viết gì.



a) Tàu lửa khởi hành tại ga Sài Gòn lúc .?. giờ tối thứ .?., ngày .?.

b) Tàu lửa đến ga Quảng Ngãi lúc .?. giờ trưa thứ .?., ngày .?.

Phương pháp giải:

Quan sát kĩ hình vẽ rồi trả lời các câu hỏi của đề bài.

Lời giải chi tiết:

a) Tàu lửa khởi hành tại ga Sài Gòn lúc **8** giờ tối thứ **sáu**, ngày **31 tháng mười hai năm 2021**.

b) Tàu lửa đến ga Quảng Ngãi lúc **12** giờ trưa thứ **bảy** ngày **1 tháng một năm 2022**.

Đất nước em

Tìm vị trí Thành phố Hồ Chí Minh và tỉnh Quảng Ngãi trên bản đồ.

Phương pháp giải:

Quan sát bản đồ và tìm vị trí Thành phố Hồ Chí Minh và tỉnh Quảng Ngãi.

►► **CLICK NGAY** vào nút **TẢI VỀ** dưới đây để tải về **Giải bài tập Toán lớp 2: Em làm được những gì trang 96, 97 - Chân trời sáng tạo** file PDF hoàn toàn miễn phí.