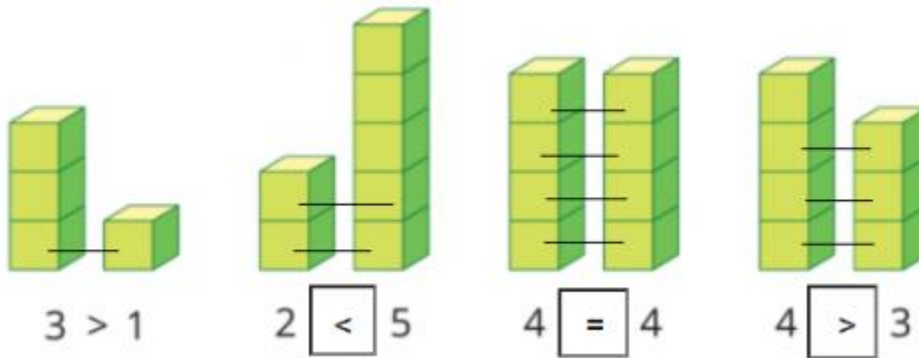


1. >; <; = ? ((Hình vẽ bài 1 trang 24, SGK toán 1)

Hướng dẫn:

Quan sát hình:




- 3 **lớn hơn** 1 điền dấu >.
- 2 **nhỏ hơn** 5 điền dấu <.
- 4 **bằng** 4 điền dấu =.
- 4 **lớn hơn** 3 điền dấu >.

2. >; <; = ? (Hình vẽ bài 2 trang 25, SGK toán 1)

Hướng dẫn:

Quan sát hình:



- 2 **nhỏ hơn** 3 điền dấu <.
- 3 **lớn hơn** 2 điền dấu >.
- 2 **bằng** 2 điền dấu =.

3. a, Tập viết dấu




b, >; <; = ? ((Hình vẽ bài 3 phần b trang 25, SGK toán 1)

Hướng dẫn:

a, Tập viết dấu theo mẫu

b,



- 3 **nhỏ hơn** 5 điền dấu <.
- 4 **lớn hơn** 2 điền dấu >.
- 4 **nhỏ hơn** 5 điền dấu <.
- 5 **bằng** 5 điền dấu =.

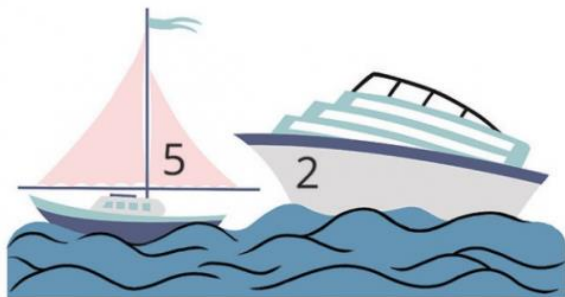
4. Vật nào ghi số lớn hơn trong mỗi hình vẽ sau?

Hướng dẫn:

Quan sát hình:



a, 1 nhỏ hơn 3 nên áo màu hồng ghi số lớn hơn áo màu xanh



b, 5 lớn hơn 2 nên chiếc thuyền mà vàng ghi số lớn hơn chiếc tàu màu xanh.