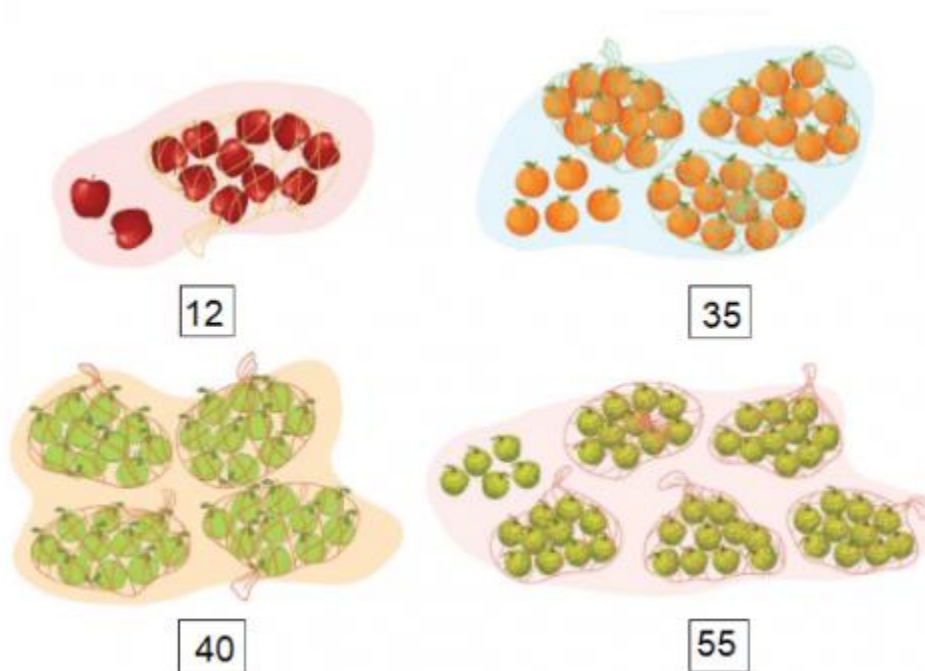


**1. Số? (Hình bài 1 trang 162, SGK Toán 1)**

Hướng dẫn:

Quan sát hình, đếm số quả trong mỗi hình và điền số tương ứng:



**2. a, Đọc các số sau:**



**b, Số? (Bài 2b trang 162, SGK Toán 1)**

Hướng dẫn:

a, Đọc các số trong hình:

- Số hai mươi lăm

- Số ba mươi một
- Số sáu mươi tư
- Số bảy mươi lăm
- Số tám mươi
- Số chín mươi chín
- Số một trăm.

b, Đọc và điền các số thích hợp:

25 gồm  chục và  đơn vị, ta viết  $25 = 20 + 5$

64 gồm  chục và  đơn vị, ta viết  $64 = 60 + 4$

80 gồm  chục và  đơn vị, ta viết  $80 = 80 + 0$

### 3. >; (Bài 3 trang 163, SGK Toán 1)

Hướng dẫn:

So sánh các số rồi điền dấu tương ứng:

56 <input type="text" value="&gt;"/> 8	52 <input type="text" value="&lt;"/> 57	83 <input type="text" value="="/> 83
39 <input type="text" value="&lt;"/> 44	12 <input type="text" value="="/> 12	47 <input type="text" value="&lt;"/> 67
76 <input type="text" value="&gt;"/> 23	19 <input type="text" value="&lt;"/> 82	7 <input type="text" value="&lt;"/> 75

### 4. Sắp xếp các số sau: (Bài 4 trang 163, SGK Toán 1)


a, Theo thứ tự từ bé đến lớn.

b, Theo thứ tự từ lớn đến bé.


Hướng dẫn:

So sánh các số rồi sắp xếp:

a, Các số được sắp xếp theo thứ tự từ bé đến lớn là:



b, Các số được sắp xếp theo thứ tự từ lớn đến bé là:



### 5. (Hình bài 5 trang 163, SGK Toán 1)

a, Em hãy dự đoán trong hình sau có bao nhiêu chiếc cốc:

b, Hãy đếm để kiểm tra dự đoán của mình

Hướng dẫn:

a, Quan sát và dự đoán số cốc có trong hình

b, Đếm số cốc có trong hình:



Có 56 chiếc cốc