

1. Tính: (Bài 1 trang 153, SGK Toán 1)

Hướng dẫn:

Tính các phép tính mà không cần đặt tính:

Cách tính:

– Cộng (trừ) các số đơn vị trước, viết kết quả

– Viết số chục trước số vừa cộng (trừ) được.

$5 + 2 = 7 \quad 8 - 3 = 5 \quad 70 + 10 = 80$

$15 + 2 = 17 \quad 18 - 3 = 15 \quad 80 - 10 = 70$

$65 + 2 = 67 \quad 48 - 3 = 45 \quad 80 - 70 = 10$

2. a, Đặt tính rồi tính:

Nhớ đặt tính thẳng cột

$$\begin{array}{r} 66 + 13 \\ 73 - 31 \end{array}$$
$$\begin{array}{r} 54 + 33 \\ 86 - 20 \end{array}$$
$$\begin{array}{r} 45 + 50 \\ 34 - 24 \end{array}$$
$$\begin{array}{r} 22 + 7 \\ 97 - 3 \end{array}$$
b, Tính: (Bài 2b trang 153, SGK Toán 1)

Hướng dẫn:

a, Đặt tính thẳng cột, rồi thực hiện các phép tính từ phải qua trái, viết kết quả thẳng cột:

$$\begin{array}{r} 66 \\ + 13 \\ \hline 79 \end{array} \quad \begin{array}{r} 54 \\ + 33 \\ \hline 87 \end{array} \quad \begin{array}{r} 45 \\ + 50 \\ \hline 95 \end{array} \quad \begin{array}{r} 22 \\ + 7 \\ \hline 29 \end{array}$$

$$\begin{array}{r} 73 \\ - 31 \\ \hline 42 \end{array} \quad \begin{array}{r} 86 \\ - 20 \\ \hline 66 \end{array} \quad \begin{array}{r} 34 \\ - 24 \\ \hline 10 \end{array} \quad \begin{array}{r} 97 \\ - 3 \\ \hline 94 \end{array}$$

b, Tính các phép tính và ghi kết quả chính xác:

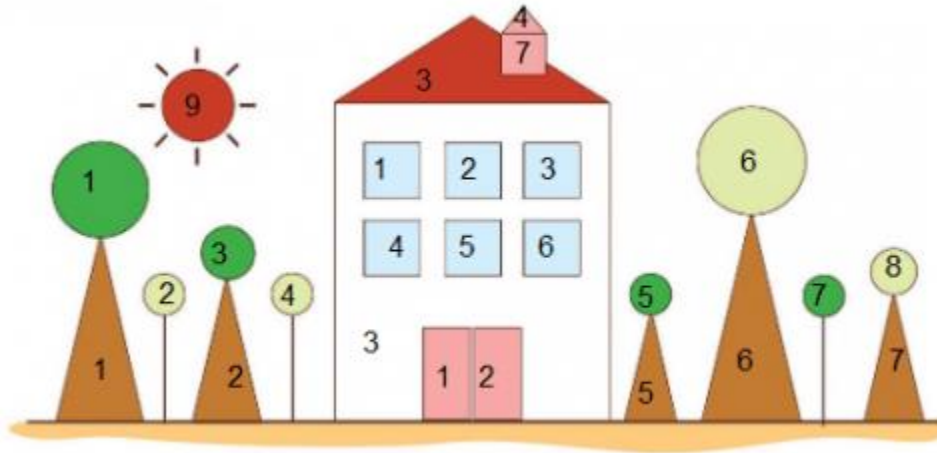
$$50 + 10 - 30 = \mathbf{30} \quad 27 + 10 + 2 = \mathbf{39}$$

$$60 - 20 + 40 = \mathbf{80} \quad 48 - 5 - 20 = \mathbf{23}$$

3. Hình sau có bao nhiêu hình vuông? Hình tròn? Hình tam giác? Hình chữ nhật? (Hình bài 3 trang 154, SGK Toán 1)

Hướng dẫn:

Quan sát hình, đếm số hình vuông, hình tròn, hình tam giác và hình chữ nhật:



- Có 7 hình vuông
- Có 9 hình tròn
- Có 7 hình tam giác
- Có 3 hình chữ nhật

4. a, Đồng hồ nào chỉ 3 giờ?



b, Quay các kim trên mặt đồng hồ để đồng hồ chỉ: 2 giờ; 11 giờ.

c, Đọc tờ lịch dưới đây rồi trả lời các câu hỏi:



– Ngày Sách Việt Nam 21 tháng 4 vào thứ mấy?

– Hướng ứng Ngày Sách Việt Nam, trường Tiểu học Nguyễn Du tổ chức Tuần lễ văn hóa đọc. Nếu khai mạc vào ngày 21 tháng tư thì kết thúc vào thứ mấy?

Hướng dẫn:

a, Quan sát 2 chiếc đồng hồ:

Đồng hồ màu đỏ chỉ 3 giờ

b, Quay các kim đồng hồ để đồng hồ chỉ: 2 giờ; 11 giờ



c, Quan sát hình, đọc tờ lịch:

– Ngày Sách Việt Nam 21 tháng 4 vào **thứ tư**.

– Trường Tiểu học Nguyễn Du tổ chức Tuần lễ văn hóa đọc. Nếu khai mạc vào ngày 21 tháng tư thì kết thúc sẽ vào ngày **thứ tư của tuần sau**.

5. Thanh gỗ dài 85 cm, bác An cắt bớt 35 cm. Hỏi thanh gỗ còn lại dài bao nhiêu xăng – ti – mét?

Hướng dẫn:

Tóm tắt:

Thanh gỗ dài: 85 cm

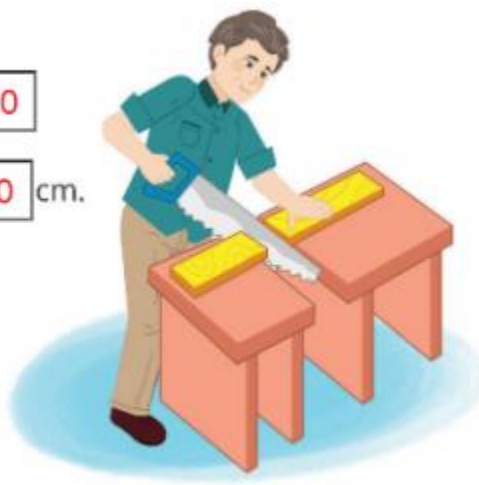
Cắt bớt: 35 cm

Còn lại: ? cm


Muốn tính độ dài thanh gỗ còn lại ta thực hiện phép trừ:

Phép tính: $\boxed{85} - \boxed{35} = \boxed{50}$

Trả lời: Thanh gỗ còn lại dài $\boxed{50}$ cm.



6. Con vật nào cao nhất?



Hướng dẫn:

Quan sát hình,

- Con thỏ cao bằng 8 ô chữ nhật
- Con khỉ cao bằng 7 ô chữ nhật
- Con gấu trúc cao bằng 6 ô chữ nhật
- Con ngựa cao bằng 9 ô chữ nhật

=> Con ngựa cao nhất.